

2022~2023 学年高三核心模拟卷(中)

文科综合(三)

注意事项:

1. 本卷满分 300 分,考试时间 150 分钟。答题前,先将自己的姓名、准考证号填写在试题卷和答题卡上,并将准考证号条形码粘贴在答题卡上的指定位置。
2. 选择题的作答:每小题选出答案后,用 2B 铅笔把答题卡上对应题目的答案标号涂黑。写在试题卷、草稿纸和答题卡上的非答题区域均无效。
3. 非选择题的作答:用签字笔直接答在答题卡上对应的答题区域内。写在试题卷、草稿纸和答题卡上的非答题区域均无效。来源:高三答案公众号
4. 考试结束后,请将本试题卷和答题卡一并上交。

一、选择题:本大题共 35 小题,每小题 4 分,共 140 分。在每小题给出的四个选项中,只有一项是符合题目要求的。

近年来,我国加大了对青藏高原石油资源的勘探范围和力度,并于 2021 年在青藏高原勘探出具有很高开发价值的页岩油。页岩油是指以页岩为主的页岩层系中所含的石油资源,其中包括泥页岩孔隙和裂缝中的石油,也包括泥页岩层系中的致密碳酸岩或碎屑岩邻层和夹层中的石油资源。据此完成 1~3 题。

1. 近年来我国加大了对青藏高原石油资源的勘探范围和力度,主要是为了
 - A. 填补高原能源开采空白
 - B. 保障我国的能源安全
 - C. 提高藏区的城市化水平
 - D. 提高清洁能源的比重
2. 我国在青藏高原石油资源勘探和开发中,首先面临的主要困难是
 - A. 油气储量不足
 - B. 技术难度较高
 - C. 大气透明度低
 - D. 交通运输困难
3. 与其他石油资源相比,页岩油
 - A. 开采成本低
 - B. 流动性较好
 - C. 自然投产快
 - D. 资源潜力大

特色小镇是相对独立于市区,具有明确产业定位、文化内涵和一定社区功能的发展空间平台。特色小镇与城市的关系可以分为三种类型:大城市近郊区、大城市远郊区和农业地区。研究数据显示,农业地区的特色小镇最多,其次是大城市近郊区,而大城市远郊区的特色小镇最少。下表示意某年我国特色小镇数量及占比情况(港澳台数据暂缺)。据此完成 4~5 题。

省份(市、区)	特色小镇(个)	特色小镇所占比重(%)
上海、江苏、北京、广东、浙江、山东	103	25.56
湖南、四川、天津、福建、辽宁、湖北、河南	99	24.57
河北、安徽、贵州、重庆、江西、云南、陕西	94	23.33
广西、山西、内蒙古、吉林、新疆、黑龙江	72	17.87
甘肃、海南、宁夏、青海、西藏	35	8.67

4. 我国特色小镇主要集中在
 - A. 中东部地区
 - B. 西北民族地区
 - C. 东北三省一带
 - D. 西南边疆地区

【高三核心模拟卷(中)·文综(三) 第 1 页(共 12 页)】

5. 与我国特色小镇分布相关性最小的因素是

- A. 资源禀赋
B. 经济水平
C. 交通条件
D. 人口密度

皖南川藏线又称“江南天路”，地处皖东南，位于东南丘陵与长江中下游平原的过渡地带。该线东起宁国市西津街道，西至泾县琴溪镇，全程核心路段 120 km，最高点海拔为 776 m，是国内热门的旅游廊道线路。下图示意皖南川藏线位置。据此完成 6~8 题。



6. 皖南川藏线被称为“江南天路”，主要是因为

- A. 沿线海拔较高，气候高寒
B. 地形复杂，建设难度较大
C. 沿线风景优美，车流量大
D. 野生动物出没，环保严格

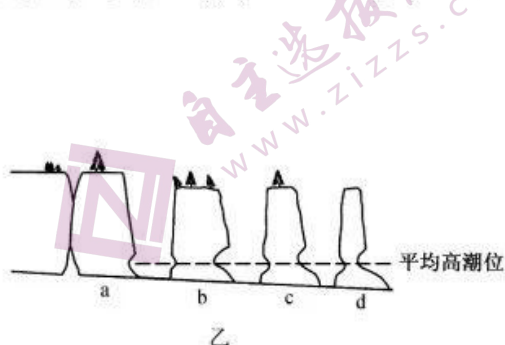
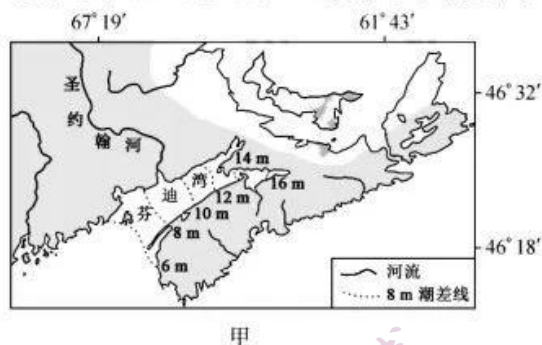
7. 皖南川藏线的关键优势在于

- A. 奇特的高山峡谷景观
B. 独特的人文景观
C. 优越的自驾游线路
D. 交通通达度较高

8. 皖南川藏线沿线核心路段的地带性植被

- A. 多革质叶片
B. 夏绿冬枯
C. 秋冬落叶
D. 老茎生花

芬迪湾位于加拿大新斯科舍省和新伯伦瑞克省之间，呈东北—西南走向，是世界上潮差最大的海湾。加拿大好望角海蚀柱位于芬迪湾附近，巨大的海浪把海岸上的岩石“雕琢”成一个个千姿百态的艺术品。图甲示意芬迪湾地理位置，图乙示意芬迪湾好望角某地海蚀柱与海蚀凹槽分布。据此完成 9~11 题。



9. 图乙中 a、b、c、d 四座海蚀凹槽中

- A. a 形成最早
B. a 形成较 b 早
C. b 形成最晚
D. d 形成较 c 早

10. 芬迪湾是世界上潮差最大的海湾，主要得益于

- A. 海湾地形独特
B. 河流含沙量小
C. 湾口终年不冻
D. 沿岸寒流流经

11. 圣约翰河河口未形成河口三角洲，推测其主要原因是

- A. 涨落潮较频繁
B. 地形较陡，泥沙难沉积
C. 海水侵蚀严重
D. 常绿林广布，含沙量小

12. “怎样产生了这样一种奇怪的现象：市场上一方面有一种人是买者，他们占有土地、机器、原料和生活资料，即占有那些除掉原始状态的土地以外的尽是劳动的产品的东西，另一方面有一种人是卖者，他们除掉自己的劳动力，除掉劳动的手和头，再没有别的东西可卖了”。上述奇怪的现象反映了
- ①无产阶级没有生产资料只能出卖劳动力为生的惨状 ②资本主义制度下资产阶级和无产阶级的阶级对立 ③工业资本家无节制的消费浪费了大量的社会财富 ④资本主义社会的基本矛盾严重阻碍了生产力的发展
- A. ①② B. ①④ C. ②③ D. ③④
13. 习近平总书记指出，我们党领导人民进行社会主义建设，有改革开放前和改革开放后两个历史时期。他强调，对改革开放前的历史时期要正确评价，不能用改革开放后的历史时期否定改革开放前的历史时期。下列支持这一论断的是
- ①党领导全国人民推翻了压在中国人民头上的“三座大山” ②我国建立起了独立的比较完整的工业体系和国民经济体系 ③我国载人航天取得重大进展，航天科技走在了世界的前列 ④科技发展取得重要突破，成为在世界上有重要影响的大国
- A. ①③ B. ①④ C. ②③ D. ②④
14. 2022年8月19日至20日，首届世界职业技术教育发展大会在天津举办。大会发布的《中国职业教育发展白皮书》显示，我国职业学校毕业生就业率连续保持高位，中职、高职毕业生就业率分别超过95%和96%，专业对口就业率稳定在70%以上。上述数据告诉我们
- ①我国政府积极实施就业优先战略 ②我国坚持面向市场需求培养人才 ③劳动密集型产业逐渐不适合国情 ④随着科技的进步高端人才受欢迎
- A. ①② B. ①④ C. ②③ D. ③④
15. 民革北京市委会在北京市政协十三届五次会议上提交的《关于完善我市金融小额诉讼诉源治理机制的提案》，被确定为市领导重点督办提案。2022年8月17日，民革北京市委会组织党员到北京市高级人民法院参加市政协重点提案办理协商会。民革北京市委会的做法
- ①充分说明党的领导离不开党员的先锋模范作用 ②是我国的政党制度能调动一切积极因素的体现 ③表达了自觉接受中国共产党和政府领导的忠诚 ④彰显政协在推进国家治理体系现代化中的作用
- A. ①② B. ①③ C. ②④ D. ③④
16. 2022年8月11日，在嘉兴市宗教界代表人士座谈会上，五大宗教共7位代表人士围绕如何深入学习贯彻习近平总书记关于宗教工作的重要论述，贯彻落实全国宗教工作会议等会议精神，实现“建设宗教中国化和宗教事务治理现代化典范城市”的目标等作了交流发言。从宗教代表人士的交流发言可以看出
- ①在我国，宗教能够与社会主义社会相适应 ②宗教的消极作用已经随着时代进步而消失 ③宗教界拥护党的领导自觉接受政府的管理 ④自主自办的方针在我国宗教界得到了贯彻
- A. ①③ B. ①④ C. ②③ D. ②④
17. “促进全体人民共同富裕是一项长期任务，也是一项现实任务，急不得，也等不得，必须摆在更加重要的位置，脚踏实地，久久为功，向着这个目标作出更加积极有为的努力。”习近平总书记的论断蕴含的哲理是
- ①要想取得成功就要充分发挥主观能动性 ②制定长远目标才能实现整体功能最大化 ③新事物具有强大的生命力前途是光明的 ④量变只有积累到一定程度才会引起质变
- A. ①③ B. ①④ C. ②③ D. ②④
18. 根据《福建省禁止中小学幼儿园学生携带手机进入课堂的规定》，自2022年9月1日起，福建省“禁止中小学幼儿园学生携带手机进入课堂”，学生确有需要将手机带入学校的，可以由其父母或者其他监

- 护人向学校提出书面申请。福建省的上述《规定》
- ①抓住了手机进校园这一个学校全面工作的主要矛盾 ②基于带手机进校园的消极作用成为矛盾的主要方面 ③进一步验证了矛盾的普遍性寓于矛盾的特殊性之中 ④符合矛盾特殊性原理要求坚持了具体问题具体分析
- A. ①② B. ①③ C. ②④ D. ③④
19. 2022年8月24日是第三个“正定古城保护日”。在“喜迎党的二十大古城保护再出发”2022年“正定古城保护日”主题活动现场,正定县小学生代表们集体朗诵的诗歌《正定永远最美》,表达着正定人民对古城的热爱,将活动推向了高潮。设定“正定古城保护日”,有助于
- ①继承传统文化进一步丰富古城文化的基本内涵 ②运用多种文艺形式的作用掌握意识形态领导权 ③认识文化遗产重要性推动古城保护工作的开展 ④涵养家国情怀促进优秀传统文化的创造性发展
- A. ①② B. ①④ C. ②③ D. ③④
20. 苏州河大面积死鱼事件已经发生13起。这些鱼并非野生的,多是市民放生的。有人认为放生可以改变命运,放生可以积累福报,前来放生的人很多。由于市民放生的鱼大多是从市场购买的,这些人工养殖的鱼不易适应苏州河的水所以会很快死去。可见
- ①绿色文化深入人心人们环保意识增强 ②落后文化对社会发展的危害不容忽视 ③要提高识别落后文化与腐朽文化的眼力 ④弘扬科学精神普及科学知识任重道远
- A. ①② B. ①③ C. ②④ D. ③④
21. 2022年中国国际服务贸易交易会于2022年8月31日至9月5日在北京举办。本届服贸会超过400家的世界500强以及国际龙头企业线下参展,整体国际化率达到20.8%,比上一届提升近3个百分点。我国成功举办国际服贸会
- ①说明我国已经顺利实现引进来取代走出去的跨越 ②向世界宣示了我彻底取消外资准入门槛的决心 ③有助于贯彻开放发展理念促进服务贸易开放合作 ④能够加快构建更高水平开放型经济新体制的步伐
- A. ①② B. ①③ C. ②④ D. ③④
22. 周某娣因交通事故而亡,留有遗产。周某娣无子女,其丈夫、父母、祖父母、外祖父母均先于其死亡。被告周某菊与周某娣为亲姐妹,周某娣名下遗产由周某菊掌管。周某娣生前由其丈夫的外甥女原告杨某英长期照顾,周某菊与周某娣几无联系。现原告杨某英诉至法院要求被告周某菊返还周某娣的遗产。下列对该案的分析正确的是
- ①杨某英无扶养义务却扶养周某娣,可酌情分得部分遗产 ②周某菊作为第一顺序继承人应该继承周某娣全部遗产 ③法院可酌定周某娣遗产由杨某英、周某菊各得50% ④必须尊重死者生前通过遗嘱处分个人合法财产的意思
- A. ①② B. ①③ C. ②④ D. ③④
23. 古希腊著名诡辩家欧布利德斯对一个人说:“你没有失掉的东西,就是你的东西,对不对?”那人回答:“当然对呀!”接着欧布利德斯又说:“你没有失掉头上的角,那就是你是头上有角的人了。”那人被弄得莫名其妙,又不知道怎样反驳。如果把欧布利德斯的推理看成是一个三段论,他的错误是
- A. “四概念”的错误 B. “中项不周延”的错误
C. “大项不当扩大”的错误 D. “小项不当扩大”的错误
24. 自武王伐纣代商而兴之后,周人将天命与君主的道德牵系在一起。《尚书》中塑造了两个截然相反的君主形象,即文王的圣王形象和纣王的暴君形象。《周书》中也有成王祭祀上帝,行籍田之礼,亲率百官、农夫播种百谷,共同劳作的记载。周人这些做法旨在
- A. 确立君主集权 B. 强化祭祀活动
C. 构建政治认同 D. 体现家国一体

25. 下图所示为一份考古发现的公元 701 年沙州敦煌县悬泉乡籍记录。据此可知,当时

户主邴寿寿年五十六岁	白丁	课户见输
女娘子年十三岁	小女	
亡弟妻孙年三十六岁	寡	
计布二丈五尺		
计麻三斤		
计租二石		
四十四亩已受	二十亩水业	
	二十三亩□分	
	一亩居住园宅	
合应受田一顷三十一亩		
	八十七亩未受	

- A. 小农经济大量破产
B. 中央政府的权力式微
C. 国家严控土地交易
D. 土地私有制继续深化
26. 程颐指出:“仁,理也;人,物也。以仁合在人身言之,乃是人之道也。”陆九渊说:“仁义者,人之本心也”,并说“夫子曰:‘吾道一以贯之。’孟子曰:‘夫道一二已矣。’又曰:‘道二,仁与不仁而已矣。’如是则为仁,反是则为不仁,仁即此心也、此理也”。据此可知,宋明理学
- A. 继承和发展了孔孟儒学
B. 重构了儒家的精神道统
C. 促使先秦民本思想复苏
D. 巩固了儒学的主导地位
27. 自雍正时起,清政府在西南大规模推行“改土归流”政策,逐步取消土司世袭制度,任命有任期、可调动的流官,进行清查户口、丈量土地、核实赋税等工作。在改流之地行政设置与内地划一的同时,其他的管理体制也仿内地一并推行。如设巡检司,专司盘查;派兵驻扎,以资防守。清政府采取的这些举措
- A. 旨在促进民族间的文化交流
B. 加强了中央对边疆地区的治理
C. 体现出民族交流趋于多元化
D. 说明民族平等政策得到了贯彻
28. 太平天国在政权建立之初就提出了“万国皆可通商”的政策,而当太平天国将帅发现洋枪洋炮的威力后,多方求购并仿造西方武器,延揽洋人采购军火、培养将上、参与军事。英国人哈利在太平天国供职四年,为太平天国招募外国志愿军,采办军火,组织教练军。据此可知,太平天国运动
- A. 得到了英国的大力支持
B. 具有进步的历史新趋向
C. 推动了洋务运动的开展
D. 尚未认清外国侵略本质
29. 1912~1926 年的湖北省,全省兴办万元以上规模工厂的投资总额达到 3 000 万元,相当于清末 25 年的投资总和。民营轻工业成为民(国)初工业发展主角,湖北省早期工业化因之进入了较快发展阶段。这可用来说明当时湖北省
- A. 官办工业深陷无解困局
B. 工业区域布局日趋合理
C. 传统自然经济彻底瓦解
D. 经济运行环境得到改善
30. 右图是创作于 1936 年的漫画《一个参加救亡运动的父亲》。图中一位亲历过八国联军侵华的父亲对他的儿子说:“爱子,我的左腿便是三十年前在那座城门楼子底下被打伤的。”可见,该漫画意在
- A. 控诉日本帝国主义侵华罪行
B. 希望建立抗日民族统一战线
C. 呼吁民众积极投入抗日阵营
D. 抨击国民政府的不抵抗政策
31. 有学者说:“新中国成立以来,从市场经济视域的逻辑演进来看,我国经历了一个由政府控制一切的权能主义模式到由计划向市场转轨时期的政府、市场和社会相互博弈的转型模式,再到社会主义市场经济完善深化时期的政府、市场和社会协同共治的模式。”以上变化反映了



- A. 政府对资源配置的作用加强
B. 国家治理效能不断提升
C. 改革开放持续增强发展动力
D. 经济结构调整步伐加快

32. 下表所示为古代印加帝国的社会调控机制。印加帝国建立的这一系列机制


主要方面	主要表现
社会组织、管理	严密的居民编制及土地、税务调配制度
宗教机制	推崇太阳神,神化印加诸王。不反对人们在信仰太阳神的同时,保持对原有神灵的崇拜
物质调配制度	对沿海地区、高原地区、亚马逊森林地区的物品根据不同需求进行调配
处罚制度	对不同的犯罪活动制订了相应的处罚措施

- A. 推动了印加文明走向世界
B. 保障了君主的绝对权威
C. 有利于维护统治阶级利益
D. 维系了帝国的长治久安
33. 马丁·路德认为,基督徒是全然自由的万人之主,不受任何人管辖;同时又是全然顺服的万人之仆,要甘心为社会精神和物质的幸福去尽仆役之责,遵守天职、持之以恒、工作到老。马丁·路德的宗教观
- A. 推动了民主思想的广泛传播
B. 巩固了《圣经》的权威地位
C. 反映了资本主义发展的要求
D. 未能摆脱天主教的财富观
34. 1781年美国《邦联条例》颁布以来,一套新观念似乎正在发展。一开始,没有人想到要召开人民的或者由人民明确授权的制宪会议,议会曾经被认为“有能力”制定或修订宪法。但是,现在有人说议会能够变更宪法的话,就会被认为是新奇和危险的。这反映出美国
- A. 权力的制约得到有效实施
B. 联邦制协调了各州的矛盾
C. 议会至上的原则遭到破坏
D. 政治体制抑制了人民主权
35. 2022年6月8日,联合国秘书长全球危机应对小组(GCRG)发布第二份关于粮食、能源和金融系统的最新报告,称在新冠疫情和气候危机及俄乌冲突下,全球食品、能源和化肥市场遭受的价格冲击正不断升级。报告称,估计94个国家的16亿人至少面临其中一项危机局面。对此理解最准确的是
- A. 能源危机是当今社会发展的障碍
B. 全球化加大了全球竞争中的利益失衡
C. 逆全球化成为世界经济发展主流
D. 全球化使传统社会问题呈现全球共性

二、非选择题:本大题包括9小题,共160分。

36. 阅读图文材料,完成下列要求。(18分)

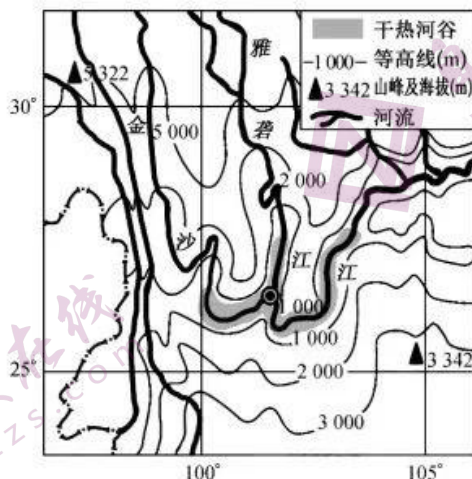
黄土具有湿陷性、垂直节理发育、崩解性等鲜明特征,在地形地貌和人文气候等条件的共同影响下,黄土高原地区出现了形状各异、深浅不一的落水洞(是地表水流入地下的进口,表面形态与漏斗相似)。下图示意黄土高原局部地区落水洞的发育与边坡位置关系。



- (1) 说明黄土高原地区降水季节变化状况对落水洞地貌发育的影响。(6分)
- (2) 指出图示地区落水洞地貌的分布特点,并分析原因。(8分)
- (3) 阐释人类活动对图示地区落水洞地貌形成的主要促进作用。(4分)

37. 阅读图文材料,完成下列要求。(20分)

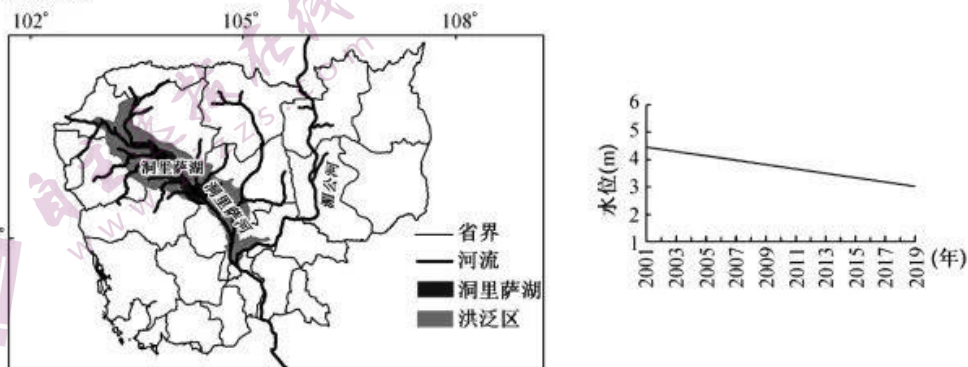
梨果仙人掌是一种因果实形状像梨而得名的仙人掌,原产于墨西哥,于明朝万历年间引入我国。梨果仙人掌生长周期长达数年,果实味美可食,具有多重药理作用,在四川、贵州、广东、福建、台湾等省份均有栽培。其中,我国横断山区的干热河谷梨果仙人掌已经形成野生种群,成为优势分布区,闲暇时当地人会采摘一部分在路边售卖,但在产地之外鲜得一见。下图示意横断山区局部地区干热河谷分布。



- (1) 分析横断山区干热河谷成为梨果仙人掌优势分布区的主要原因。(6分)
- (2) 梨果仙人掌在产地之外鲜得一见,对此作出合理解释。(6分)
- (3) 简述横断山区发展梨果仙人掌产业可采取的主要对策。(8分)

38. 阅读图文材料,完成下列要求。(18分)

洞里萨湖是东南亚最大的淡水湖和湿地生态系统,通过洞里萨河与湄公河相连通,该湖因其独特的洪水涨落而闻名,在湿润西南季风为主导的时期发挥着区域防洪功能。与洞里萨湖相连通的洞里萨河,是世界上唯一一条因季节不同而逆转流向的河流。下图示意洞里萨湖地理位置和2001~2019年该湖水位变化。



【高三核心模拟卷(中)·文综(三) 第7页(共12页)】

- (1) 简析洞里萨河河水出现逆转流向的主要原因。(4分)
- (2) 推测 2001~2019 年洞里萨湖水位状况的成因。(8分)
- (3) 简述 2001~2019 年洞里萨湖水位状况产生的不利影响。(6分)

39. 阅读材料,完成下列要求。(14分)

为了评选出“人民满意的公务员”和“人民满意的公务员集体”,中共中央办公厅、国务院办公厅印发的《关于做好全国“人民满意的公务员”和“人民满意的公务员集体”推荐评选工作的通知》明确提出,各推荐单位要全面考察推荐对象的政治素质、工作业绩和一贯表现,确保推荐对象的先进性、代表性和时代性。

2022年8月30日,全国“人民满意的公务员”和“人民满意的公务员集体”表彰大会在北京举行。习近平总书记亲切会见受表彰代表,向他们表示诚挚问候和热烈祝贺,勉励他们牢记使命责任、勇于担当作为。

韩正在表彰大会上宣读《中共中央、国务院关于表彰全国“人民满意的公务员”和“人民满意的公务员集体”的决定》。决定指出,在党的二十大即将召开之际,为表彰先进典型、弘扬奋斗精神,激励动员广大公务员和公务员集体奋进新征程、建功新时代,党中央、国务院决定,授予朱琴等 397 名同志全国“人民满意的公务员”称号;授予北京丽泽金融商务区管理委员会等 198 个集体全国“人民满意的公务员集体”称号。

王沪宁在大会上讲话。他表示,党的十八大以来,习近平总书记围绕建设人民满意的公务员队伍作出一系列重要论述,为做好新时代公务员工作提供了根本遵循。新征程上,广大公务员要带头坚持以人民为中心、做密切联系群众的表率,带头贯彻新发展理念、做推动高质量发展的表率,带头遵守制度、做制度执行的表率,带头立德修身、做涵养廉洁文化的表率。要加强党对公务员工作的领导,努力建设一支让党放心、让人民满意的高素质专业化公务员队伍。

- (1) 结合材料并运用归纳推理的知识,谈谈你对全面考察推荐对象的政治素质、工作业绩和一贯表现的认识。(6分)
- (2) 结合材料并运用价值观的知识,说明提出“建设一支让人民满意的高素质专业化公务员队伍”目标的合理性。(8分)

40. 阅读材料,完成下列要求。(12分)

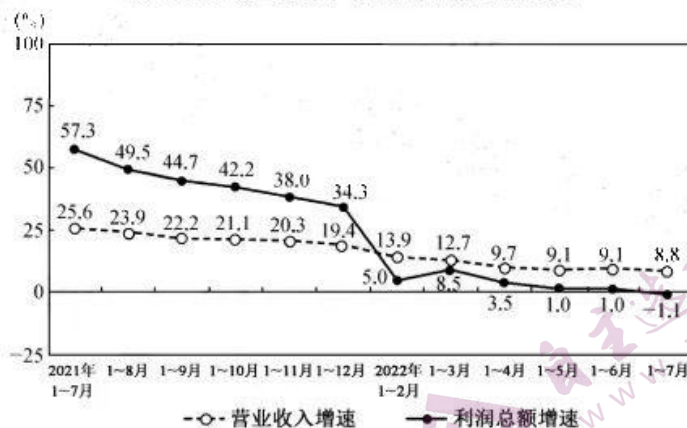
泰国天丝公司与案外人签订合资合同,约定成立合资公司,即红牛公司。泰国天丝公司为红牛公司提供产品配方、工艺技术、商标和后续改进技术。双方曾约定,红牛公司产品使用的商标是泰国天丝公司的资产。经查,17枚“红牛”系列商标的商标权人均均为泰国天丝公司。其后,泰国天丝公司与红牛公司先后就红牛系列商标签订多份商标许可使用合同,红牛公司支付了许可使用费。此后,红牛公司针对“红牛”系列商标的产品,进行了大量市场推广和广告投入。红牛公司和泰国天丝公司均对“红牛”系列商标进行过维权及诉讼事宜。后红牛公司向北京市高级人民法院提起诉讼,请求确认其享有“红牛”商标权,并判令泰国天丝公司支付广告宣传费用37.53亿元。

结合材料并运用法律与生活知识,分析北京市高级人民法院应如何对该案进行判决。

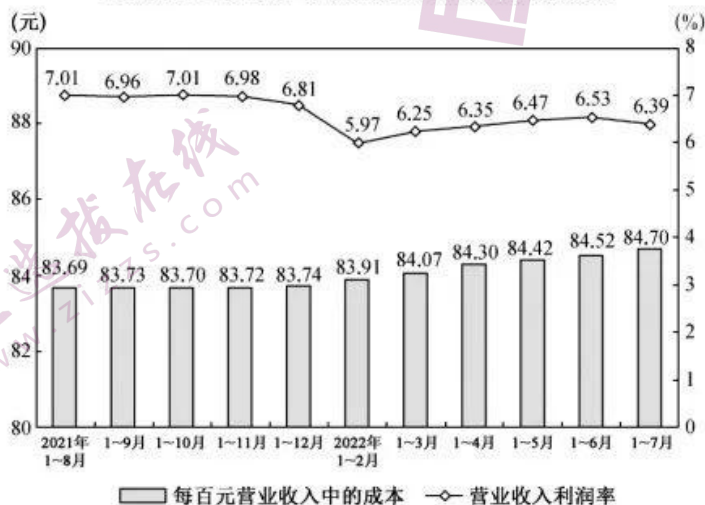
41. 阅读材料,完成下列要求。(26分)

材料一 2022年8月27日,国家统计局发布全国规模以上工业企业经营状况,如图:

各月累计营业收入与利润总额同比增速



各月累计利润率与每百元营业收入中的成本



【高三核心模拟卷(中)·文综(三) 第9页(共12页)】

2022年以来,乌克兰危机深化演变,国内疫情出现多发散发的情况,突发因素超出预期。国家统计局工业司高级统计师朱虹认为,我国部分行业市场需求不足凸显,经营压力有所增加,加之国内外环境更趋复杂严峻,工业经济持续稳定恢复仍需付出艰苦努力。

近十年来,中国经济年均增长率6.6%,居世界主要经济体的前列,远高于2.6%的同期世界平均增速和3.7%的发展中经济体平均增速。中国对世界经济平均贡献率达到了38.6%,超过七国集团国家贡献率的总和。2021年,中国的GDP占世界经济总量的比重达到18.5%,较10年前提高了7.2个百分点;2021年,中国的对外贸易总额6.9万亿美元,较10年前增长了56.8%,中国稳居世界第二大经济体和第一大贸易国。

材料二 2022年7月7日,英国首相鲍里斯·约翰逊在首相府外发表辞职声明。三年前,约翰逊出任英国首相时,他的支持率达到70%;而今,有接近70%的英国人希望他下台。

外界分析认为,至少是这3件事彻底压垮了他:首先是用人失察,因包庇副党鞭克里斯托弗·平彻的丑闻,从而引发舆论对约翰逊是否明知其品行问题仍委以重任的质疑。其次是丑闻缠身,例如,2021年年底开始曝光的约翰逊及其政府工作人员在新冠疫情期间违反防疫规定聚会的丑闻,重挫他及政府的声望。最后就是通胀控制不力,英国2022年5月消费者价格指数(CPI)由上个月的9%升至9.1%,创1982年3月以来最高纪录。有评论称,英国正处于数十年来最严重的生活成本危机中,通胀达到了40年来最高的水平,民众不满声音比较多。

(1)结合材料一并运用经济与社会知识,说明我国政府应如何促进我国工业经济持续稳定恢复。

(8分)

(2)结合材料一并运用当代国际政治与经济知识,说明新冠疫情肆虐全球的背景下,我国工业经济持续稳定恢复的世界意义。(8分)

(3)结合材料二并运用政治与法治知识,说明约翰逊的辞职给我国政府的启示。(10分)

42. 阅读材料,完成下列要求。(25分)

材料一

北宋前期三司统领财政,“国家用调责之三司,三司责之转运使,转运使责之州,州责之县,县责之民”,形成“三司统发运,发运统诸路,一路之漕臣统诸州,上下相维之势”……熙宁变法设立朝廷财政的同时建立了从中央到地方的司农寺—常平司—常平给纳官管理系统,朝廷财政“付司农寺系帐,三司不问出入”,甚至“虽天子不可得而用”。北宋商税收入最高时达2200万贯,此一项即超过唐代财政现钱收入的最高额。茶、盐、酒的禁榷更是北宋重要财政来源。青苗法和市易法是政府直接参与市场经营,以官钱为本,经营牟利。宋朝建立财政拨款、赋税性收入和经营性收入等社会保障体系的多种财政支持机制。内藏、朝廷、三司(户部)拨款,不论储备财政,还是“经费”财政,都会用于各类赈济。王安石变法则将“平准”“赈济”常平旧模式变成了“经营”性新常平机制。医疗救济的和剂局也是出售药物循环做本。

——摘编自黄纯艳《北宋财政体制多有创新》

【高三核心模拟卷(中)·文综(三) 第10页(共12页)】

材料二

2013年至2021年中国新增减税降费累计8.7万亿元。2013年至2021年底,全国新办涉税市场主体9315万户,年均增加逾千万户。面对新冠肺炎疫情的冲击,提高赤字率、发行抗疫特别国债、增加地方政府专项债券额度、实施更大规模减税降费等措施接连落地。财税政策有力保障重点领域支出,为质量变革、效率变革、动力变革提供坚实的制度支撑。逐步调整完善中央与地方收入划分,改革和完善中央对地方转移支付制度,使中央财政事权、地方财政事权、中央与地方共同事权划分更加明确,更好保障各级政府履职尽责和推进基本公共服务均等化。我国现行18个税种中,立法的税种已达12个。编制并公布各级税务机关权责清单,全面推行行政执法公示、执法全过程记录、重大执法决定法制审核“三项制度”,税务执法行为更加规范。“网上办、掌上办、码上办”,智慧税务让企业在办税缴费上省了不少力气。

——摘编自朱豫《现代财政制度框架基本确立,现代税制体系初步建立为经济持续健康发展提供坚实保障》

- (1)根据材料一并结合所学知识,分析北宋财政体制多有创新的原因,并说明其影响。(14分)
- (2)根据材料二,概括十八大以来我国财政治理方面采取的主要措施,并综合上述材料谈谈你的认识。(11分)

43. 阅读材料,完成下列要求。(12分)

材料

“西方中心论”作为一种文明观,始终围绕着“西方文明优越”这一价值内核展开,其发展过程分别通过“种族优越论”“制度优越论”和“文化优越论”被加以表达。与“西方中心论”所传递的主客对立、多元冲突思维不同,人类命运共同体“文明共生论”的核心价值理念是以主体成员间的地位平等为基础来实现不同文明体的共存共荣。从“文明优越”到“文明共生”,反映了人类命运共同体作为一种全新的建构性方案对“西方中心论”的理论破解,这种破解又与超越资本主义文明、超越资本现代性对人类社会发展的现实困境的实践要求相一致。

——摘编自管俊玮《从“文明优越”到“文明共生”——破解“西方中心论”》

根据材料并结合所学知识,围绕“西方中心论”这一文明观,拟定一个具体的论题,并运用所学知识对其进行简要阐述。(要求:观点明确,史实准确,史论结合,逻辑清晰。)

44. 阅读材料,完成下列要求。(15分)

材料一

辛亥革命时期,妇女解放思想和主张的广泛传播,使得大部分先进知识妇女开始觉醒。一些女留学生在海外扩大了视野,增长了见识,开始创办妇女报刊,自己起来为妇女解放呼喊。当时在上海、北京先后出版了《女学报》《女界月报》《北京报》《上海天足会报》《中国妇人小杂志》《女子世界》《中国女报》《神州女报》《中国新女界》等妇女报刊,以西方资产阶级的自由平等、天赋人权学说为思想武器,鼓动妇女参加革命,争取政治上的民主权利;要求经济自立,争取工作权利;主张家庭革命,革去夫为妻纲、父为子纲,获得婚姻自由等。这些观点和主张,反映了中国妇女要求冲破封建禁锢,争取自身解放的强烈愿望,汇集成了一股强大的不可逆转的社会潮流。

——摘编自徐静《辛亥革命时期的妇女解放运动》

材料二

1922年7月16日,在中国共产党第二次全国代表大会上通过的《中国共产党第二次全国代表大会关于妇女运动的决议》中明确指出,中国共产党除保护女劳动者的利益外,应为所有被压迫妇女的利益而奋斗。1922年10月,中国共产党以上海女界联合会的名义创办了第一所新型妇女学校——上海平民女校,平民女校为党培养出一批优秀的妇女干部。1928年,我党制定的第一部土地法《井冈山土地法》规定,“以人口为标准,男女老幼平均分配”,奠定了保障妇女平等享有土地权益的基本法律原则。1943年《关于各抗日根据地目前妇女工作方针的决定》指出:“妇女参加生产是保护妇女切身利益最中心的环节。”早在土地革命时期,中共中央就明确提出“反对虐待妇女”“反对虐待童养媳”。抗战时期,在陕甘宁边区、晋察冀边区等根据地,党和政府在反对家庭暴力方面进行了诸多实践。1937年9月,中共中央组织部立即发布《妇女工作大纲》,将“动员广大的妇女群众,参加抗日战争动员的各方面”规定为妇女运动总的任务,并特别将“注意发动与组织劳动妇女”作为共产党妇女工作的路线;明确规定,应该对广大劳动妇女——尤其是农村妇女进行艰苦繁杂的教育工作,动员和组织工作。

——摘编自郭海文《新民主主义革命时期妇女解放“路线图”》

- (1) 根据材料一,概括辛亥革命时期妇女解放运动的特征。(6分)
- (2) 根据材料一、二并结合所学知识,说明新民主主义革命时期妇女解放运动的新发展。(9分)

地理部分(三)

1. B 分析可知,近年来随着我国社会经济的快速发展,生产生活和各行各业对能源的需求量不断增多,而现有已发现和可开采的煤炭、石油、天然气等能源资源基地基本上都处于开采后期,可开采的能源储量日益减少,而青藏高原是我国唯一石油资源没有进行大规模勘探和开采利用的地区,加大对该地区石油资源的勘探范围和力度,有利于保障我国的能源安全,促进我国社会经济的可持续发展。
2. D 据所学知识可知,青藏高原地处我国西南部,海拔高,气温低,空气稀薄,大气透明度高,地势险峻多变,地形复杂,冻土广布,自然环境恶劣,交通不便,石油资源勘探和开发设备运送困难,石油资源外运困难。
3. D 结合材料分析可知,与其他石油资源相比,页岩油层致密,原油富集在泥页岩孔隙和裂缝以及致密碳酸岩或碎屑岩邻层和夹层中,流动性较差,开采难度大,开采成本高,资源潜力大。
4. A 据表中信息可知,我国中东部地区经济发展水平高,特色小镇数量多,所占比重最大。
5. C 结合材料及表中信息可知,我国经济发达地区特色小镇数量较多,经济发达地区人口密度较大,说明经济水平、人口密度与特色小镇分布相关性较大;农业地区的特色小镇最多,大城市远郊区的特色小镇最少,说明资源禀赋(是指一个地区拥有的各种生产要素,包括劳动力、资产、土地、技术和管理等方面)与特色小镇分布相关性较大,交通条件与特色小镇分布相关性较小。
6. B 由材料分析可知,皖南川藏线所经地区地形地貌复杂,公路曲折惊险,与川藏线所经地区的地形地貌具有相似之处,建设难度较大,所以被称为“江南天路”。
7. C 结合所学知识分析可知,皖南川藏线沿途道路曲折惊险,自然景观别致,地形地貌复杂多变,能为旅游者提供别样的自驾体验,使得其成为国内热门的旅游廊道线路。
8. A 结合图文材料分析可知,皖南川藏线位于东南丘陵与长江中下游平原的过渡地带,核心路段的最高点海拔为 776 m,沿线地带性植被以常绿阔叶林为主,森林常绿,乔木多革质叶片。夏绿冬枯是温带草原植被的特点,秋冬落叶是落叶阔叶林植被的特点,老茎生花是热带雨林植被的特点。
9. D 据图乙中 a、b、c、d 四座海蚀凹槽的形态可知,d 海蚀柱基部之上两侧的凹槽宽度最小,反映出该处海蚀凹槽形成时间最早,长期受海水的侵蚀,基部之上两侧凹槽间石柱部分宽度最小,据此可推测 a、b、c、d 四座海蚀凹槽形成的先后顺序为 d、c、b、a。
10. A 据图分析可知,芬迪湾湾外宽而深,湾内窄而浅,开口正对着潮流进出的方向,涨潮时能量集中,导致水位大幅度上涨,而形成特大的潮差。
11. B 据图文材料并结合所学知识分析可知,圣约翰河河口未形成河口三角洲说明河流携带的泥沙没有在入海口处沉积

下来,最可能是因为入海口地区地形较陡,泥沙难以沉积。

36. (1)(黄土高原地区降水季节变化显著,)降水较大的季节,雨水与流水对黄土的下蚀作用增强,利于落水洞发育;降水少的季节,黄土因失水干缩产生垂直节理裂隙,使黄土的渗透性更大,增强雨季来临时雨水和水流的侵蚀作用;如此不断循环交替,导致黄土高原地区落水洞不断发育并扩大。(合理即可,6分)

(2)分布特点:落水洞主要发育在坡顶和(局部)坡面,坡脚处发育少。(2分)原因:坡顶汇水面积大,流水侵蚀作用强,坡顶地势较高,重力作用显著,雨水与地表水的垂直下渗和湿陷性显著,利于落水洞发育;(局部)坡面坡度较陡,植被覆盖较差,流水对土层的冲蚀作用较强,利于落水洞发育;坡脚坡度较小,流水侵蚀作用弱,加之坡顶、坡面水流携带泥沙至此处沉积,导致落水洞发育少。(每条2分,共6分)

(3)在坡脚削坡建房会形成大量的高陡边坡,利于落水洞地貌的形成;生活污水集中就近向沟内排放以及农业的大水漫灌,水流冲刷边坡并沿裂缝下渗,导致局部产生小型滑塌,利于落水洞地貌发育;坡顶地块相对平整,适宜耕作,毁林开荒,破坏植被,流水对土层的冲蚀作用强,利于落水洞地貌发育。(每条2分,答对2条得4分,共4分)

37. (1)横断山区干热河谷的气候条件与梨果仙人掌原产地类似,适宜其生长;横断山区干热河谷分布广,适宜梨果仙人掌生长的空间大;山高谷深,受人为干扰少;为外来物种,天敌少等。(每条2分,答对3条得6分,共6分)

(2)以野生为主,没有形成规模化种植;生长环境特殊,适宜生长地形复杂、经济相对落后,果实外运不便;在我国发展历史短,知名度低等。(每条2分,共6分)

(3)人工引种,进行规模化种植;改良品种,缩短生长年限;推行“公司+农户”模式,降低风险,提高农户积极性;进行技术指导,提升种植技术,提高产品品质;加大科技投入,延长产业链等。(每条2分,答对4条得8分,共8分)

38. (1)地处热带季风气候区,雨季时,湄公河水位上涨,高于洞里萨河,河水由湄公河流入洞里萨河;旱季时,湄公河水位下降,低于洞里萨河,河水由洞里萨河流入湄公河。(每条2分,共4分)

(2)入湖河流水电站建设,水库蓄水,导致入湖水量减少;入湖河流沿岸用水增加,大量截留河水,导致入湖水量减少;湖区周边农业灌溉耗水量增大;湖区周边生产生活用水量增加;全球气候变暖,蒸发量增大等。(每条2分,答对4条得8分,共8分)

(3)(湖泊水位下降,)湖区蒸发减少,近地表气温升高,加剧旱季干旱程度;湖水循环作用减弱,水质恶化;部分湖床可能裸露,湖底水生植物退化,湖泊生态系统失衡;湖泊调蓄功能下降,雨季易引发洪涝灾害等。(每条2分,答对3条得6分,共6分)

政治部分(三)

12. A 材料描述的是资本家占有一切生产资料,失去生产资料的劳动者不得不出卖劳动力,受雇佣资本家,成为雇佣工人,①②入选;材料中的“买”的是劳动力,不是生活消费,这种消费是社会再生产的需要,不是浪费,排除③;材料不涉及资本主义社会的基本矛盾阻碍了生产力的发展,排除④。
13. D 建立起了独立的比较完整的工业体系和国民经济体系,科技发展取得重要突破,成为在世界上有重要影响的大国,都是党领导人民进行社会主义建设,改革开放前取得的成就,②④入选,推翻三座大山是新民主主义革命的成就,不是社会主义建设成就,排除①;载人航天是改革开放后的成就,排除③。
14. A 我国中职、高职毕业生就业率分别超过95%和90%,专业对口就业率稳定在70%以上,告诉我们,我国政府积极实施就业优先战略,我国培养的人才适合市场需要,①②入选;上述数据不涉及劳动密集型产业问题,排除③;上述数据不涉及高端人才,排除④。
15. C 民革北京市委在政协会议上提交《关于完善我市金融小额诉讼源治理机制的提案》,该提案被确定为市领导重点督办提案,并组织党员参加市政协重点提案办理协商会,是我国的政党制度能调动一切积极因素的体现,也彰显政协在推进国家治理体系现代化中的作用,②④入选;材料中的党员不是中国共产党党员,与先锋模范作用无关,排除①;政协接受中国共产党的领导,但不接受政府领导,排除③。
16. A 发言围绕学习习近平总书记关于宗教工作的重要的论述,贯彻落实全国宗教工作会议等会议精神,是拥护党的领导自觉接受政府的管理的体现,实现“建设宗教中国化和宗教事务治理现代化典范城市”的目标则体现了我国宗教能够与社会主义社会相适应,①③入选;宗教能够发挥积极作用,并不意味着其消极作用的消失,②不选;宗教人士的发言没有涉及自主自办的方针,排除④。
17. B 促进全体人民共同富裕等不得,必须脚踏实地,久久为功,更加积极有为的努力,强调要充分发挥主观能动性,要通过量的积累为质变做准备,①④入选;实现整体功能最大化需要制定整体目标而不是长远目标,②不选;总书记主要强调的是共同富裕任务的长期性,而不是前途光明,排除③。
18. C 禁止中小学幼儿园学生携带手机进入课堂是基于学生的手机进校园的消极作用大于积极作用,允许确有需要的学生申请带手机进学校,坚持了具体问题具体分析,②④入选;学校工作的中心是教学,手机进校园不是主要矛盾,①不选;福建省的规定没有涉及普遍性寓于矛盾的特殊性之中的原理,排除③。
19. D 设定“正定古城保护日”,有助于认识文化遗产重要性推动古城保护工作的开展,有助于涵养家国情怀促进优秀传统文化的创造性发展,③④入选;应继承的是优秀传统文化,①不选;设定“正定古城保护日”,不涉及掌握意识形态工作领导权,排除②。
20. C 为了改变命运、积累福报,放生不易适应苏州河水的人工养殖鱼,导致鱼死亡,显示出②④符合题意;材料不涉及人们环保意识增强,排除①;材料不涉及腐朽文化,排除③。
21. D 我国成功举办服贸会,有助于贯彻开放发展理念促进服务贸易开放合作,也能够加快构建更高水平开放型经济新

- 体制的步伐,③④入选;我国对外开放坚持“引进来”和“走出去”相结合,而不是引进来取代走出去,排除①;我国不断降低外资准入门槛而不是取消外资准入门槛,②不选。
22. B 周某娣生前由其丈夫的外甥女原告杨某英长期照顾,周某菊与周某娣几无联系,杨某英无扶养义务却扶养周某娣,可酌情分得部分遗产,法院可酌定周某娣遗产由杨某英、周某菊各得 50%,①③入选;姐妹属于第二顺序继承人,②不选;案例不涉及遗嘱,排除④。
23. A 欧布利德斯的推理结构是,大前提:你没有失掉的东西就是你的东西。小前提:角是你没有失掉的东西。结论:角是你(头上)的东西。前一个“没有失掉”指的是你原来就有的东西仍然存在,后一个“没有失掉”指的是你根本没有的东西也仍然存在。因此犯了“四概念”的错误,而不是其他错误,故本题选 A,其他项不选。
39. (1)完全归纳推理的前提与结论之间具有保真关系。(2分)要保证完全归纳推理的结论真实可靠,必须具备两个条件:第一,断定个别对象情况的每个前提都是真实的;第二,所涉及的认识对象,一个都不能遗漏。(2分)全面考查推荐对象的政治素质、工作业绩和一贯表现,有利于评选出“人民满意的公务员”和“人民满意的公务员集体”。(2分)(其他答案,符合题意,可酌情给分)
- (2)①价值观是人生的重要向导。(2分)提出“建设一支让人民满意的高素质专业化公务员队伍”目标,有利于引导广大公务员树立正确的价值观,在实际工作中践行为人民服务的宗旨。(2分)②正确的价值判断和价值选择要自觉站在最广大人民的立场上。(2分)提出“建设一支让人民满意的高素质专业化公务员队伍”目标,有利于广大公务员坚持以人民为中心,牢记使命责任、勇于担当作为,自觉为人民服务。(2分)(其他答案,符合题意,可酌情给分)
40. 泰国天丝公司与红牛公司先后就红牛系列商标签订多份商标许可使用合同,红牛公司是商标的使用权人,而不是商标权人。(5分)被许可人使用并宣传商标,或维护被许可使用商标声誉的行为,均不能当成为获得商标权的事实基础。(5分)法院应判决驳回红牛公司的全部诉讼。(2分)(其他答案,符合题意,可酌情给分)
41. (1)高效统筹疫情防控和经济社会发展,保障产业链供应链稳定畅通。(2分)继续推动构建以国内大循环为主体的双循环发展格局,不断释放消费潜力。(3分)进一步落实扩张性财政政策,加大助企纾困力度,为工业企业效益继续恢复创造有利条件。(3分)(其他答案,符合题意,可酌情给分)
- (2)①中国的发展为世界各国的发展提供了机遇。我国工业经济持续稳定恢复,能够为全球经济的稳定和增长提供持续强大的推动力,能够为世界经济的发展做出更大的贡献。(4分)②: 的重要力量。我国工业经济持续稳定恢复,有助于维护促进共同发展,推动构建人类命运共同体。(4分)(其他答案,符合题意,可酌情给分)
- (3)执法严明,有法必依、执法必严、违法必究,严格执法,捍卫法律的权威和尊严,实现社会公平正义。(4分)全面履行职能,坚持法定职责必须为,加强宏观调控,稳定物价。(3分)建设人民满意的政府,把党和人民赋予的权力始终用来为人民谋幸福,降低人民生活成本。(3分)(其他答案,符合题意,可酌情给分)

历史部分(三)

24. C 考查西周政治。根据材料并结合所学知识,西周初期的统治者为稳定和巩固新政权,推行了多项定国方针,从《尚书》和《周书》中可以看出,周人从政治舆论、民生两个方面确立民众对新王朝的政治认同,故 C 项正确。A 项不符合史实,故排除。B、D 两项在材料中没有体现,故排除。
25. D 考查唐代经济。根据材料可知,户主郎寿春合应受田 131 亩,但现实却是有一半多的地未受,这表明当时的土地制度即均田制已存在危机,其原因主要是大中小地主大量兼并国有土地,这反映出当时土地私有制继续深化,故 D 项正确。A 项不符合史实,故排除;B 项在材料中没有体现,故排除;C 项不符合材料主旨,故排除。
26. A 考查宋明理学。根据材料并结合所学知识可知,程颐将“仁”本体化,上升为天理,提高了仁的地位。而陆九渊认为仁即心,仁即理,心与理归一,从心学角度发展了孔孟仁说。由此可知,先秦孔孟儒学是理学兴起的思想渊源,理学是对先秦孔孟儒学的继承、创新和在新的历史条件下的发展,而不是对原始儒学的“异化”,故 A 项正确,排除 B、C 两项。D 项表述涉及影响,这在材料中没有体现,故排除。
27. B 考查清代的边疆治理。根据材料“在西南大规模推行‘改土归流’政策,逐步取消土司世袭制度,任命有任期、可调动的流官”“在改流之地行政设置与内地划一的同时,其他的管理体制也仿内地一并推行。如设巡检司,专司盘查;派兵驻扎,以资防守”并结合所学知识可知,改西南地区土司制度为流官制度,一定程度上打击了地方势力,并进行户籍普查核实地方赋税,主要有利于加强中央对地方的控制,故 B 项正确。改土归流一定程度上有利于民族间融合,但实施改土归流的主要目的在于解决因为土司世代为官,独霸一方而导致的生灵涂炭及对朝廷叛服无常的弊端,因而“旨在促进民族间文化交流”与史实不符,故排除 A 项;C 项不符合材料主旨,故排除;D 项不符合史实,故排除。
28. B 考查太平天国运动。根据材料并结合所学知识可知,太平天国领导人具有世界意识和开放意识,在面临外国侵略的背景下,积极主张发展国防体现其迈出了“师夷长技”的步伐,这些都反映出在特殊的历史背景下太平天国运动已经在一定程度上突破了农民运动的局限,扣住了时代的脉搏和主题,具有鲜明的、进步的历史新趋向,故 B 项正确。材料仅涉及英国人哈利,不能泛指英国,且 A 项表述也不符合史实,故排除;洋务运动是洋务派开展的,与太平天国运动无关,故排除 C 项;材料涉及太平天国领导人的开明与开放,D 项与材料所述主旨不符,故排除。
29. D 考查近代中国经济。1912~1926 年湖北轻工业发展原因比较复杂,其中有辛亥革命后人民的爱国热情、实业救国思潮推动;民国初政府出台一系列保障经济发展法律法规有利于工业发展;抵制洋货提倡国货等,总之,辛亥革命后经济运行环境一定程度上得到改善客观上推动了工业发展,故 D 项正确。辛亥革命前后官办企业由于受政治转型影响深陷困局一时经营不利,A 项对材料核心内涵而言是片面信息解释,故排除;材料没有涉及湖北乃至全国工业布局问题,故排除 B 项;C 项不符合史实,故排除。
30. C 考查抗日战争。根据图片中的日本旗帜并结合所学知识可知,自 1935 年华北事变爆发,中日民族矛盾成为中国社会主要矛盾,日本的狼子野心也昭然若揭,漫画作者想通过这幅漫画警醒国人若如再不团结振奋积极抗日,那么 30 多年前的悲剧将会重现,故 C 项正确。图片没有体现日本侵华的罪行,故排除 A 项;材料中没有希望建立抗日民族统一战线信息,故排除 B 项;材料无法体现当时国民政府的抗战态度,故排除 D 项。
31. B 考查中国国家治理的现代化。根据材料并结合所学知识可知,从我国社会主义基本经济体制的发展历程看,市场经济在中国经历了由排斥到认可,由确立到完善深化的过程,与之相伴随的是我国国家治理模式也经历了一个由计划经济时期的“权能主义”治理模式到由计划向市场转轨时期的政府、市场和社会相互博弈的转型模式,再到社会主义市场经济完善深化时期的政府、市场和社会协同共治,在这一过程中,我国国家治理在一步步朝着现代化方向发展,这也反映了国家治理效能的不断提升,故 B 项正确。A 项与主旨刚好相反,故排除;材料主旨是对内改革,未涉及对外开放,故排除 C 项;材料未涉及经济结构的调整,故排除 D 项。
32. C 考查中古时期的美洲文明。纵观印加帝国的几大调控机制,可以看出具有“保民”政策和高压政策相结合的特点,通过这两种手段,他们将人民的思想意识、经济活动和全社会有效地控制在统治阶级设置的轨道上运行,这些调控机制的目的在于维护统治阶级的政治统治和经济特权,故 C 项正确。印加文明并未走向世界,故排除 A 项;B 项在材料

- 中没有体现,故排除;印加帝国并未长治久安,故排除D项。
33. C 考查近代欧洲宗教改革。马丁·路德认为基督徒不受任何人管辖,这就有利于打破天主教的束缚;马丁·路德又主张基督徒要为社会精神和物质的幸福去工作,这就有利于社会经济和资本主义的发展,故C项正确。推动民主革命思想传播的是启蒙运动,故排除A项;材料没有涉及《圣经》,故排除B项;根据所学知识可知,在中世纪,天主教的财富观认为,财富是阻碍信仰的障碍,金钱是绝对的罪恶,一个企图得救赎的人必须要逃避金钱腐蚀,这与材料中马丁·路德的宗教观表述相反,故排除D项。
34. D 考查近代美国民主政治。根据材料信息《邦联条例》规定“议会曾经被认为‘有能力’制定或修订宪法”,但是“现在……就会被认为是新奇和危险的”,这反映出当时美国政治体制抑制了人民主权,故D项正确。其他三项不符合材料的主旨故排除。
35. D 考查经济全球化。根据材料“在新冠疫情和气候危机及俄乌冲突下,全球食品、能源和化肥市场遭受的价格冲击正不断升级。报告称,估计94个国家的16亿人至少面临其中一项危机局面”并结合所学知识可知,因新冠疫情、气候危机及俄乌冲突下西方对俄实施的全面制裁,这些因素使得二战以来通过协调与合作促进经贸自由发展的机制遭遇挑战,食品、能源和市场价格冲击这些传统社会问题不再仅仅局限于某一国家或者地区,而演变成了全球的共性问题,故D项正确。A项表述过于绝对,故排除;B项在材料中没有体现,故排除;C项不符合史实,故排除。
42. (1)原因:中央集权的加强;严密的财政征调制度的建立;商税及禁榷制度的实行;农业手工业及商业的发展;一系列改革的推动;财政供给双轨制和市场化手段的运用。(10分,任答五点即可)影响:一定程度上保障了财政供给;调节贫富,利于社会稳定;丰富了应对灾伤的财政手段;使地方财力趋势不断弱化,一定程度上增加了人民的负担。(4分,任答两点即可)
- (2)措施:实施积极的财政政策,不断完善宏观调控;实施更加精准有效财政保障;建立并完善权责清晰、财力协调、区域均衡的政府间财政关系;推进财税管理法治化、科学化、精细化;简化办理程序,提高服务效率。(6分,任答三点即可)认识:财政是国家治理的基础和重要支柱;科学的财税体制是优化资源配置、维护市场统一、促进社会公平、实现国家长治久安的制度保障;财税体制改革不是解一时之弊,而是着眼长远机制的系统性重构。(5分,言之成理即可)
43. 示例:
- 论题:“西方中心论”实际上是一种“殖民意识形态”的文明观。(2分)
- 阐述:“西方中心论”的渊源可以追溯到遥远的古希腊时期,然而,希腊本身就是出于近代欧洲中心论的构想,它的文化既非西方,政体亦非民主。文艺复兴,更是在东方尤其伊斯兰教影响下产生。启蒙运动,则更多直接和间接吸收借鉴了中国的思想资源,是真正据为已有的拿来主义。在17世纪至20世纪初,主要西方资本主义国家创造了大量的物质财富和一系列的现代文明制度,在政治、经济、文化、科技、贸易等方面取得长足进步,但是这一时期西方的发展主要还是建立在其凭借其经济的政治的优势向全球扩张的基础之上,且资本主义制度既不是人类社会最高的社会制度,也不是人类社会进程的最终结果。这种“西方中心论”只是西方资产阶级为自己主宰世界制造历史合法性的说教。(8分)
- 综上,世界历史发展是多元文化互动和不同社会形态自然演进的,“西方中心论”的问题在于,只承认文明进步的时代性,而否认民族性;只承认文明进步的技术性,而否认阶级性;只承认资本主义文明视为现代文明的唯一、永恒的模式。(2分)
44. (1)特征:以报刊为舆论阵地;以西方资产阶级的自由平等、天赋人权学说为思想武器;以知识女性为先锋;反封建意识强烈;社会影响力较大。(6分,任答三点即可)
- (2)新发展:中国共产党成为中国妇女运动的领导核心;创办妇女教育、培养党的妇女干部;引导妇女参加生产,提高妇女经济地位;保障婚姻自由,反对家庭暴力;培养妇女参政能力。(9分,任答三点即可)

关于我们

自主选拔在线是致力于提供新高考生涯规划、强基计划、综合评价、三位一体、学科竞赛等政策资讯的升学服务平台。总部坐落于北京，旗下拥有网站（网址：www.zizzs.com）和微信公众平台等媒体矩阵，用户群体涵盖全国90%以上的重点中学师生及家长，在全国新高考、自主选拔领域首屈一指。

如需第一时间获取相关资讯及备考指南，请关注**自主选拔在线**官方微信号：[zizzsw](https://www.zizzs.com)。



微信搜一搜

自主选拔在线