

- A. 提高土地集约利用程度
- B. 控制空间扩张,增加人口数量
- C. 控制人口增长和扩张速度
- D. 控制人口数量,加快空间扩张

2022年,江西省万年县成立了全省首家“湿地银行”,进行湿地占补平衡指标交易。如今,万年县部分村集体闲置的低洼地在完成生态修复并验收合格后,自然资源和林业部门对其进行土地利用类型变更,将其纳入湿地资源数据库,再由“湿地银行”进行湿地占补平衡指标登记和挂牌交易。据此完成4~6题。

4. 开办“湿地银行”进行湿地占补平衡指标交易使江西省
- A. 经济发展受限制
 - B. 居民就业率大幅提升
 - C. 湿地质量大幅下降
 - D. 湿地面积维持稳定
5. 万年县纳入湿地资源数据库的部分低洼地在闲置之前最可能的土地利用类型是
- A. 林地
 - B. 耕地
 - C. 水域
 - D. 建设用地
6. 借助湿地资源数据库进行湿地占补平衡指标交易需要用到的地理信息技术是
- A. 遥感技术
 - B. 现代通信技术
 - C. 地理信息系统
 - D. 全球定位导航系统

美国西南部新墨西哥州杜拉萨盆地两侧有断层分布,盆地中部因石膏(CaSO_4)分布而形成白色沙丘。这里的钙早期存在于海洋中,后来形成石膏并以晶体的形式沉淀下来。据此完成7~9题。

7. 海水中的钙变为盆地中石膏的过程中,杜拉萨盆地地质环境演变经历了
- A. 地壳持续抬升
 - B. 断裂拉伸下陷
 - C. 先抬升后下沉
 - D. 先下沉后抬升
8. 石膏主要集中于杜拉萨盆地中部,是由于与周边相比,盆地中部
- A. 气候干旱
 - B. 风力较弱
 - C. 植被稀疏
 - D. 地势低洼
9. 块状石膏转变为沙丘的过程中受到的地质作用是
- A. 风化
 - B. 侵蚀
 - C. 搬运
 - D. 堆积

冬季降雪是河流水资源的重要补给来源。图2为秦岭山地及周边区域等高线地形图。据此完成10~11题。

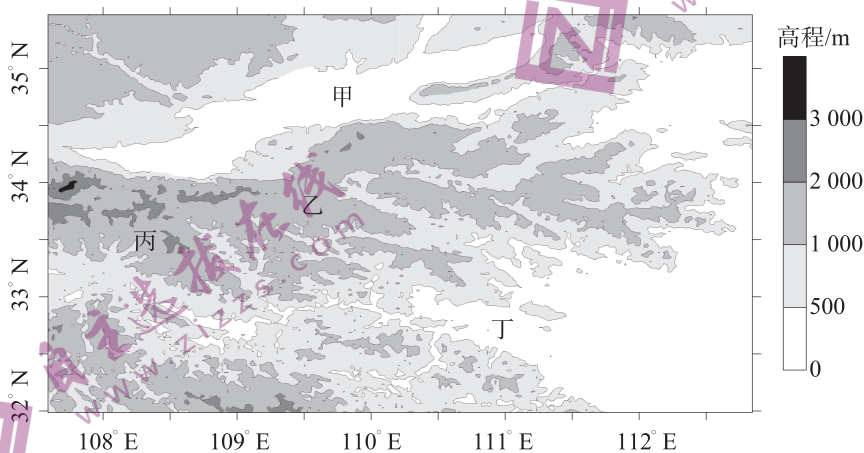


图2

10. 推测图中四个地区积雪日数最少的是
- A. 甲
 - B. 乙
 - C. 丙
 - D. 丁

11. 青藏高原冬季气温偏高时,图中乙、丁之间坡地降雪量却增加,是因为该坡
- A. 山峰积雪沿坡地堆积
B. 海洋水汽输送增加
C. 气温降低利于形成降雪
D. 低温持续时间延长
12. 面对我国经济由高速增长阶段转向高质量发展阶段的新形势,一些民营企业在经济发展中遇到不少困难和问题。有的民营企业家把这些困难形容为“三座大山”:市场的冰山、融资的高山、转型的火山。对此,国家应
- ①畅通生产要素流动渠道,建设全国统一的大市场
②放宽金融市场准入机制,拓宽民营企业融资途径
③降低市场制度性交易成本,杜绝行政权力的干预
④成为科技创新决策的主体,推动企业数字化转型
- A. ①②
B. ①③
C. ②④
D. ③④
13. 当前,国际环境更趋复杂严峻,国内需求收缩、供给冲击、预期转弱三重压力有所加大,经济恢复的基础尚不牢固。加大宏观调控力度,成为今年稳定宏观经济大盘的必然要求。为此,财政政策要求“加力提效”。下列传导路径与“加力提效”的财政政策相一致的是
- ①发行地方政府专项债券→撬动民间投资→助推基础设施建设→巩固经济持续增长的基础
②央行提高存款准备金率→减少信贷规模→防范金融风险→助力金融更好地服务市场主体
③增加中央转移支付→促进基本公共服务均等化→提升创新能力→更好满足消费升级需求
④实行减、缓、退税政策→缓解企业资金压力→提振市场信心→助推形成经济发展新格局
- A. ①②
B. ②③
C. ①④
D. ③④
14. 2023年中央一号文件对推动乡村产业高质量发展进行了专章部署,重点在彰显特色、产业融合、优化布局、联农带农等方面下功夫。“土”,就是从一方水土中找乡土资源;“特”,就是打造特色、具有独特竞争优势的产品;“产”,即尊重产业发展规律来建产业,打造产业全链条。做好“土特产”文章有利于
- ①推动乡村产业全面升级,增强可持续发展能力
②发挥特色产业带动就业、促进农民增收的作用
③发挥本地自然资源比较优势,提升产品竞争力
④培育新产业新业态,推动文化产业赋能乡村振兴
- A. ①③
B. ①④
C. ②③
D. ②④
15. 2023年2月17日,全面实行股票发行注册制正式实施。这一重大改革,意味着注册制推广到全市场,标志着新一轮资本市场改革迈出了决定性的一步,为资本市场服务高质量发展打开更广阔的空间。实行股票发行注册制旨在
- ①强化对资本市场约束,规范股票发行上市全过程
②深化资本市场的变革,推动资本市场高质量发展
③把资本选择权交给市场,提高企业间接融资效率
④适应我国经济高速发展要求,促使企业优胜劣汰
- A. ①②
B. ①③
C. ②④
D. ③④
16. 在安徽省临涣村,林立的茶馆成为“人大代表谈心室”“调解室”。在茶馆里,众人围坐一桌,以茶为媒,讨论着村里的大事小情,修路、筑渠、路灯维修等诸多百姓关切之事依靠群众自己的力量得以解决。“饮茶议事”的成功在于

- ①发扬协商民主优势,调动村民参与的积极性
- ②尊重村民决定的一切事务,发扬了人民民主
- ③坚持共建共治共享,形成了基层治理的合力
- ④完善人大代表工作机制,提高村务管理效能

A. ①② B. ①③ C. ②④ D. ③④

17. 公安部开展“昆仑 2023”专项行动,依法严厉打击知识产权等领域突出违法犯罪,全力抓好防风险、保安全、护稳定、促发展各项任务落实。全国各地公安机关听令而行,吹响“集结号”,全力以赴打好“昆仑 2023”开局之战。这一举措旨在

- ①履行专政职能,保障人民群众合法权益
- ②扩大市场监管,维护诚实守信市场秩序
- ③优化公共服务,创造安全稳定社会环境
- ④主动服务大局,激发知识产权创新活力

A. ①② B. ①④ C. ②③ D. ③④

18. 2023 年 2 月,美国总统拜登在国情咨文中表示,美国寻求对中国竞争而不是冲突,为了美国的利益会与中国合作,但如果威胁到美国主权,会为守护国家而采取行动。字里行间充斥着“美国利益优先”,更暴露出美国对华政策“对抗是本质,合作是权宜之计、竞争是话语陷阱”的居心。材料给我们的启示是

- ①竞争、合作、冲突是国际关系的基本形式,美国据此扰乱国际秩序
- ②中美作为较大的主权国家,应该在促进共同发展中谋求本国发展
- ③国际关系的决定性因素是国家利益,国际关系的实质是利益关系
- ④我们要坚决反对一切形式的霸权主义,反对冷战思维和零和博弈

A. ①② B. ②③ C. ①③ D. ③④

19. 2023 年新年伊始,一部反腐反黑题材的电视连续剧《狂飙》获得了观众的广泛好评,人民网点评该剧是一部兼具广度、力度、深度的现实主义作品。该剧准确把握与还原了新世纪以来我国不同阶段的年代质感,打破了过去同题材影视作品里反派人物的“扁平化”的通病。下列理解正确的是

- ①文艺创作应该追求艺术高度与当代现实的高度统一,实现文化创新
- ②文艺创作应该立足于我国社会主义建设的伟大实践,展现时代风貌
- ③文艺创作应该站稳人民立场,满足人民群众日益增长的精神文化需求
- ④发展文化事业要把社会效益放首位,实现社会效益与经济效益相统一

A. ①② B. ②③ C. ①③ D. ③④

20. 2023 年 3 月 5 日,是毛泽东同志为雷锋同志题词发表 60 周年纪念日,也是第 60 个“学雷锋纪念日”。雷锋精神,人人可学;奉献爱心,处处可为。今天,学雷锋志愿服务已由一项群众性的自发活动发展成为新时代公民道德建设的常态化活动和重要内容,浸润于人们的工作、生活中。这表明雷锋精神

- ①体现了中华民族共同的价值追求,是指引中华民族前行的精神火炬
- ②镌刻着中华民族精神的基因,展现了中华民族团结友爱的精神风貌
- ③作为优秀传统文化,为中国特色社会主义事业提供不竭的道德滋养
- ④丰富了社会主义核心价值观的内涵,已内化为每个公民的自觉行动

A. ①② B. ①③ C. ②④ D. ③④

21. 大家都知道,从一个房间走到另一个房间,必然要经过一扇门。同样,从一个网络向另一个网络发送信息,也必须经过一道“关口”,这道“关口”就是网关。顾名思义,网关就是一个网络连接到另一个网络的

“关口”，只有符合相关协议的信息才能顺利通过，这也是网络关卡的功能。对于网关的理解蕴含的辩证法道理有

- ①发展的趋势是前进性与曲折性的统一，要在曲折中前进
- ②事物的联系是有条件的，要把握构成事物联系的各种条件
- ③矛盾具有特殊性，要求我们做到具体问题具体分析
- ④矛盾具有同一性和斗争性，二者在一定条件下相互转化

A. ①③ B. ②③ C. ①④ D. ③④

22. “围炉煮茶”最早源于中国古代文人茶事。古朴的茶桌椅、精致的茶器，三五好友饮酒煮茶、围炉夜话，这是历史记载中关于冬天的生活场景之一。近年来，在繁忙急躁的社会中，越来越多的年轻人追寻生活的安静祥和，于是“围炉煮茶”这一吃茶方式风靡起来，成为当代年轻人的社交新宠。这表明

- ①虽然受到主客观因素的影响，但不同的人对同一事物的认识也可能相同
- ②认识具有反复性，人们对事物的正确认识往往要经过多次反复才能完成
- ③社会存在决定社会意识，社会存在的变化决定社会意识的变化
- ④实践具有社会历史性，不同时代人们的实践方式都是不同的

A. ①③ B. ②③ C. ①④ D. ③④

23. 国家主席习近平在 2023 年新年贺词中寄语广大青年：“明天的中国，希望寄予青年。青年兴则国家兴，中国发展要靠广大青年挺膺担当。年轻充满朝气，青春孕育希望。广大青年要厚植家国情怀、涵养进取品格，以奋斗姿态激扬青春，不负时代，不负华年。”由此可见

- ①正确的价值判断和价值选择是实现人生价值的根本途径
- ②站在最广大人民的立场上是实现人生价值的重要前提
- ③坚定的理想信念是实现民族复兴和人生价值的重要向导
- ④价值观作为社会意识，对人生具有重要的导向作用

A. ①③ B. ②③ C. ①④ D. ③④

24. 考古学家在二里头遗址的考古工作中发现了多个以道路和墙垣规划的规整功能区，形成了多网格式的结构布局，这成为研究当时城市的规划思想、礼仪制度、统治制度和早期国家都城制度的重要资料。由此可见

- A. 史料的多元性有助于史学研究的发展
- B. 历史学家应以挖掘全部的细节为己任
- C. 史料存在记忆之殇，需用新技术唤醒
- D. 新史料的发掘有助于历史认知的拓宽

25. 嘉峪关魏晋墓中有大量反映农耕业和畜牧业题材的壁画。图 3 是 6 号墓《犁地》壁画，一人一牛一犁，画面中农夫一手攥着缰绳紧握犁把、一手举鞭，耕牛前曲后躬，力度感强烈，生活气息浓厚。对此现象解读准确的是




图 3

- A. 得益于南北民族交融的推动
B. 再现了西域民众生活安定的时代风貌
C. 反映了先进生产技术的传播
D. 见证了精耕细作下自耕农经济的盛行
26. 朱熹提出“如今为此学而不穷天理，明人伦，讲圣言，通世故，乃兀然存心于一草一木、器用之间，此是何学问”；王阳明强调“大端惟在复心体之同然，而知识技能非所与论也”。二者的言论
- A. 表明理学难以实现理论与实践的结合
B. 旨在强调个人道德修养的重要性
C. 意味着重建儒家信仰的理论任务完成
D. 有利于推动中国古代科技的发展
27. 表 1 为宋代至明清官员退休的相关规定。这些规定

表 1

朝代	内容
宋代	仁宗“时议者谓士大夫言，七十当致仕，其不知止者，请令有司按籍举行之”，并要监察部门勘察官吏实际年龄，对已超龄者采取强制退休
明代	“文武官六十以上者，听致仕，给以语敕”，对“老疾不能任事者以及软弱无能的官吏，则随时勒令致仕”
清代	“乾隆二十二年，定部、院属官五十五岁以上，堂官详加甄别”，在年龄规定上有下降趋势。

- A. 反映了君主专制不断加强
B. 减轻了政府的财政负担
C. 规范了各级官员行政工作
D. 促进了官僚机构的调整
28. 图 4 是晚清时期某类企业地理分布示意图。据此推知，该类企业的创办

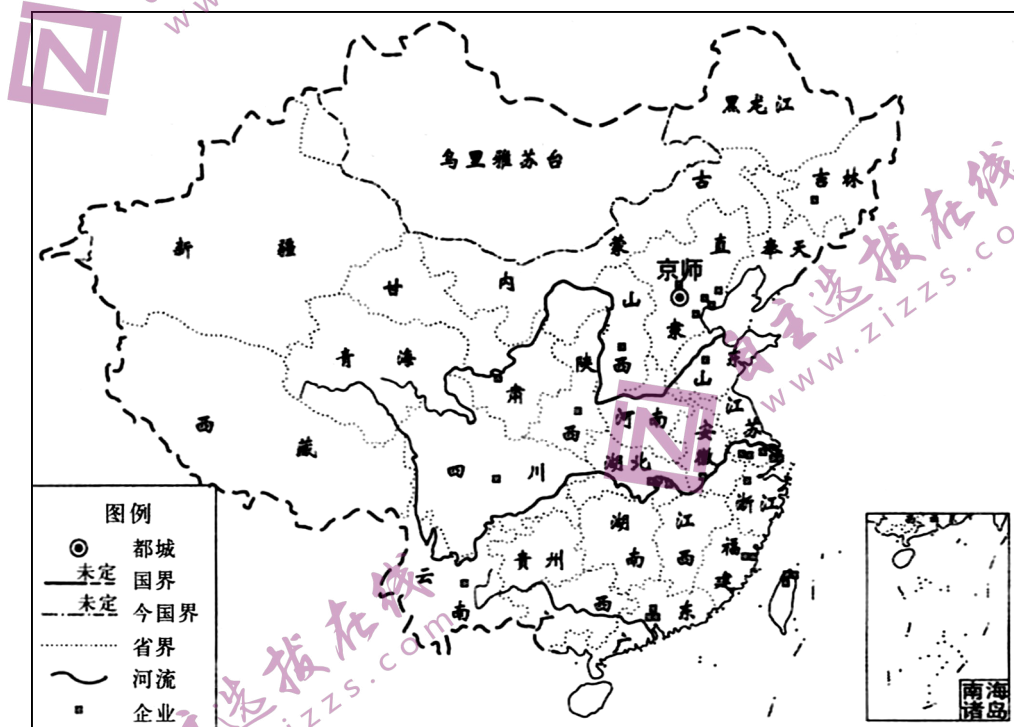


图 4

- A. 践行了洋务派求富的主张
B. 反映了清王朝维护统治的意图
C. 便利了列强对华经济侵略
D. 发展了晚清民族资本主义经济
29. 1936 年，斯诺在宋庆龄和中国共产党的帮助下进入陕甘宁边区采访，并在《星期六晚邮报》《大美晚报》等报刊上发表了大量关于陕甘宁边区生活和中国共产党政策主张的报道。此后，史沫特莱、斯特朗等外国记者相继奔赴延安革命根据地，进行了一系列真实而又精彩的新闻报道。这反映出

- A. 中国共产党注重提升国际影响力
B. 抗日民族统一战线政策已经实施
C. 反抗国民党统治的力量得以壮大
D. 抗日战争得到了国际社会的援助

30. 据统计,1951—1957 年我国农村基层组织发展情况如表 2 所示。此表可用于研究当时

表 2

年份		1951	1952	1953	1954	1955	1956	1957
初级社	社数	300	4 000	15 000	114 000	633 000	216 000	36 000
	每社平均农户数	12.3	15.7	18.1	20.0	26.0	48.0	44.5
高级社	社数	1	10	150	200	500	540 000	753 000
	每社平均农户数	30.0	184.0	137.3	58.6	75.8	198.9	158.6

- A. 农业经济的恢复状况
B. 农村集体化运动的进展
C. 人民政权的迅速巩固
D. 人民公社化运动的开展
31. 有学者评述雅典城邦说:“立法权仅限于有资格参加议会的人,鼓励煽动并滥用贝壳投票,放逐贤能之士;以拈阄与轮流方式决定公职人选,年年换人,造成政府的混乱;党派相互倾轧,永远使政府的领导与治理骚扰不宁”。这一评述反映出古雅典城邦
- A. 公民道德日益沦丧
B. 政治生活缺乏社会认同
C. 民主政治存在弊端
D. 公民决定城邦重大决策
32. 麦斯塔是西班牙土地贵族组成的牧羊主联盟,它每年生产大批羊毛出口到佛兰德尔、热那亚、英国等地。政府把牧羊业作为国库收入的来源,极力扶植麦斯塔,不断赐予它各种特权,使得农民的土地受到侵占。这体现出当时西班牙
- A. 率先推行圈地运动
B. 商业革命悄然发生
C. 新的经济因素萌生
D. 社会转型动力不足
33. 1649 年,英国议会成立审判国王的最高法庭,在找不到一个有才华和勇气的律师来起诉自称高于法律的国王的形势下,约翰·库克临危受命担任副总检察长,起诉并指控查理一世。约翰·库克被很多人称为“弑君者”。对此理解正确的是
- A. “王在法下”观念成为共识
B. 新旧力量之间需要长期角力
C. “君权神授”思想开始瓦解
D. 新兴资产阶级处于优势地位
34. 据统计,1870 至 1900 年世界原料和工业制成品贸易指数和贸易总额如表 3 所示。

表 3

年代	贸易指数 (以 1913 年为 100)	贸易总额 (单位:10 亿法郎)
1870 年	24	45.5
1880 年	36	68.8
1890 年	49	94.2
1900 年	68	118.2

由此推知,这一时期

- A. 世界各国经济结构相对稳定
B. 世界各国相互依赖程度加强
C. 世界各国工业差距日益缩小
D. 世界贸易多中心的格局出现

35. 1974年6月,美国同北约盟国共同发表《北大西洋关系宣言》,强调经济合作和美国不再对西欧“共同市场”抱反对态度,强调西方防务不可分割,美国也不再反对英法独立的核力量。这一宣言发表的历史背景是
- A. 美国全球霸权遭受欧洲威胁
B. 欧洲政治一体化进程加快
C. 美苏冷战格局重心发生变化
D. 世界多极化发展趋势显现

二、非选择题:共160分。第36~42题为必考题,每个试题考生都必须作答。第43~47题为选考题,考生根据要求作答。

(一)必考题:共135分。

36. 阅读图文材料,完成下列要求。(24分)

河北省迁安市(图5)是我国北方的钢铁重镇,建有亚洲最大的露天铁矿。迁安市长期以钢铁产业为主导产业,铁矿石、煤、焦炭等原燃料运输需求量大,为此修建铁路专用线,推进大宗货物运输“公转铁”(由公路运输转变为铁路专用物流通道)。近年来,迁安市不断压减冶炼设备陈旧、品质较差的粗钢产量,在钢铁企业原有基础上增加废旧钢铁冶炼设备,同时积极培育新兴产业,吸引生物医药、新材料等产业集聚。



图5

- (1) 简析近些年迁安市不断压减粗钢产量的主要原因。(6分)
- (2) 分析迁安市大宗货物运输“公转铁”的主要原因。(6分)
- (3) 分析迁安市钢铁企业使用废旧钢铁资源进行加工的好处。(4分)
- (4) 阐述迁安市吸引生物医药、新材料等新兴产业集聚的区位优势。(8分)

37. 阅读图文材料,完成下列要求。(22分)

堰洲岛是与主要海岸走向大致平行的多脊沙洲,一般呈长而狭窄的形态。其形成主要受海平面变化、河流和海水的相互作用以及人类活动等因素的影响,图6为两种常见的堰洲岛形成环境。美国东部和南部海岸线堰洲岛分布广泛,而西海岸鲜有存在。图7为大西洋沿岸堰洲岛——法尔岛的地理位置与景观图,该岛被当地开发为集海滩、度假、观光于一体的旅游胜地。

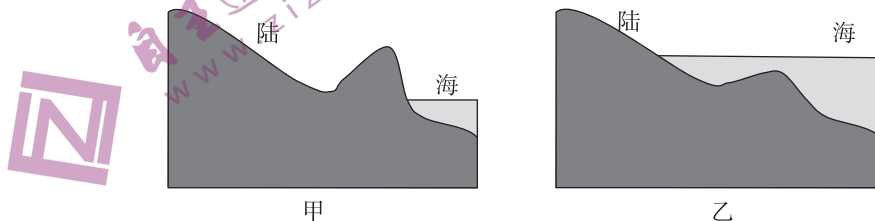


图6

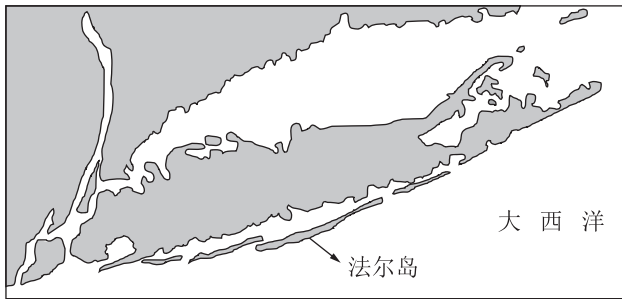


图7

- (1)结合周边海陆环境,推测甲、乙两地形成堰洲岛的不同过程。(6分)
- (2)分析堰洲岛在美国东海岸分布广泛而在西海岸难以形成的原因。(6分)
- (3)指出可能造成堰洲岛面积减小或消失的人类活动。(6分)
- (4)结合堰洲岛海岸环境,提出保护堰洲岛的可行性措施。(4分)

38. 阅读材料,完成下列要求。(14分)

材料一

表4 近年来中国最终消费支出对经济增长的贡献率统计表

时间	2012年	2015年	2017年	2019年	2021年
GDP总量/万亿元	51.9	68.9	82.7	98.7	114.4
最终消费贡献率/%	51.8	66.4	58.8	57.8	65.4

注:发达经济体最终消费支出对经济增长的平均贡献率保持在70%、80%的水平。2022年,我国消费市场受新冠肺炎疫情冲击较大,最终消费对经济增长的贡献率下降为32.8%。

材料二

我国有14亿多人口,人均国内生产总值已经突破1万美元,是全球最大和最有潜力的消费市场,具有巨大的增长空间。预计到2030年,我国中等收入群体占总人口的比重将超过50%,对居民消费的贡献率将超过70%。此外,新消费群体将加速形成,预计2030年“Z世代”创造的新兴消费市场规模将达到16万亿元,60岁及以上老年群体创造的“银发经济”规模可达20万亿元。同时,大型中心城市将成为消费新增长极,国际消费中心城市对消费的引领带动作用将进一步提升,一批辐射带动能力强、资源整合有优势的区域消费中心加快形成,中小型消费城市梯队建设逐步成型。

- (1)解读材料一蕴含的经济信息。(4分)
- (2)结合材料二并运用经济生活的相关知识,分析我国应如何激发消费以推动经济企稳回升。(10分)

39. 阅读材料,完成下列要求。(12分)

人口规模巨大,是我国的基本国情,是中国式现代化的重要特征之一。我国实现现代化,意味着比现在所有发达国家人口总和还要多的中国人民将进入现代化行列,这在人类历史上是一件有深远影响的大事。

新时代10年,我国勇敢向贫困宣战,党政军民学劲往一处使,东西南北中拧成一股绳。300多万名第一书记和驻村干部,同近200万名乡镇干部和数百万村干部一道奋战在扶贫一线,创造了人类历史上的“脱贫奇迹”。

新时代10年,我国卫生事业投入力度进一步加大,妇幼保健水平不断提高。目前,我国人均预期寿命提高到78.2岁,主要健康指标居于中高收入国家前列。

新时代10年,多层次社会保障体系不断健全。目前,我国基本医疗保险覆盖超13亿人,基本养老保险覆盖超过10亿人,建成世界上规模最大的社会保障体系。

结合材料并运用社会主义民主政治的相关知识,说明我国为什么终将实现人口规模巨大的现代化。

40. 阅读材料,完成下列要求。(26分)

党的二十大报告强调,中国式现代化不只是体现在物质层面,不局限于传统的、单纯意义上的经济增长,而是物质文明和精神文明相协调的现代化,既要物质财富极大丰富,也要精神财富极大丰富。

物质贫困不是社会主义。我国仍处于并将长期处于社会主义初级阶段,仍然是世界最大的发展中国家,社会主要矛盾是人民日益增长的美好生活需要和不平衡不充分的发展之间的矛盾。这就决定了我们必须聚精会神搞建设、一心一意谋发展,为实现中华民族伟大复兴奠定雄厚的物质基础。

精神贫乏也不是社会主义。我们要搞好精神文明创建活动,把精神文明建设的成果转化为物质文明的强大动力,建设社会主义文化强国;还要积极发展社会主义先进文化,弘扬革命文化,传承中华优秀传统文化,厚植文化根基,凝聚复兴伟力,推动社会主义各项事业全面兴盛;更要用习近平新时代中国特色社会主义思想武装全党、教育人民,巩固全党全国各族人民团结奋斗的共同思想基础,不断提升国家文化软实力和中华文化影响力。

(1)结合材料并运用矛盾同一性的知识,说明你对中国式现代化必须“是物质文明与精神文明相协调的现代化”的理解。(10分)

(2)结合材料并运用文化生活的相关知识,论述“精神贫乏也不是社会主义”的理由。(10分)

(3)假设你是张三,将参加学校开展的“模拟政协”活动,请你就“如何更好地在学校开展精神文明创建活动”写一份政协提案,字数不超过150字。(6分)

41. 阅读材料,完成下列要求。(25分)

材料一

拜占庭人不仅继承了罗马帝国中央集权制的政治遗产,以罗马帝国正统继承者的身份保持了统一帝国的政治体制,而且在皇帝专制统治、《罗马民法大全》等诸多方面坚持了欧洲地中海上古政治遗产,并有所发展。为了治理众多古代族群,帝国政府始终维系着庞大且完善的官僚国家体制,其核心是集政治经济、军事外交、社会司法、宗教文化各种最高权力于一身的皇帝专制中央集权。7世纪至12世纪推行军区制,以农兵制、军政合一为重要特点,并由将军对行政区域及其军队进行管理,对扭转拜占庭危急局势起了重要作用。拜占庭人成功打造了包括整个东欧世界的拜占庭文明圈,并将各个斯拉夫族群纳入其中,其影响至今犹存。

——摘编自陈志强《欧洲中古史视阈中的拜占庭帝国》

材料二

隋唐统治者系统地总结了秦汉以来的旧制,革弊创新,极大地加强了国家的控制能力,从而使皇权进一步加强。唐朝完备三省六部制、科举制,监察机构和制度趋于完善,在内地地方实行道州县三级制,在边疆设立都护府、都督府进行管理,在少数民族地区实行羁縻州府制度,唐玄宗开元年间改行募兵制,军队职业化、专业化,设立节度使,制定《武德律》《贞观律》等,很重视礼制的建设,直接促成了中华法系的形成。唐人对传统文化、少数民族文化以及外来文化都抱有包容的态度,从而造就了光辉灿烂的唐文化,传入日本、朝鲜等东亚国家,形成一个以中国为文化源的中华文化圈。

——摘编自曹大为、赵世瑜等主编《中国大通史》

(1)根据材料一、二并结合所学知识,概括拜占庭帝国与唐朝在国家治理上的异同。(15分)

(2)根据材料一、二并结合所学知识,简析拜占庭帝国与唐朝国家治理共同的历史价值。(10分)

42. 阅读材料,完成下列要求。(12分)

材料

没有抽象的马克思主义,只有具体的马克思主义。所谓具体的马克思主义,就是通过民族形式的马克思主义,就是把马克思主义应用到中国具体环境的具体斗争中去,而不是抽象地应用它。成为伟大中华民

族之一部分而与这个民族血肉相连的共产党员,离开中国特点来谈马克思主义,只是抽象的空洞的马克思主义。因此,马克思主义的中国化,使之在其每一表现中带着中国的特性。即是说,按照中国的特点去应用它,成为全党亟待了解并亟须解决的问题。

——摘编自毛泽东《论新阶段》

结合中国近现代史相关史实,评析材料中的观点并得出结论。(要求:结论不能重复材料中观点,持论有据,论证充分,表述清晰。)

(二)选考题。请考生从2道地理题、3道历史题中每科任选一题作答。如果多选则每科按所做的第一题计分。

43. (10分)【地理——选修3:旅游地理】

慢旅游是旅游者以休闲体验为目的,在目的地长时间停留并开展慢节奏生活的旅游行为方式。丽江古城地处我国西南边陲,位于云贵高原与青藏高原的衔接段,是世界文化遗产、国家历史文化名城。丽江当地居民以纳西族为主,同时融合了汉族、藏族等其他民族文化。通过多年规划经营,目前丽江已经拥有完善的酒吧、客栈、文艺店铺等一系列配套的文艺休闲场所,吸引了大量深圳、北京、香港等地游客来此开展慢旅游。

分析丽江古城发展“慢旅游”的优势区位条件。

44. (10分)【地理——选修6:环境保护】

环境噪声是干扰人们日常生活的重要因素,长期暴露在噪声级较高的环境中,除让人感到烦躁、影响睡眠外,还会引发耳鸣、心脏病和学习障碍等疾病,进而减少人的寿命。表5为天津市主城区城市主干道路友谊路、城市快速路黑牛城道及城市外环线交通噪声状况统计表。

表5

测点	高峰时段				非高峰时段			
	交通量	速度/(km·h ⁻¹)	重车比/%	声压级/dB(A)	交通量	速度/(km·h ⁻¹)	重车比/%	声压级/dB(A)
友谊路	2 640	30	1.82	70.8	2 520	30	4.46	70.3
黑牛城道	8 148	40	4.09	71.3	7 620	50	14.12	70.5
外环线	2 880	60	1.67	73.4	1 680	60	2.14	75.5

(1)列举影响天津市交通噪声状况的因素。(4分)

(2)为减少交通噪声污染带来的不利影响,请提出三点可行性措施。(6分)

45. (15分)【历史——选修1:历史上的重大改革回眸】

材料

南宋初年,由于战争和人口流亡,导致作为封建国家征收赋税依据的籍账严重散失,绍兴十二年(1142年),高宗下诏设立经界所重新丈量土地,从平江府开始,然后向两浙推广,再由两浙推广到诸路。其具体做法是:(1)以都为单位进行经界,即打量步亩,民户、官户各依式造砧基簿,上面记录户主姓名、田地面积、土地来源、并附带地形图;(2)造鱼鳞图。保各有图,大则山川道路,小则人户田宅,皆一一描画,然后合十保为一都之图,合诸都为一县之图。凡田产交易,买卖双方各执砧基簿及契书到县对照过户,否则不予承认。到绍兴十九年(1149年)冬,除淮东、淮西、京西、湖北四路被边未行外,其余各路多数州军都已次第完成。

——摘编自漆侠主编《中国改革史》

(1)根据材料并结合所学知识,概括南宋初年政府重新经界的历史背景。(6分)

(2)根据材料并结合所学知识,说明南宋初年政府重新经界的历史影响。(9分)

46. (15分)【历史——选修3:20世纪的战争与和平】

材料

1944年秋,苏联的战略反攻彻底改变了巴尔干的形势:保加利亚调转枪口对德宣战,罗马尼亚与苏联停战,德国从巴尔干撤军。同时,英法美三国开始谋划战后的世界秩序。英国首相丘吉尔飞抵莫斯科,就巴尔干问题与斯大林达成了协议,即著名的“巴尔干百分比”,划分了苏联和英、美在巴尔干半岛诸国的主导权的比重。“巴尔干百分比”实际上划分了战后大国在巴尔干的势力范围,最终确定了战后巴尔干格局及各国的未来走向。这标志着巴尔干各国在战后的很长时间里依然要淹没在大国的阴影中。二战后期,南斯拉夫、阿尔巴尼亚、匈牙利、保加利亚、罗马尼亚等国在苏联的帮助下,相继建立起人民民主政权并走上了社会主义道路,成为社会主义阵营的成员。而希腊在1944—1949年展开了内战,随着内战结束,走上了另一条道路,最终进入资本主义阵营。此后,巴尔干各国步入持续了近半个世纪的冷战历程。

——摘编自梁占军《二战中的巴尔干:历史与启示》

- (1)根据材料并结合所学知识,概括第二次世界大战后期“巴尔干百分比”出现的原因。(6分)
- (2)根据材料并结合所学知识,简析第二次世界大战后期“巴尔干百分比”产生的历史影响。(9分)

47. (15分)【历史——选修4:中外历史人物评说】

材料

经元善(1840年—1903年),浙江人,晚清著名慈善活动家、声望卓著的义赈活动主持人。他认为,“我等同处宇内,有分地无分民”“救人之荒,必可免己之荒”。他将世传祖业仁元钱庄停歇之后,利用钱庄原有处所,联合江南部分绅商于1878年在上海创立协赈公所。该公所的赈捐代收处除设在上海之外,还先后分设于国内许多城市。协赈公所采取的具体方式是明确规定募捐、收款、运送、发放等每个环节,均有专人各负其责,每月收支的各笔捐款必须登报公诸于众,事后还要刊印信录,“以昭核实”,因而极少出现账目混乱和贪污挪用的现象。《申报》1883年8月1日发表的文章曾经称赞协赈公所“在事之人无不悉心竭力,所集之款涓滴归公。遂觉自有赈务以来,法良意美,当以此为第一善举”。

——摘编自朱英《中国近代史十五讲》

- (1)根据材料并结合所学知识,概括经元善开展赈灾活动的背景。(6分)
- (2)根据材料并结合所学知识,简要评价经元善的赈灾活动。(9分)