

文科综合

考生注意：

1. 答题前，考生务必将自己的姓名、考生号填写在试卷和答题卡上，并将考生号条形码粘贴在答题卡上的指定位置。
2. 回答选择题时，选出每小题答案后，用铅笔把答题卡对应题目的答案标号涂黑。如需改动，用橡皮擦干净后，再选涂其他答案标号。回答非选择题时，将答案写在答题卡上。写在本试卷上无效。
3. 考试结束后，将本试卷和答题卡一并交回。

一、选择题：本题共 35 小题，每小题 4 分，共 140 分。在每小题给出的四个选项中，只有一项是符合题目要求的。

巴基斯坦位于南亚次大陆的西北部，经济基础薄弱，2017 年城镇化率为 36.38%，城镇体系规模结构呈现全国层面的不均衡与不连贯现象。2017 年由中巴两国政府批准的《中巴经济走廊远景规划（2017—2030 年）》提出，建设自中国新疆喀什至巴基斯坦南部沿海城市卡拉奇和瓜达尔的中巴经济走廊，围绕重大交通基础设施，形成新的国际物流网络和产业布局，通过产业投资，提升南亚及中亚国家在全球经济分工中的地位。图 1 示意 2017 年巴基斯坦城镇数量金字塔与人口金字塔。据此完成 1~3 题。

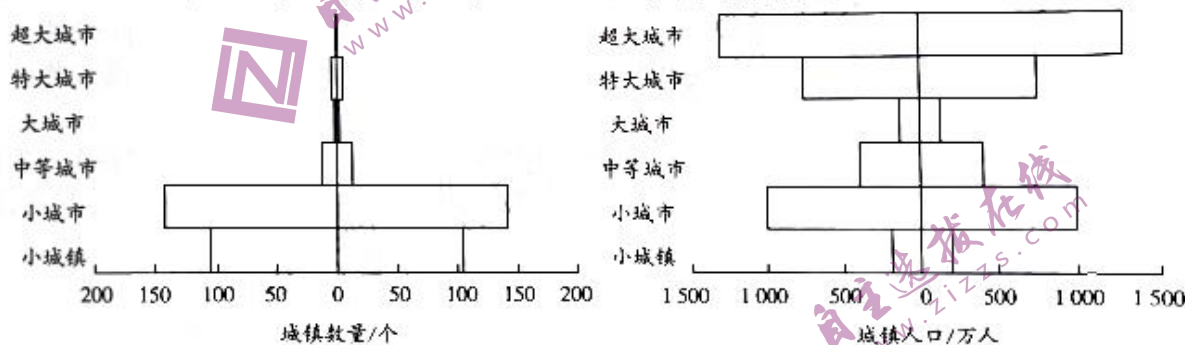
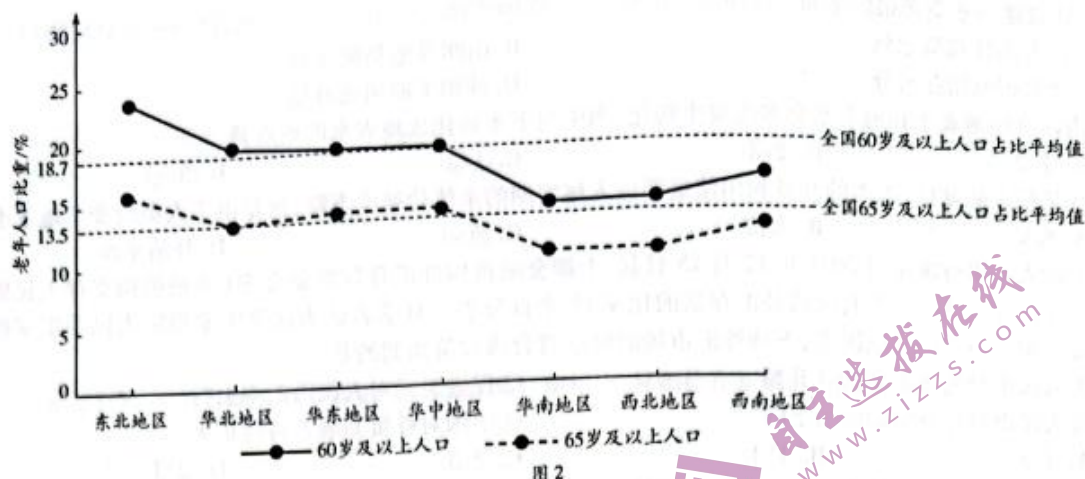


图 1

1. 巴基斯坦

- A. 大城市和中等城市发展较突出
 - B. 超大城市和小城市发展较突出
 - C. 中等城市和小城市发展较突出
 - D. 只有小城市发展突出
2. 与巴基斯坦城镇体系特点的形成关系最密切的地理要素是
 - A. 以山地为主的地形
 - B. 炎热干旱的气候
 - C. 海陆联运的交通体系
 - D. 发展缓慢的工业
 3. “中巴经济走廊”的建设对巴基斯坦城镇体系健康发展的重要意义是
 - A. 促进节点城市发展，提升超大城市的核心作用
 - B. 加强国际产业合作，推动中等城市的工业发展
 - C. 推进沿线交通建设，加快乡村转变为小城市（镇）
 - D. 形成多条发展轴线，保证各区域城市均衡发展

按照国际通行划分标准，当一个国家或地区 60 岁及以上人口占比在 10%~20% 之间或 65 岁及以上人口占比在 7%~14% 之间为轻度老龄化；60 岁及以上人口占比在 20%~30% 之间或 65 岁及以上人口占比在 14%~21% 之间为中度老龄化；60 岁及以上人口占比超过 30% 或 65 岁及以上人口占比超过 21% 则为重度老龄化。图 2 为第七次人口普查我国七大地区老龄人口占比情况图。据此完成 4~5 题。



4. 目前我国人口老龄化的特点是

- A. 全国整体为轻度老龄化
B. 各区域间差异较小
C. 中部地区较东、西部严重
D. 内陆地区比沿海地区严重

5. 针对目前人口老龄化对我国经济发展的影响,可采取的适当措施有

- ①发展银发产业,刺激经济发展 ②发挥老龄劳动力的优势,延长人口红利 ③提升创新能力,催生新兴产业 ④延长学历教育时间,增加劳动力供应

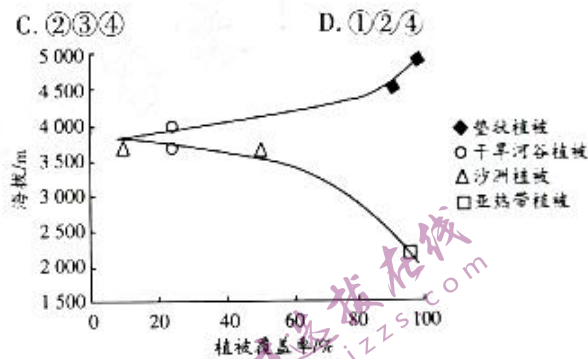
A. ①②③

B. ①③④

C. ②③④

D. ①②④

图3示意我国某河流域植被覆盖率变化情况及典型河段植被类型。该河流域海拔5 200米以上常年覆盖冰雪,基本上没有植被发育;海拔4 000~5 000米发育的高山垫状植被呈密集团块状,主要由低矮的草本植物和苔藓组成,根系发达。河谷中游宽阔,发育由强阳生物种组成的干旱河谷植被,河谷沙洲植被发育在河中江心洲上,不同沙洲的植被覆盖率差异较大。下游峡谷陡峭,分布有亚热带植被。据此完成6~8题。



6. 推测该河流是

- A. 塔里木河 B. 黄河 C. 长江 D. 雅鲁藏布江

7. 垫状植被呈密集团块状有利于其躲避

- A. 强风 B. 暴雨 C. 强光 D. 冻融

8. 沙洲植被的覆盖率差异较大,其主要原因是不同沙洲

- A. 植被种类差异较大 B. 海拔高度差异较大
C. 淹没频率差异较大 D. 所处河段差异较大

我国西北地区有诸多大型闭合沉积盆地,如塔里木盆地、准噶尔盆地、吐鲁番—哈密盆地等,它们构成了各自独立的水循环系统,盆地内地表水与地下水的多次转化是区内水资源循环的基本方式,并使得水资源可以多次利用,增加了可用水量,但随着转化次数的增多,水质越来越差,盐碱度也不断增高。图4是我国西北地区某内陆盆地剖面图。据此完成9~11题。

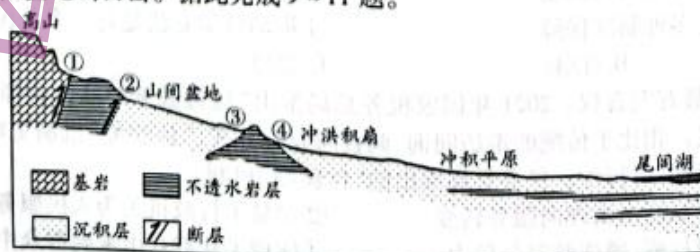


图4

9. 内陆盆地的水资源最终来自
A. 高大山体截留水汽
B. 山间盆地集聚水分
C. 冲洪积扇储存水分
D. 冲积平原河流补给
10. 内陆盆地地表水和地下水会多次发生转化,图中地下水转化成地表水的地点是
A. ①②
B. ②③
C. ①③
D. ③④
11. 在某些内陆盆地,人类的开发利用使最终进入尾间湖的水体盐碱度下降,这是由于人类改变了地下水的
A. 水量
B. 水位
C. 流向
D. 补给来源
12. 中国人民银行决定自 2021 年 12 月 15 日起,上调金融机构外汇存款准备金率(金融机构交存人民银行的外汇存款准备金与其吸收外汇存款的比率)2 个百分点。有学者认为这是国家稳定人民币汇率的重要举措。不考虑其他因素,下列外汇市场的反应符合该政策预期的是
①人民币对美元汇率持续升高
②促进美元对人民币汇率上行
③人民币对外升值的压力下降
④中国对外贸易顺差持续扩大
A. ①③
B. ①④
C. ②③
D. ②④
13. 国内某主题休闲游乐公园的门票和年卡价格如表 1:

表 1

门票(一日一人一次入园)		年卡(全年无限次入园)		备注
全价票	260 元	畅游卡	598 元	身高 1.5 m 以上儿童与成人
儿童/老人优惠票	150 元	儿童/老人畅游卡	368 元	身高 1.2 m-1.5 m 的儿童与 60-69 岁老人

※身高 1.2 m 以下儿童免费入园,年满 70 周岁以上老人、现役军人、残障人士等持有有效证件免费入园。

- 对该主题公园门票销售策略的分析合理的是
①对特定群体免费彰显了企业的社会责任
②门票和年卡的销量情况最主要受价格因素影响
③年卡无限次入园对所有游客都有吸引力
④实行儿童免费入园可能增加公园的营业总收入
A. ①②
B. ①④
C. ②③
D. ③④
14. 某国企在深化改革过程中厘清党委、董事会、经理层等各治理主体的决策权限,明确了 4 个方面 59 项重大事项,其中有 34 项内容由党委会前置把关,再由董事会或经理层决策。这 34 项内容包括“公司章程修订”“公司经营计划、投资方案和年度筹融资计划”等,涉及企业发展方向、重大战略、重大项目等。这样做旨在
①把党的领导优势转化为国有企业发展的优势
②强化公司党委在国有企业中的权力机构地位
③为促进国有企业的高质量发展提供坚强保证
④限制公司决策机构权限,引领公司发展方向
A. ①③
B. ①④
C. ②③
D. ②④
15. 手机正在成为“新农具”,数据正在成为“新农资”,直播正在成为“新农活”,农村大众创业、万众创新蓬勃发展。全国 1 010 万返乡下乡创业创新人群中,有 55% 运用“互联网+”等新模式。材料说明
①畅通城乡双向循环是实现乡村振兴的客观要求
②互联网与传统产业融合为农村发展注入新活力
③科技进步推动农村生产方式、经营模式的变革
④加快农业现代化是解决农村就业问题的根本途径
A. ①②
B. ①④
C. ②③
D. ③④
16. 2021 年 6 月 1 日,新修订的《中华人民共和国未成年人保护法》正式施行。与修订草案相比,正式版删去了对未成年人监护人缴纳保证金的有关规定。这一修改来自一名普通中学生的建议,而这条建议是通过虹桥街道基层立法联系点转呈全国人大常委会法工委的。这一事例表明
①我国积极践行全过程人民民主
②我国立法过程贯彻民主集中制原则
③我国人民民主有多种制度保障
④推动科学立法是每一个公民的责任
A. ①②
B. ①④
C. ②③
D. ③④
17. 服务好不好,用户最有发言权。2021 年国家税务总局推出“税费服务产品体验师”机制,请体验师下基层、探服务、找不足。相比于传统的走访问询、调查问卷等方式,“体验师”机制更贴近用户,从中获取的意见建议更有针对性、可行性。税务总局推出的“体验师”机制
①有助于推动政府职能由管理向服务转变
②彰显了行政机关为人民服务的工作作风
③有利于树立政府权威、增强政府公信力
④体现了从群众中来到群众中去的工作方法
A. ①②
B. ①④
C. ②③
D. ③④

18. 多年来,广东援疆工作通过民生援疆、产业援疆创造了一系列“看得见”的成果,而文化润疆更带来了“看不见”的改变——在课堂、在车间、在城市,历史、文化的熏陶拉近了心与心的距离,民族团结之花绽放更绚烂。搞好民生援疆、产业援疆和文化润疆
- ①是践行各民族共同繁荣原则的表现
②有利于培育中华民族共同体意识
③是实现新疆跨越式发展的主要途径
④为少数民族行使自治权提供保障
- A. ①②
B. ①④
C. ②③
D. ③④
19. 土家吊脚楼、摆手舞、织锦技艺、傩戏……湖北省搭建“土家族传统村落数字化展示与传播平台”,借助虚拟现实技术,游客能够“云游”土家族传统村落,身临其境地感受土家族非物质文化遗产的魅力。由此可见
- ①科技进步是推动文化发展的重要因素
②保护文化遗产能展示世界文化的多样性
③传承优秀传统文化要让其“活”起来
④文化的繁荣发展需要创新文化传播途径
- A. ①②
B. ①③
C. ②④
D. ③④
20. 知客,是指农村中帮助组织红白事务的人,他们多由当地有一定威望影响、见多识广、能说会道的人担任。四川广元大力挖掘利用农村知客资源,建队伍、搭平台、树新风,让知客宣讲队伍练就接地气、冒热气的“好声音”,成为乡村院落、田间地头的“金话筒”,通俗易懂地把党和国家的方针政策和惠民举措传递到万千群众的心坎上。此举的意义在于
- ①坚持正确舆论导向,更好地促进和加强意识形态工作
②培养高水平理论人才,促进马克思主义理论的大众化
③繁荣农村文化事业,满足基层群众的多层次文化需求
④用群众喜闻乐见的方式,提高宣传的传播力、影响力
- A. ①②
B. ①④
C. ②③
D. ③④
21. 2021年秋季,北京市文旅局以赏银杏品文化为主题,推出“漫步北京”10条赏银杏品文化主题线路,让市民和游客以步行、骑行的方式,赏秋日银杏落叶之美。“漫步北京”文旅休闲品牌线路自2020年推出后深受广大市民和游客欢迎。对此认识正确的是
- ①银杏落叶因满足了人的需要而具有了新属性
②该文旅品牌的推出做到了主观符合客观
③人们通过线路设计创造了自在事物的新联系
④对主题线路的规划彰显了意识的能动性
- A. ①③
B. ①④
C. ②③
D. ②④
22. 在我们的经验中,乒乓球会漂浮在水面上,而“天宫课堂”的“浮力消失”实验中,乒乓球在太空失重环境中却停留在水中——浮力消失了。这是因为浮力来源于重力引起的液体在不同深度的压强差,没有重力,浮力也就消失了。“浮力消失”实验可以用来佐证以下道理
- ①矛盾的双方相互依赖,双方共处于一个统一体中
②矛盾的普遍性与特殊性相互联结,普遍中包含特殊
③科学实验是认识的来源,是检验真理的唯一标准
④真理是具体的,任何真理都有其适用的条件和范围
- A. ①②
B. ②③
C. ①④
D. ③④
23. 1961年,王淦昌奉命秘密加入研制原子弹的队伍,当国家提出希望他放弃原来的研究方向甚至是身份姓名时,王淦昌的回答只有短短6个字:“我愿以身许国。”此后,科学家王淦昌“音讯全无”,大漠深处多了一个“王京”。中国国家博物馆收藏的写着“王京”的木箱(见图5),见证了一代科学家为研制“两弹一星”作出的突出贡献。王淦昌的事迹给我们的启示是
- ①把个人的理想追求与国家、民族的需要结合起来
②把弘扬爱国主义精神作为实现人生价值的前提
③走出自我狭隘天地,在奉献社会中实现人生价值
④提高个人能力才能为实现民族复兴作更大贡献
- A. ①②
B. ①③
C. ②④
D. ③④



图5

24. 老子认为由于统治者“损不足以奉有余”，造成百姓生活的艰难困苦，他提出“损有余而补不足”，学有道的贤者圣人“能有余以奉天下”。这反映出，老子
- A. 提倡商周制度
B. 旨在迎合平民阶级的诉求
C. 追求社会均衡
D. 倡导无为而治的政治理念
25. 公元前 119 年，汉武帝下令征收算缗钱，规定商人财产每两千钱须缴纳 120 钱作为财产税，如果是经营自己手工作品，每四千钱缴纳 120 钱；普通人一部车缴纳 120 钱，商人缴纳 240 钱。汉武帝这一措施意在
- A. 实现社会秩序的长期稳定
B. 削弱诸侯王的实力
C. 规范工商业者的经营活动
D. 强化重农抑商政策
26. 图 6 是南宋画家李嵩创作的《货郎图》，描绘了老货郎用一副货担走街串巷，穿梭乡野，为民众带来所需货物的场景。该作品反映了宋代



图 6

- A. 市民阶层的壮大
B. 商品经济的繁荣
C. 草市的迅速发展
D. 文人的神韵意趣
27. 明代以前，学校只是为科举培养人才的途径之一。1370 年，明政府规定参加科举考试者必须是在府、州、县各级官学读书的“生员”，进学校成了科举的必由之路。这一变化更有利于
- A. 加强君主专制权力
B. 提升官员的文化水平
C. 选拔最优秀的官吏
D. 强化对士人思想控制
28. 有学者认为，洋务运动创办的民用企业，最终没有成为中国经济全面走向市场经济的基础，相反，它甚至成为市场化的阻力，并且构成了一种具有中国特色的工业组织的模式。出现这一现象的主要原因是
- A. 中体西用指导思想
B. 官府主导企业经营
C. 以军事工业为重心
D. 民族危机不断加深
29. 辛亥革命时期，各党派如雨后春笋般产生，它们纷纷以标榜“共和”为宗旨。《申报》评论说：“不问党内宗旨如何，争相入党，以为运动机关”，“入党以后，悬挂徽章，猝然被人质问党旨，茫无以对”。这表明当时
- A. 民主共和理念深入人心
B. 政党政治确立
C. 民众思想觉悟迅速提升
D. 政治参与活跃

30.

表 2

共产党员	进步势力	中间势力	全县干部
46 人	38 人	15 人	99 人

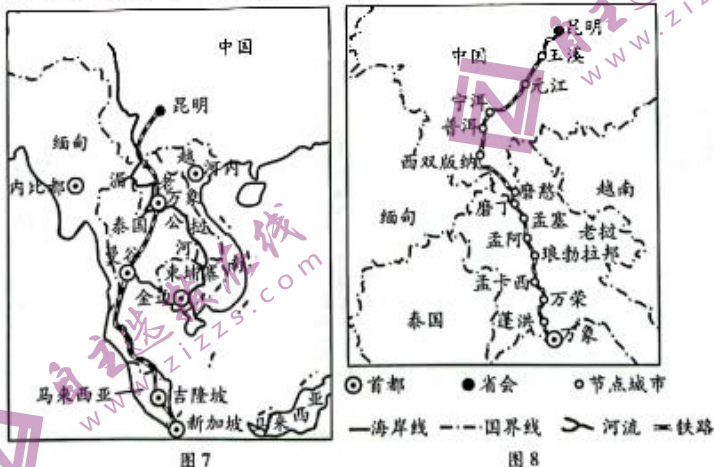
- 表 2 是 1941 年春陕甘宁边区赞皇县政府干部构成情况表。这一构成有助于
- A. 克服根据地严重的困难
B. 完成国民革命任务
C. 扩大共产党的阶级基础
D. 排除国民党的影响
31. 1990 年 12 月，邓小平在同几位中央负责同志谈话时指出：“我们必须从理论上搞懂，资本主义与社会主义的区分不在于是计划还是市场这样的问题。社会主义也有市场经济，资本主义也有计划控制。”这一论断
- A. 突破了单一所有制经济结构
B. 开启了市场经济体制改革
C. 有利于推进国内的经济建设
D. 否定了计划经济发展模式

32. 古代雅典的法律基本上都是围绕保护公共利益而制定,法律只规定保障公民的政治权利,虽也有一些法律规定保护公民免受一些不公的人身伤害,但关于公民个人自由和个人利益方面并没有相关条款予以体现。这表明,古代雅典
- A. 坚持城邦利益至上
B. 参政议政十分活跃
C. 公民自由受到限制
D. 民主政治出现危机
33. 文艺复兴时期,教会并没有把人文主义者视为自己的敌人,教会乃至教皇推动和直接参与了文艺复兴,以致 1447—1527 年被称为“文艺复兴教皇时期”。由此可见,教会这一做法
- A. 否定了天主教原始教义
B. 有助于人文主义传播
C. 为宗教改革扫除了障碍
D. 促进了民众信仰自由
34. 1932 年,美国社会出现了这样一种现象,人们外出活动时喜欢自带食物,不愿意用货币去购买;观看体育比赛,除了上缴国家的税收外,可以用任何物品来支付门票。对这一现象合理的解释是
- A. 工人工资下降
B. 通货紧缩严重
C. 物质生产过剩
D. 物价上涨迅速
35. 1967 年 11 月,勃列日涅夫宣布苏联建成了“发达社会主义社会”。1982 年 11 月,安德罗波夫执政后,揭露了苏联存在的问题和困难并进一步指出:“发达社会主义本身将经历若干发展时期,而苏联正处在这一漫长历史阶段的起点。”安德罗波夫这一认识
- A. 突破了优先发展重工业理念
B. 有助于打破计划经济体制的弊端
C. 打破了教条主义的思想禁锢
D. 奠定了市场经济改革的理论基础
- 二、非选择题:本题包括必考题和选考题两部分。第 36~42 题为必考题,每个试题考生都必须作答。第 43~47 题为选考题,考生根据要求作答。

(一)必考题:共 135 分。

36. 阅读图文材料,完成下列要求。(24 分)

中老国际铁路通道简称中老铁路,是一条连接中国云南省昆明市与老挝万象市的电气化铁路,设计时速 160 千米,线路全长 1 035 千米,是第一个以中方为主投资建设、共同运营并与中国铁路网直接连通的跨国铁路,2021 年 12 月 3 日全线通车。老挝是世界上最不发达的国家之一,经济以农业为主,工业、服务业基础薄弱,中老铁路建设前,国内仅有首都万象到老泰边境的 3.5 千米铁路。2020 年 11 月 15 日,包括中国与东盟 10 国在内的 15 个亚太国家正式签署了《区域全面经济伙伴关系协定》。图 7 为中南半岛概况图,图 8 为中老铁路重要节点城市分布图。



- (1) 说出中老铁路未通车之前老挝的国际运输活动主要依靠的交通运输方式。(4 分)

(2)分析中老铁路的通车对于老挝货运交通的有利影响。(6分)

(3)中老铁路的通车使磨丁、磨憨等地成为重要节点城市,简述这些城市为促进经济进一步发展可采取的措施。(8分)

(4)阐述中老铁路的建成对中国对外联系的积极意义。(6分)

37. 阅读图文材料,完成下列要求。(22分)

潮沟是在沙泥质潮滩上由于潮流作用形成的冲沟,是潮滩上最活跃的微地貌单元,也是潮滩与外界连通和进行物质、能量交换的重要通道。黄河三角洲地处新、老黄河入海口两侧,潮沟纵横交叉,各种湿地景观呈斑块状分布,湿地中天然植物群落的分布由海向陆呈现光滩、碱蓬群落和芦苇群落的带状分布格局。自1996年黄河改道以来,区域内开展了大量围垦和堤坝工程,打破了原有的生态平衡,同时随着适宜在淹水、高盐度环境中生长的互花米草的引入和扩张,黄河三角洲湿地及潮沟的形态特征发生了巨大改变。图9示意2004年、2008年和2018年黄河三角洲潮沟的分布。

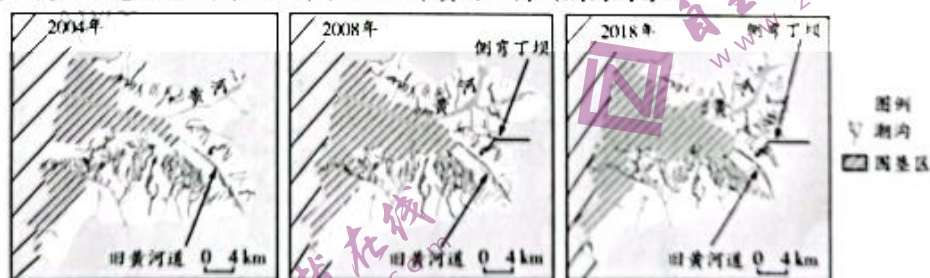


图9

(1)1996年黄河向北改道导致北岸潮沟数量明显减少,说明其原因。(4分)

(2)分析倒湾丁坝的修建对其南北两侧海岸线产生的影响。(8分)

(3)2008年后黄河三角洲南部潮沟长度缩短,解释其原因。(4分)

(4)分析互花米草与潮沟的相互作用对其他湿地植物的不利影响。(6分)

38. 阅读材料,完成下列要求。(14分)

实现共同富裕是社会主义的本质要求和中国式现代化的重要特征,是社会主义制度优越性的集中体现。

随着中央促进共同富裕的一系列政策出台和各项重大任务部署渐次展开,社会各界对共同富裕的基本内涵有了更丰富更清晰的认识:共同富裕是依托高质量发展,在做大做好蛋糕基础上分好蛋糕,不是对存量蛋糕的压缩分配;共同富裕是全体人民的共同富裕,不是少数人的富裕;共同富裕是靠人人参与、人人奋斗,不是“躺平”和“搭车”;共同富裕是先富带动后富、帮扶后富,不是“劫富济贫”;共同富裕是物质财富与精神财富的统一,不是单单物质上的“土豪”“暴富”等。

在弄清楚“怎么干”之前,先要学会“怎么看”。正确把握了“共同富裕”的基本内涵,才能在扎实推进共同富裕进程中纲举目张、有条不紊,科学谋划、稳扎稳打。

结合材料,运用经济生活的知识,说明我们应如何稳步实现共同富裕的目标。

39. 阅读材料,完成下列要求。(12分)

中国国务院发布的《中国的民主》白皮书指出,对中国这样一个大国来说,选择什么样的民主发展道路至关重要。坚持中国的民主按照中国的特点、中国的实际来设计和发展,坚定不移走符合国情的民主发展之路,是中国民主发展的一条基本经验。

民主是各国人民的权利和共同的追求,而不是少数国家的专利。少数国家将自身包装成民主的唯一标准,将民主变成了一种“专利”,专门服务于自身“非我即错”的霸权思维。更有甚者,以“民主”名义干涉别国内政、侵犯别国主权。

中国不寻求输出中国的“民主模式”,也绝不接受任何外部势力企图改变中国的制度模式。中国坚定支持各国自主选择本国的民主发展道路,反对外部势力以“民主”为借口干涉他国内政。

结合材料,运用当代国际社会的知识,论证我国在民主发展道路问题上主张的正义性。



40. 阅读材料,完成下列要求。(26分)

《中共中央关于党的百年奋斗重大成就和历史经验的决议》围绕“坚持自我革命”这条重要的历史经验强调,“只要我们不断清除一切损害党的先进性和纯洁性的因素,不断清除一切侵蚀党的健康肌体的病毒,就一定能够确保党不变质、不变色、不变味,确保党在新时代坚持和发展中国特色社会主义的历史进程中始终成为坚强领导核心”。

先进的马克思主义政党不是天生的,而是在不断自我革命中淬炼而成的。我们党穿越百年风风雨雨,始终“为人民的利益坚持好的,为人民的利益改正错的”,多次在危难之际重新奋起,失误之后拨乱反正,成为打不倒、压不垮的马克思主义政党。

站在“两个一百年”奋斗目标历史交汇的关键节点上,我们党仍存在可以预料和难以预料的各种风险挑战。习近平总书记警示全党:我们党历经百年、成就辉煌,党内党外、国内国外赞扬声很多。越是这样越要发扬自我革命精神,千万不能在一片喝彩声中迷失自我。

(1) 结合材料,运用辩证否定观的知识,分析坚持自我革命对党永葆生机活力的作用。(10分)

(2) 结合材料,运用文化的作用的知识,说明中国特色社会主义进入新时代中国共产党要继续发扬自我革命精神的原因。(10分)

(3) 党的历史是青年成长的重要精神滋养。结合材料,说明学习党的百年历史对青年学生培养“自我革命”精神的三点意义。(6分)

41. 阅读材料,完成下列要求。(25分)

材料一 乾隆二十二年(1757年),为配合大军平定大小和卓叛乱,清政府在哈密、乌鲁木齐等地筹办屯田,派往乌鲁木齐等处屯田兵丁达一万多人。办理屯田事务的办事大臣由朝廷派往,“管屯副将、都司、守备、千总、把总各员由陕西、甘肃省调派”,兵丁亦由陕甘派往,都属陕甘总督节制管辖。仅靠兵屯不能完全解决军粮问题,乾隆皇帝谕:“甘肃等处无业贫民前赴管生耕作,污莱辟而就食多,于国家牧民本固大有裨益。”随后,内地农民大批到新疆安家落户。清政府在乌鲁木齐设同知、通判等文员以管理地方粮饷。

——摘编自聂红萍《从甘肃总督到伊犁将军:乾隆朝对新疆治理的探索》

材料二 1842年12月,林则徐流放到伊犁后,针对新疆边防形势,林则徐经深思熟虑,主动向伊犁将军布彦泰提出“改屯兵为操防”,撤销兵屯,让种地的战士回到营院里,专门搞训练,把腾出来的土地交给民户耕种,得到布彦泰的采纳。为解决水源问题,林则徐组织当地各族人民,兴修水利工程,费时四个多月,用工二十余万人。屯地给农户耕种后,每年交粮除支付官兵口粮,剩余折银抵充经费。缓解了驻新疆清军的粮饷危机。

——摘编自张洁《林则徐在新疆的历史功绩》等

文科综合试题 第9页(共12页)

(1) 根据材料一并结合所学知识,概括乾隆时期清政府在新疆屯田的特点。(8分)

(2) 根据材料一、二并结合所学知识,说明与乾隆时期相比,林则徐在新疆屯田的变化及其原因。(9分)

(3) 根据材料一、二并结合所学知识,简析清代在新疆屯田的意义。(8分)

42. 阅读材料,完成下列要求。(12分)

材料 恩格斯说过一段极为精辟的话:“每一个时代的哲学作为分工的一个特定的领域,都具有由它的先驱者传给它,而它便由此出发的特定的思想资料作为前提。因此,经济上落后的国家在哲学上仍能够演奏第一提琴:十八世纪的法国对英国来说是如此,后来的德国对英法来说也是如此。”也就是说,任何哲学的产生,是以前人已取得的思想成果作基础的。后人要创立新的哲学,往往要踏在“前人的肩上”。

——据《马克思恩格斯全集》整理

根据材料并结合所学世界史的知识,就材料整体或其中任意一点拟定一个论题,并予以阐述。(要求:论题明确,持论有据,论证充分,表达清晰。)

(二) 选考题:共 25 分。请考生从 2 道地理选考题、3 道历史选考题中每科任选一题作答。如果多做,则每科按所做的第一题计分。

43. [地理——选修 3:旅游地理](10 分)

2021 年 2 月,中共中央、国务院印发的《国家综合立体交通网规划纲要》提出推进交通与旅游融合发展,充分发挥交通促进全域旅游发展的基础性作用,加快国家旅游风景道、旅游交通体系等规划建设。我国多地纷纷响应,海南省开展环岛旅游公路创新发展,甘肃省开展大敦煌文旅融合发展等等,一条条畅达的旅游公路推动交通与旅游深度融合。
分析我国多地旅游公路的建设对旅游业发展的积极意义。

44. [地理——选修 6:环境保护](10 分)

黑碳(BC)气溶胶来自化石燃料和生物质燃料的不完全燃烧过程,黑碳能吸附有毒有害物质,对人体健康造成危害。不同于黑碳,SO₂ 和 NO₂ 主要来源于工业固定点源、机动车尾气等移动源。华北平原既是我国农村人口分布密集的地区,也是黑碳排放密集的地区,空气污染严重。表 3 示意华北平原不同季节黑碳与 SO₂ 和 NO₂ 浓度比值变化。

表 3

项目	春季	夏季	冬季
BC/SO ₂	0.15	0.09	0.36
BC/NO ₂	0.09	0.05	0.28

说出华北平原黑碳浓度的年内变化特点,并说明其高值的出现原因。

45. [历史——选修 1:历史上重大改革回眸](15 分)

材料 隋唐时期伴随着中央集权的加强,监察制度得以基本形成。隋朝虽历时较短,但隋文帝对原有的监察制度进行了一系列的改革,为进一步完善官僚系统,将监察机构的规模扩大,并取消御史直属官制度,使御史脱离了官禁,提高了其独立性,并恢复了地方巡查制度。同时监察机构的职责更加清晰、明确,中央与地方的监察机构相分离,中央官吏由御史台负责监察,下设治书侍御史、侍御史、殿内侍御史、监察御史,并且下属官吏不再由御史大夫任命更换,而是由吏部任命。地方官吏则由司隶台和谒者台,专掌州县监察。

——摘编自杨联《中国古代监察制度的变迁、特征及启示》

(1) 根据材料并结合所学知识,概括隋文帝改革监察制度的措施。(8 分)

(2) 根据材料并结合所学知识,说明隋文帝改革监察制度的意义。(7 分)

46. [历史——选修3:20世纪的战争与和平](15分)

材料 1936—1937年,日军与苏军的“边界”纠纷与冲突不断发生。1938年7月,在中、苏、朝交界处的张鼓峰地区发生了苏日军事冲突。7月29日,日军依据“边境纠纷处理纲要”,攻击张鼓峰地区的苏军,爆发大规模的武装战斗。日军进攻未经日本参谋本部和天皇的批准,“当时日本陆军正在中国大陆准备汉口战役,它(日本)想方设法避免兵力在苏联正而被牵制住。”日方主动提出停战,日军“所属各部队很快撤出直到停战时扼守的战线”,苏军“完全控制了日军在实现停战时所维持的战线”,夺占了张鼓峰地区。张鼓峰战役发生后,日军封锁了图们江航道,中断了中国出海活动。

——摘编自王春良《简论1935—1945年日本与苏联的关系》

(1)根据材料并结合所学知识,说明张鼓峰战役的背景。(8分)

(2)根据材料并结合所学知识,简析张鼓峰战役的影响。(7分)

47. [历史——选修4:中外历史人物评说](15分)

材料 汤震(1857—1917年),浙江山阴县人,1892年中进士,入翰林院为庶吉士。1894年出任安徽青阳知县,三个月后辞官回籍。甲午战后,汤震参与维新运动。1906年,汤震与张謇等创立预备立宪公会,任副会长。1909年,授云南按察使,旋改授江西提学使,均未赴任。武昌起义爆发后,被推举为浙江都督,派遣军队支援邻省反清革命。袁世凯就任临时大总统后,他拒绝北京政府邀请。1915年,汤震致电反对袁世凯称帝。晚年,汤震回归故里,致力于家乡水利事业。他的遗言“克利国属小人,贪名亦非佳士”可谓一生真实写照。

——摘编自张海鹏主编《中国近代通史》等

(1)根据材料并结合所学知识,概括汤震做出的主要活动。(8分)

(2)根据材料并结合所学知识,简析汤震体现的优良品质。(7分)

“顶尖计划”2022 届高中毕业班第三次考试

文科综合·政治答案

12~23 小题,每小题 4 分。

12. C 13. B 14. A 15. C 16. A 17. D 18. A 19. B 20. B 21. D
22. C 23. B

38. 全面贯彻新发展理念,加快构建新发展格局,建设现代化经济体系,推动高质量发展(或做大做好蛋糕),奠定共同富裕的坚实基础;(3分)坚持以人民为中心的发展思想,完善收入分配政策,发展和改善民生,缩小收入差距,让全体人民更多更公平地共享发展成果;(3分)破除抑制劳动者创造性、积极性的障碍,创造更加普惠公平的条件,给更多人创造致富机会,形成人人参与的发展环境,鼓励勤劳致富;(2分)坚持基本经济制度,坚持“两个毫不动摇”,调动一切可以调动的积极因素,让一切创造财富的源泉充分涌流;(3分)在抓经济建设、增加城乡居民收入的同时,更加重视文化建设,满足人民群众的精神需求,让人们在共同富裕中实现精神富有。(3分)
39. 主权是一个国家的生命和灵魂,以“民主”名义干涉别国内政侵犯了他国的主权,是霸权主义和强权政治的体现,违背了《联合国宪章》的精神和国际法的基本准则。(4分)中国坚定不移走符合中国国情的民主发展道路,反对外部势力改变中国的制度模式的企图,坚持了维护人民利益和国家利益的统一,是正当的、正义的。(4分)中国支持各国自主选择民主发展道路,坚持独立自主的和平外交政策,顺应时代发展的潮流,有利于促进国际关系民主化,构建公正合理的国际新秩序。(4分)
40. (1)辩证的否定是事物自身的否定,是联系的环节和发展的环节。辩证的否定是既克服又保留,既肯定又否定,辩证否定的实质是“扬弃”。(4分)中国共产党用自我革命的勇气(清除损害党的先进性和纯洁性的因素,剔除侵蚀党的健康肌体的病毒,保持党的先进性和纯洁性。(2分)顺应时代发展和人民群众的要求,坚持好的,不断把自我革命推向深入,保持并增强党的战斗力和凝聚力。(2分)在百年奋斗历程中,党通过自我净化、自我完善、自我革新、自我提高,不断加强自身建设,保持了强大生机活力。(2分)
- (2)先进文化对社会发展具有促进作用。(2分)自我革命精神是党在百年奋斗历程中创造的先进文化,能为实现中华民族伟大复兴提供强大的精神动力,在实践中转化为建设社会主义现代化强国的巨大物质力量。(3分)文化与政治相互影响、相互交融。(2分)发扬自我革命精神,是坚持从严治党、加强党的领导、应对国内外各种风险挑战的要求,有利于发挥党的领导优势,为中国特色社会主义建设提供正确方向保证。(3分)
- (3)答案示例:增强传承自我革命精神的自觉性;掌握自我革命的本领方法;自觉将自我革命精神付诸行动。(每个要点 2 分。言之有理,即可得分)

“顶尖计划”2022 届高中毕业班第三次考试

文科综合·历史答案

24~35 小题,每小题 4 分。

24. C 25. A 26. B 27. D 28. B 29. D 30. A 31. C 32. A 33. B
34. B 35. C

41. (1)特点:兵屯与民屯相结合(2分);军事色彩浓厚(2分);民屯以移民为主(2分);中央与地方管理相结合(2分);规模大(2分)。(8分,任答4点,言之成理即可)

(2)变化:撤销兵屯,把土地交给民户耕种(2分);大规模兴修水利工程(2分)。(4分,言之成理即可)
原因:兵屯弊端显现(或士兵积极性不高,效率低下)(2分);边疆出现危机,增强军队战斗力的需要(2分);保障粮食供给的需要(2分)。(5分,任答2点,言之成理即可)

(3)意义:节省了政府开支(2分);缓解了驻军粮饷危机(2分);促进了新疆经济的发展和进步(2分);减轻了内地的人口压力(2分);充实了兵员,提高了战斗力(2分);巩固了统一的多民族国家(2分)。(8分,任答4点,言之成理即可)

42. 示例 1:

论题:意大利文艺复兴汲取了古希腊罗马的文化(2分)

阐述:意大利是古代罗马的故乡,意大利人能够接触到大量的古代希腊罗马文化遗存,还有机会得到拜占廷帝国保留的古代希腊罗马文化典籍。于是,一些对宗教文化钳制思想不满的先进知识分子,在古代希腊罗马文化找到了共鸣。他们通过欣赏、阐释古典文化充满人性的美,表达对现实生活的希望,他们主张以人为中心而不是以神为中心,认为人是现实生活的创造者和主人,要求肯定人的价值和尊严,从而掀起了一场思想解放运动。(9分,言之成理即可)

总之,古希腊罗马时期的人文精神为意大利文艺复兴运动中文学创作提供了土壤,是对希腊文化的人文主义精神的再现和升华。(1分)

示例 2:

论题:康德继承发展了法国的启蒙思想(2分)

阐述:康德是德意志著名的哲学家,著有《纯粹理性批判》等著作,对启蒙运动作了经典的总结。把启蒙运动以来法国思想家伏尔泰和卢梭对人性的解放思想进行了综合,创立了自己的哲学体系,把启蒙思想提高到一个新的高度。康德认为启蒙运动的核心就是人应该自己独立思考,理性判断。他强调人的重要性,提出人就是人,而不是达到任何目的的工具。他相信主权属于人民,自由和平等是人生来就有的权利,但同时坚持人要自律,不能为了个人的自由而妨碍他人的自由;自由和平等只能在法律范围之内。(9分,言之成理即可)

总之,正是康德在继承法国启蒙思想家思想的基础上,对法国启蒙思想进行系统的总结,才把启蒙运动发展到一个新的阶段。(1分)

(“示例”只作评卷参考,不作为唯一标准答案。)

45. (1)措施:扩大监察机构的规模(2分);提高御史监察的独立性(2分);恢复了地方巡查制度(2分);明确监察机构的职责(2分);中央与地方的监察机构相分离(2分);御史台下属官吏由吏部任命(2分)。(8分,任答4点,言之成理即可)

(2)意义:加强了君主专制和中央集权(2分);完善了监察制度(2分);有助于吏治的清明(2分);为后世监察制度提供了借鉴(2分)。(7分,任答3点,言之成理即可)

46. (1)背景:日本侵占我国东北(或日本控制伪满洲国)(2分);日本集中力量侵略中国(2分);苏日边界冲突不断发生(2分);苏联支持中国抗战(2分);英、法、美推行“绥靖”政策(2分)。(8分,任答4点,言之成理即可)

(2)影响:打击了日军的侵略行径(2分);迫使日军搁置“北进”计划(2分);牵制了日军在中国战场上的行动(2分);中断了中国在日本海的出海口(2分)。(7分,任答3点,言之成理即可)

47. (1)活动:参与维新运动(2分);推动预备立宪(2分);参加辛亥革命(2分);反对袁世凯称帝(2分);兴修水利(2分)。(8分,任答4点,言之成理即可)

(2)优良品质:与时俱进(2分);淡泊名利(2分);关注民生(2分);忠诚爱国(2分);追求真理(2分)。(7分,任答3点,言之成理即可)



“顶尖计划”2022 届高中毕业班第三次考试

文科综合·地理答案

1~11 小题,每小题 4 分。

1. B 2. D 3. B 4. A 5. A 6. D 7. A 8. C 9. A 10. C 11. B

36. (1) 国际公路、国际航空、湄公河水运。(任答其中 2 点,每点 2 分,共 4 分。其他答案合理可酌情给分)
- (2) 铁路的运量较大,中老铁路通车后老挝的货运量明显增大,运输货物的种类增多;铁路的速度较快,会提高老挝货运的效率;铁路适合远距离运输,有利于扩大老挝货运的运输范围。(每点 2 分,共 6 分。其他答案合理可酌情给分)
- (3) 加强基础设施建设;完善城市服务功能;发展外向型经济;做好产业规划。(每点 2 分,共 8 分。其他答案合理可酌情给分)
- (4) 通过中老铁路,中国打通了南向国际陆海大通道,开辟了与东盟国家的物流新通道;加强了与东盟国家的经济联系,促进了工农业产品的出口,加速对外贸易的发展;增加了出海通道,加强了与印度洋沿岸国家的联系;推动了“一带一路”倡议的实施,为中外基建合作树立典范。(任答其中 3 点,每点 2 分,共 6 分。其他答案合理可酌情给分)
37. (1) 1996 年黄河向北改道,黄河三角洲北部泥沙大量淤积;导致潮沟发生淤塞,数量减少。(每点 2 分,共 4 分。其他答案合理可酌情给分)
- (2) 侧弯丁坝建成后,侧弯丁坝南侧潮滩失去泥沙补给,被海水侵蚀,海岸线向陆地退缩;原本应随着潮流运移到南侧的泥沙被拦截,使北侧海岸线向海延伸速度加快。(每点 4 分,共 8 分。其他答案合理可酌情给分)
- (3) 大面积潮滩被围垦,阻断了潮沟向上发展的通道;侧弯丁坝南侧泥沙被拦截,潮滩受海水侵蚀不断后退,所以潮沟长度缩短。(每点 2 分,共 4 分。其他答案合理可酌情给分)
- (4) 互花米草适宜在淹水、高盐度环境中生长,且潮沟良好的连通性有利于互花米草的入侵;随着互花米草密度的增大,其消浪、缓流作用加强,潮流侵蚀作用减弱,阻碍潮沟进一步发育;并通过减弱潮汐动力和阻碍潮汐通道而改变其他湿地植物生长发育必要的水盐条件,不利于其生长。(每点 2 分,共 6 分。其他答案合理可酌情给分)
43. 我国家庭私家车数量巨大,旅游公路建设对于增加自驾游频次、复苏旅游市场具有积极意义;旅游公路连接多个景点,整合沿线各地旅游资源,有利于吸引游客,促进旅游业发展;旅游公路途经大批乡村,促进乡村人居环境改善,旅游文化、休闲农业等产业深度融合,带动区域旅游产业整体发展;增加沿途就业机会,改善劳动力收入状况,提高居民对当地旅游资源的保护意识;旅游公路可以作为旅游景观,丰富了旅游资源。(每点 2 分,共 10 分。其他答案合理可酌情给分)
44. 特点:春、夏季低,冬季高。(2 分。其他答案合理可酌情给分)
- 原因:冬季,华北平原气温低,取暖需求大,化石燃料燃烧较多,产生的黑碳多,浓度大;农村人口数量多,生物质燃料燃烧较多,产生的黑碳多;气温低,大气稳定度高,有利于黑碳在地表附近积累;降水少,相对湿度小,不利于黑碳的湿沉降,所以浓度较大。(每点 2 分,共 8 分。其他答案合理可酌情给分)

关于我们

自主选拔在线是致力于提供新高考生涯规划、强基计划、综合评价、三位一体、学科竞赛等政策资讯的升学服务平台。总部坐落于北京，旗下拥有网站（[网址: www.zizzs.com](http://www.zizzs.com)）和微信公众平台等媒体矩阵，用户群体涵盖全国90%以上的重点中学师生及家长，在全国新高考、自主选拔领域首屈一指。

如需第一时间获取相关资讯及备考指南，请关注**自主选拔在线**官方微信号：[zizzsw](https://www.zizzs.com)。



微信搜一搜

