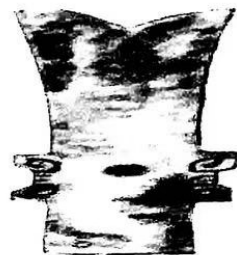


一、选择题(本题共 16 小题,每题 3 分,共 48 分)在每小题给出的四个选项中,只有一项符合题目要求)

1. 中国古代文明绚烂多彩,随着考古发掘的深入,越来越多的华美文物揭开神秘面纱。如图,长江流域三星堆遗址出土的“玉璋”和黄河流域二里头遗址出土的“牙璋”,二者不仅“撞脸”,且均属仪仗用具。这反映了



三星堆出土的玉璋



二里头遗址出土的牙璋

- A. 王权与神权紧密结合
- B. 早期文明交流较为频繁
- C. 中华文明具有多元一体的特征
- D. 古代中国手工业技术高超

2. 整个西周社会组织是“以宗族为经,家族为纬”,“国”和“家”紧密结合,这是西周社会组织的特点。……周天子与绝大多数的诸侯都是亲戚关系,同姓诸侯不是他的兄弟就是他的子侄,异姓诸侯通过婚姻与他形成甥舅之亲。这表明

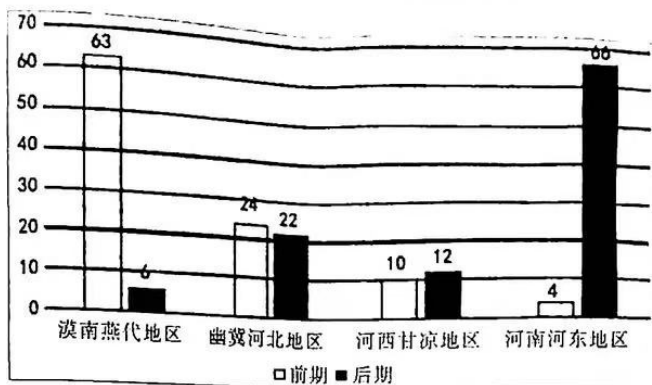
- A. 西周宗法制以嫡长子继承制为核心
- B. 西周通过分封制强化国与家的联系
- C. 宗法制度是分封制实行的重要保障
- D. 分封制加强了周天子对地方的统治

3. 下图为里耶秦简中一枚户籍简的示例。这批户籍简每枚最多包括五个部分,即上面所谓的五个“栏”,少的也有二三个。“栏”的多少是由该民户的人员构成情况决定的……第一栏并非户主栏,而是“丁壮男子栏”;第二栏也并非配偶栏,而是“丁壮女子栏”;第三栏为“非丁壮男子栏”;第四栏为“非丁壮女子栏”;最后一栏属于备注栏,主要是注明一些非普遍性的特殊情况。据此可知该枚户籍简

第一栏: 南阳户人荆不更宋午
弟不更熊
弟不更卫
第二栏: 熊妻曰
卫妻曰
第三栏: 子小上造传
子小上造逐
子小上造
熊子小上造
第四栏: 卫子小女子
第五栏: 臣曰

- A. 作为征发徭役兵役依据的性质明显
- B. 体现了以男性为核心的家庭构成
- C. 说明流行以家庭为单位的小农经济
- D. 表明当时血缘宗法关系受到了冲击

4. 下图为北魏前期、后期中枢机构长官籍贯数量分布柱形图。



影响图示中官员籍贯数量变化的重要原因是

- A. 鲜卑历史传统的影响
- B. 国家中心区域的变化
- C. 经济重心南移的推动
- D. 中枢权力机构的调整

5. 下表是唐初推行均田制的授田情况(部分), 据此可推知

类别	授田依据	永业田	口分田
百姓	中男、丁男	20 亩	80 亩
勋官	勋位	30 顷至 60 亩	\
职事官	官品	60 顷至 2 顷	\
贵族	等级	100 顷至 5 顷	\

- A. 唐朝政府不抑兼并
 - B. 政治地位与经济利益相背离
 - C. 税收原则有失公正
 - D. 推行均田制有利于扩大税面
6. 南宋时, 朱熹对《吕氏乡约》的内容稍加修改, 定名为《增损吕氏乡约》。开篇指出: “事亲能孝, 事君能忠。夫妇以礼, 兄弟以恩, 朋友以信。能睦乡邻, 能敬官长, 能为姻亲。与人恭逊, 持身清约, 容止庄重, 辞气安和。衣冠合度, 饮食中节。凡此皆谓之德”。《增损吕氏乡约》的推行
- A. 确立了理学的主导地位
 - B. 强化了社会主流的价值观
 - C. 实现了乡约与法律合流
 - D. 阻碍官方意识形态的推广
7. 明清之际的士人在面对这样一个现实的时候是如此感知和行动的: “对正统观念较强的士大夫来说, 他们认为当时的天下是乱哄哄的。”所以希冀恢复儒家的礼治来重建四民社会的秩序, 并对抗当时亦十分流行的佛道礼义。江浙地区的士人们还编撰和刊行行为仪则的小册子, 多以“戒”或“约”为名。由此可知明清社会


- A. 商品经济繁荣
- B. 传统道德丧失
- C. 空谈之风盛行
- D. 佛道冲击儒学

高三历史试题第 2 页(共 7 页)

8. 有学者认为,戊戌变法是“在一场不彻底的经济改革基础上进行的一场不彻底的政治改革。由于没有真正兴起的市场经济力量作为基础,戊戌变法显得有些心急火燎而又一厢情愿。最起码,对于一个百姓困苦,还在为他们的生存而发愁的国家来说,这样的改革也太奢侈了。他意在强调

- A. 变法过急不具彻底性
- B. 变法触动了顽固派利益
- C. 变法失败的根本原因
- D. 变法不符合中国的需要

9. 党领导的人民军队在不同历史阶段有不同名称,不同的军服。下列两幅图是人民军队不同时期的军帽。从左图军帽到右图军帽



- A. 反映了全面抗战的开始
- B. 体现了抗日民族统一战线的建立
- C. 反映红军致力于反“围剿”的斗争
- D. 体现中国共产党全面抗战的路线

10. 从二十世纪 70 年代末期起,浙南地区的私营经济迅速发展起来。在此过程中,浙南官员发放了新中国成立后的第一张个体工商户执照、公布了第一个允许民众在县城摆摊的政策、拟定了第一份股份合作制企业的章程。由此可知

- A. 思想解放决定经济改革的成败
- B. 市场调节对经济发展的重要作用
- C. 中央与地方政府存在互补关系
- D. 增强企业活力是改革的中心环节

11. 教皇英诺森三世(1198—1216 年在位)利用外交“技巧”和政治手腕,在欧洲政治舞台上纵横捭阖,使欧洲的一些君主成为教廷的封臣。然而 14 世纪以后,各国纷纷切断本国教会和罗马教廷的关系,同时加强对本国教会的控制,削弱和缩小了天主教会的势力范围。这一变化说明,

- A. 欧洲各国之间的矛盾冲突日益加深
- B. 西欧国家民众的信仰危机开始出现
- C. 顺应了新教徒资本原始积累的要求
- D. 欧洲各国政治实力和经济实力增强

12. 马克思主义认为,“无论哪一个社会形态,在它所能容纳的全部生产力发挥出来以前,是决不会灭亡的;而新的更高的生产关系,在它的物质存在条件在旧社会的胎胞里成熟以前,是决不会出现的”。1871 年法国巴黎公社最终失败;20 世纪俄国十月革命取得胜利,建立了人类历史上第一个社会主义国家;中国“五四运动”后开启新民主主义革命新阶段,并走上了“工农武装割据革命新道路”。由此可知

- A. 失败的原因是没有经过马克思主义的指导
- B. 马克思主义并不适用于世界上所有的地区
- C. 各国对马克思主义的认识和实践逐渐深化
- D. 马克思主义是不断发展、与时俱进的理论

高三历史试题第 3 页(共 7 页)

13. 根据美国宪法,美国总统选举实行选举人团制度,总统由各州议会选出的选举人团选举产生。各州选举人票的数量根据其在国会的议员数量而定,总统候选人获得超过半数的选举人票即可当选总统。绝大多数州实行“胜者全得”制度,即将其选举人票全部给予获得相对多数选民的总统候选人。美国宪法还规定,如果所有总统人选都未获得半数人以上的选举人票,由国会众议院从得票最多的前三名候选人中选出总统。据此可知,美国选举人团制度

- A. 选举受金钱化影响严重
- B. 是选民行使民主权力的重要途径
- C. 使政党的作用有所增强
- D. 是多种利益间妥协与协调的产物

14. 下表是《两次大战之间亚非拉主要民族民主运动一览表》。从表中信息可推知这一时期民族解放运动的新特点是

地区	国家	主要事件
亚洲	中国	中国共产党探索革命新道路,领导人民进行新民主主义革命
	印度	甘地领导国大党,进行非暴力不合作运动,与英国殖民者作斗争
非洲	埃及	在华夫脱党领导下英国被迫让步,埃及宣布为独立的君主立宪国家
	埃塞俄比亚	与反法西斯同盟国军队一起,击败了意大利侵略军
拉丁美洲	尼加拉瓜	桑地诺领导游击队反对美国扶植的独裁政权,迫使美军撤出
	墨西哥	卡德纳斯改革引导墨西哥走上现代化之路

- A. 在斗争形式上呈多样性特征
- B. 在性质上都属于资产阶级革命范畴
- C. 在具体内容上都属于捍卫主权的斗争
- D. 在背景上都是资本主义迅速发展的产物

15. 1933年,世界经济会议在伦敦举行,旨在解决经济危机问题。在会议中,英国强调稳定国际金融,力图以此重新主导世界经济秩序;美国则认为政府的首要责任是恢复国内的繁荣,主张降低关税。会议未能取得实质性成果,由此可推知

- A. 国家干预尚未成为主流的经济政策
- B. 与会各国均没有达成合作的意愿
- C. 各国发生危机的根本原因不尽相同
- D. 存在建立合理经济体系的必要性

16. 丹尼尔·德特勒在《冷战 1947~1991：一个极端时代的历史》一书中写道：1973 年 11 月 5 日，在阿拉伯石油输出国组织的部长会议上，他们首次达成了“一致决议”：普遍降低石油产量 25%。仅仅几周后又做出了原油价格翻倍的决定。……这种“石油封锁”对整个西方经济都产生了影响，并且从这里演变为一场全面的世界经济危机。作者在这段文字中运用了

- A. 历史叙述和历史结论
- B. 历史叙述和历史解释
- C. 历史叙述和历史观点
- D. 历史结论和历史解释

二、非选择题（本大题共 4 小题，其中第 17 题和 18 题各 14 分，第 19 题和 20 题各 12 分，共 52 分）

17. (14 分)“引经决狱”又称“春秋决狱”，是指产生于西汉中期的一种以儒家经义为指导思想的审判方式。阅读材料，完成下列要求。

材料一 时有疑狱曰：“甲无子，拾道旁弃儿乙，养之以为子。及乙长，有罪杀人，以状语甲，甲藏乙。甲当何论？”仲舒断曰：“甲无子，振活养乙，虽非所生，谁与易之。《诗》云：‘螟蛉有子，蜾蠃负之’。《春秋》之义，父为子隐，甲宜匿乙。”诏不当坐。

——摘编自董仲舒《春秋决狱》

材料二 《春秋》之听狱也，必本其事而原其志。志邪者不待成，首恶者罪特重，本直者其论轻。

——摘自董仲舒《春秋繁露》

材料三 故《春秋》之治狱，论心定罪。志善而违于法者免，志恶而合于法者诛。

——摘自(西汉)桓宽《盐铁论·刑德第五十五》

(1)根据材料一并结合所学知识，分析董仲舒判决此案的依据？从“诏不当坐”可以反映出哪些重大历史信息？(6 分)

(2)根据上述材料结合所学知识，提取两个关键词并评析“春秋决狱”这一审判方式。(8 分，要求：明确写出关键词，并以此为中心展开论述；史论结合，论证充分，逻辑严密)

18. (14分)现代化潮流浩浩荡荡,中国的现代化在探索中前行。阅读材料,完成下列要求。

材料一 中国现代化的最初启动可以上溯到十九世纪60年代的自强运动。从十九世纪后期的世界发展来看,以内燃机和电动机带来的“电工技术革命”正以新的力量推动现代化的第二次浪潮。从国内形势来看,这时正处于一次全国性农民运动的平息与社会恢复时期,对外贸易大都是顺差,对外关系也有渐近的调整(只有中法关系趋于恶化)。这正是幸存的清王朝得以推动改革的有利时机。在陈腐土壤上,嫁接若干近代工业的植株,其前景虽然未必美妙,但启动了中国早期由政府主导的自上而下的工业化进程。

——摘编自罗荣渠《现代化新论》等

材料二 在十九世纪下半叶至二十世纪初的第二次现代化大浪潮之后,世界经济出现了三十年的停滞与徘徊。……二十世纪初,西欧北美资本主义的大发展孕育了空前的内部危机:首先是各发达资本主义工业国集团之间争夺市场的斗争白热化,加之军国主义兴起与经济军事化,引起了两次世界大战;其次是首次席卷全球的生产过剩经济危机;随之而来的是法西斯主义作为自由资本主义的反动而猖獗一时。这些新因素导致现代生产力的阻滞,延缓了现代化推进的势头,在此期间,世界分裂为资本主义与社会主义两种不同的现代经济体系,对后来的国家的现代化道路选择与新探索发生了重大影响。

——摘编自罗荣渠《现代化新论》

(1)根据材料一,概括十九世纪后期中国自强运动面临的“有利时机”。(6分)

(2)根据材料二,概括第二次现代化大浪潮之后,导致资本主义世界经济出现“三十年的停滞与徘徊”的“新因素”。结合材料所述的现代化情况,谈谈对我国当今的现代化建设的启示(8分)

19. (12分)阅读材料,完成下列要求。

材料 尽管耶稣会士带来了这些西方文明的样本,但他们并不是推动中国进行现代化的催化剂。传教士只是代表西学的一缕缕微弱之光,在一小部分进步的中国士大夫中间隐约闪亮,却从未照射到其他地方,他们充其量只是给几乎不可变更的中华文明带来了一阵微微的颤抖而已。中国士大夫总体上对自己的文化遗产自负非凡,以致不承认需要吸收外来学识。讽刺的是,恰恰就在西学在中国衰微后不久,西方的政治、经济、社会 and 科学领域出现了巨大的进展。与此相反,中国的士人却在他们“繁华的往昔”里寻找行动的

高三历史试题第6页(共7页)

指南,并专注于古代经籍的研究。欧洲在探索进步的道路上突飞猛进,而中国却鼾睡在辉煌的梦境里。把中国从它的睡梦中推醒,需要做出远比耶稣会士所能做出的更夸张、更猛烈的举动。

——摘编自【美】徐中约《中国近代史:1600-2000,中国的奋斗》

结合材料和所学知识,围绕“中西方历史走向(1500—1900)”自拟论题,并就所拟论题进行阐述。(要求:史论结合,论证充分,逻辑严密)

20. (12分)阅读材料,完成下列要求。

材料一 法国涉足东方比英国和荷兰晚半个世纪。17世纪中叶,当英荷争夺好望角航路控制权时,法国一些政治家、经济学家和商人已开始把注意力转移到恢复旧商路上。……他们认为用恢复旧商路的办法来与好望角新航路相抗衡,可以在与英荷争夺东方的斗争中占据优势。

——摘自赵军秀《评英法开凿苏伊士运河的矛盾》

材料二 1854年法国人莱塞普斯向埃及提出运河修建计划。该计划传出之后,英国坚决反对。在美国独立之后,英国已经失去了广大的北美殖民地。对英国来说已经将海外殖民的重心转到了印度殖民地上,英国不允许其他国家染指印度。……伴随着运河的修建,英国害怕自己超级大国地位的消失,印度可能受到威胁,地中海沿岸周边国家在通向东方的道路上会占据有利的位置。

——摘自史丽婵、李阳《法国开凿苏伊士运河始末探究》

(1)材料一二反映了英法两国在开凿苏伊士运河问题上存在怎样的矛盾?(4分)

(2)根据材料并结合世界近现代史相关知识,概述苏伊士运河的历史地位。(8分)

关于我们

自主选拔在线是致力于提供新高考生涯规划、强基计划、综合评价、三位一体、学科竞赛等政策资讯的升学服务平台。总部坐落于北京，旗下拥有网站（网址：www.zizzs.com）和微信公众平台等媒体矩阵，用户群体涵盖全国90%以上的重点中学师生及家长，在全国新高考、自主选拔领域首屈一指。

如需第一时间获取相关资讯及备考指南，请关注**自主选拔在线**官方微信号：**zizzsw**。



 微信搜一搜

 自主选拔在线