

鞍山市一般高中协作校 2022-2023 学年度高一六月月考

历史试卷

出题人：高一历史集备组

考试时间为 75 分钟 满分 100 分

本试卷分第 I 卷（选择题）和第 II 卷（非选择题）两部分。

第 I 卷（选择题 共 60 分）

一、单项选择题（本卷共 30 道题，每小题 2 分，共 60 分。在每小题给出的四个选项中，只有一项符合题目要求。）

1. 1978 年，湖北随州曾侯乙墓出土了一件精美的漆箱，箱盖上绘有按星空方位标注的二十八星宿图，其中的星宿名称多数与《石氏星表》中的记载相同。这表明（ ）

- A. 图像比文献记载更可靠
- B. 西周重视天文观测
- C. 文物与文献可相互印证
- D. 楚国漆器工艺精湛

2. 目前考古发现的唐代窑窑遗址有河北的定窑、河南的巩县窑、浙江的越窑、湖南的岳州窑等数十处，它们或临永济渠、江南河，或临黄河、长江、赣江、湘江、钱塘江等自然河流。这体现了（ ）

- A. 南北经济差距的拉大
- B. 私营手工业占据主导地位
- C. 水运的重要经济地位
- D. 瓷器对外贸易规模的扩大

3. 清末《游学译编》上刊登的《劝同乡父老遣子弟航洋游学书》云：“向之极可慕恋之科举的虚名者，今已为蕉梦矣。而出洋学成，量与出身，已见明途，宦达之路、利禄之路、学问之路、名望之路，胥于是乎在。”这反映了当时

- A. 出洋留学受到社会的广泛支持
- B. 落第士人成为官派留学生主要来源
- C. 新政改革加快了社会结构变动
- D. 科举停废改变了国人的中西体用观

4. 党的二十大大上，习近平总书记提出“三个务必”继承了优良革命传统。1945 年，毛泽东在《论联合政府》中号召人民军队应“具有一往无前的精神，它要压倒一切敌人，而决不被敌人所屈服。不论在任何艰难困苦的情况下，只要还有一个人，这个人就要继续战斗下去”。这一号召

- A. 反映出抗日战争面临空前严重的困难
- B. 折射出日军战略进攻势头异常猛烈
- C. 强调人民军队要具有敢于斗争的精神
- D. 肯定了人民解放军坚强的战斗意志

5. 1954 年 8 月，毛泽东在接见英国工党代表团时指出：“我们这类国家，如中国和苏联，主要依靠国内市场，而不是国外市场。这并不是说不要国外联系，不做生意。不，需要联系，需要做生意，不要孤立。”他意在强调中国

- A. 需要学习和借鉴西方经验
- B. 经济建设要坚持自力更生
- C. 应逐步放弃“一边倒”政策
- D. 愿意开展对外经济交流

6. 1958 年后东北逐渐形成了以机械制造业为主的重工业产业结构。与此相关的史实是（ ）

- ①计划经济的实行 ②八字方针的提出 ③借鉴苏联经验 ④实行科教兴国战略
- A. ①② B. ②③ C. ①③ D. ③④

7. 如表是邓小平在改革开放不同时期的讲话。这些讲话旨在（ ）

讲话	出处
我们要在大幅度提高社会生产力的同时，改革和完善社会主义的经济制度和政治制度	《邓小平文选》
我们过去发生的各种错误，固然与某些领导人的思想、作风有关，但是组织制度、工作制度方面的问题更重要	《邓小平文选》
为了适应社会主义现代化建设的需要……和国家的领导制度以及其他制度，需要改革的很多	《改革开放三十年重要文献选编》


- A. 构建和市场经济相统一的政治体制
- B. 探索中国特色的社会主义制度

- C. 认真维护公民在社会中的基本权利 D. 建立中国特色法治建设的基础
8. 公元前5世纪伯罗奔尼撒战争期间，希腊地震不断发生，有时还引起海啸。时人认为这是神灵的警示，修昔底德则认为地震不过是巧合的自然现象，而海啸是由地震吸引海水离开海岸，海水回冲后产生的水灾。据此可知，修昔底德
- A. 具有理性精神 B. 强调了人的个性自由
C. 集文化之大成 D. 创立了朴素唯物主义
9. 拟诉弃权，是指罗马法中通过模拟诉讼而转移财产所有权的方式。是早期市民法上所有权取得之一种。拟诉弃权适用范围较为广泛，其标的可以是有体财产，也可无体财产；其交易形式可以是要式转移，也可略式转移；其交易内容可以是买卖，也可借贷，甚至还可是继承，收养及劳役等交易。拟诉弃权反映了罗马当时（ ）
- A. 处于共和国时期 B. 重视保护私有财产
C. 商品经济的落后 D. 奴隶制社会的本质
11. 西班牙、葡萄牙作为开发新航路的先驱，自然拥有发展资本主义的优先权。可但是，西葡两国的资本主义发展非常缓慢，在很长时间内，都是西欧最落后的封建国家之一现在也只是中等发达的资本主义工业国，是西欧内部的第三世界，依附型的资本主义国家。其本质原因是（——）
- A. 封建制度的根深蒂固 B. 皇室素质下降
C. 技术的落后 D. 君主专制加强
12. 15世纪，意大利兴办了一种寄宿学校，学校的学生以贵族子弟为主，也招收并资助有才华的

- 贫苦学生，男女同校。教学内容包括拉丁文、希腊文、教会法规、数学、几何、历史、音乐、体操、舞蹈、游泳等。这表明意大利
- A. 建立了近代化教育制度 B. 科技革命与社会进步相互影响
C. 教育摆脱了宗教的束缚 D. 思想解放与教育变革相互促进
13. 法国大革命时期，雅各宾派的新纲领宣称：“在今日以前一切都受到宗教的管辖，今日以后，却是理性管辖的时代了……从前的宗教时代已经结束，我们应该用哲学的宗教，即理性的光明来为历史上开一新纪元。”可见，雅各宾派的新纲领（ ）
- A. 使阶层间分化日益严重 B. 推动了宗教改革的深入
C. 促进了近代科学的诞生 D. 得益于启蒙运动的开展
14. 财富从伊比利亚转移至西欧大洋沿岸，激起了欧洲国家之间的商业竞争和对海洋世界控制权的争夺，为了提高商业资金筹集的效率和减少不必要的中间消耗，国家从间接统治转向直接统治，表现为“对公民进行统一语言、货币和法律体系的同质化”。该学者意在强调（ ）
- A. 西欧政治世俗化源于产业革命 B. 商业竞争促进了民族国家崛起
C. 资本主义发展促进了欧洲联合 D. 近代资本主义的发展具有扩张性
15. 英国史学家艾瑞克·霍布斯鲍姆说：“无论什么时候，不管是在什么地方，只要有麻烦，就有《共产党宣言》……今天的世界依然是麻烦不断的世界，因此，世人仍然需要《共产党宣言》。”这样评价是因为《共产党宣言》（ ）
- A. 全面系统地阐述了科学社会主义理论 B. 明确了无产阶级革命的最终目的
C. 指明阶级斗争对历史发展的推动作用 D. 揭示了人类社会发展的基本规律
16. 在19世纪的美国，女性往往被认为是家庭领域中崇尚虔诚、顺从、纯洁、持家的“真正的女性”；但在19世纪上半叶的北方，女性却被视为具有天然道德优势而成为工厂首选。至此，“职业女性”与“真正的女性”逐渐分道扬镳。导致“分道扬镳”的主要原因是（ ）
- A. 奴隶制度的废除 B. 女性具有道德优势

- C. 女权运动的兴起 D. 工业化进程的加快
17. 某国议会通过对政府的不信任案后,政府首脑立即提请国家元首解散议会,重新进行议会选举。下面关于该国政体特征说法正确的是()
- A. 该国的国家元首是首相 B. 内阁是国家权力中心
C. 体制建立之初曾经的元首已无行政权 D. 内阁与首相共进退
18. 通过数据显示美国国会总统提出的议案进行否决的比例照比之前大幅度下降,反映出美国政体特征()
- A. 总统成为国家权力中心 B. 总统行政权力的膨胀
C. 国会丧失立法权 D. 打破了三权分立体制
19. 19世纪60年代,德国产业工人的数量约为200万,1882年增至410万,占就业人数的45%。与此同时,德国工人组织起来以实现自己的利益诉求,1863年,他们建立起全德工人联合会,1875年又建立起统一的德国工人政党——德国社会民主党。这可用来说明()
- A. 德国成为当时国际工人运动中心 B. 德国旧制度不适应时代发展的需要
C. 工业革命改变了德国的阶级结构 D. 经济发展助长了德国工人政治诉求
20. 20世纪初,印度国大党领导人提拉克提出了司瓦拉吉(自主)政治纲领,同时把印度历史上争取民族独立的英雄西瓦杰作为司瓦拉吉的象征,从而使这个纲领含有争取民族独立之意。他还主张未来印度实行代议制,采取联邦共和政体。由此可知,提拉克的主张
- A. 要求独立后实行君主国的政治体制 B. 具有反帝反封建的民主革命色彩
C. 希望联合欧洲无产者埋葬资本主义 D. 表明印度民族资产阶级趋向成熟
21. 1913年,列宁在《马克思学说的历史命运》中说:“极大的世界风暴的新的发源地已在亚洲出现。……八亿人民的亚洲投入了为实现和欧洲相同的理想的斗争。”“相同的理想”指的是
- A. 推翻帝国主义的压迫 B. 建立资产阶级共和国
C. 摧毁资本主义世界殖民体系 D. 实现全世界无产阶级的联合

22. 1920年9月,列宁说:“要使每个农民家庭,连一普特余粮都不剩”。1921年3月,列宁就农民交完税后出售粮食一事说:“如果他们单个地换粮食,那有什么大不了的?……不应当加以阻挠。”这一变化反映了
- A. 苏联政权正面临着巨大危机 B. 社会主义改造正在进行
C. 社会主义过渡方式出现调整 D. 市场经济体制重新确立
23. 1952年,美国某公司一张主推其牛津布衬衫系列的广告海报(下图),上面有四个穿着该公司不同款式的白人男性和一名印第安人。下方配文则是“全世界最时髦(聪明)的衬衣”。这主要体现了当时的美国



- A. 重视争夺印第安人市场 B. 意图笼络印第安人
C. 旨在推动印第安人进步 D. 种族歧视根深蒂固
24. 二战后,某学者在谈到拉美与美国的关系时表示,拉美对美国有三个重要意义:一是保障美国的“原料”供应,二是防止“敌人”在军事上利用拉美,三是防止“从心理上动员拉美来反对我们”,拉美在美国的战略地位尤为重要。据此可知
- A. 美国深受冷战思维影响 B. 是美国冷战思维在新时期表现

25. 1957年《罗马条约》签署时，条约文本因故无法打印，为避免延生变，法、意、荷、比、卢和联邦德国六国代表决定先在空白纸上签名，这就是著名的“空白页面”故事。这违背常规的做法在一定程度上体现出
- A. 西欧货币同盟建立迫在眉睫
B. 欧洲各国形成高度政治互信
C. 与会各国实现联合愿望迫切
D. 共同应对石油危机刻不容缓
26. 如图“欧洲站立”摘自《扩张》(1986年12月)，站台上显示的是1970年各方的购买力数额。这种局面形成的主要原因是



- A. 日本开始谋求政治大国的地位
B. 资本主义国家经济政策的调整
C. 以信息技术为主导的“新经济”出现
D. 以美元为中心的世界货币体系的崩溃
27. 下表2是1965—1975年间美国和苏联国内生产总值和各自军费开支统计表。(单位: 亿美元)

年份	国内生产总值	军费开支
1965年	6834	3290
1970年	9778	5160
1975年	15057	8660

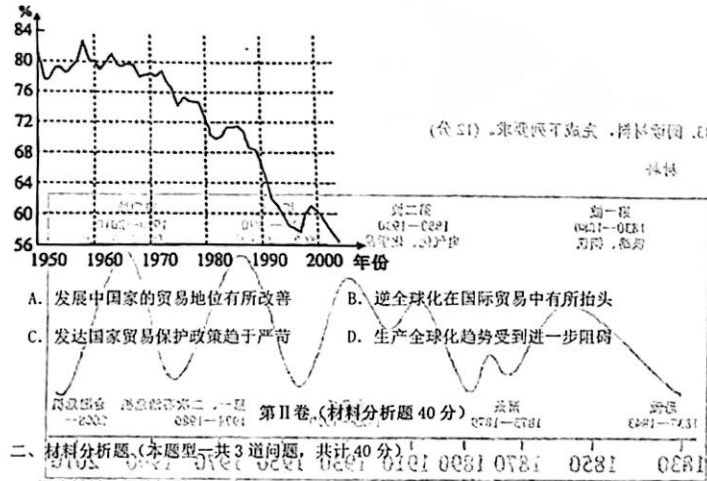
- | 年份 | 美国 | 苏联 | 美国 | 苏联 |
|-------|-------|------|-----|------|
| 1965年 | 6834 | 3290 | 546 | 370 |
| 1970年 | 9778 | 5160 | 834 | 539 |
| 1975年 | 15057 | 8660 | 921 | 1240 |
- 据此可知
- A. 冷战推动了军事科技进步
B. 军备竞赛影响了苏联人民生活水平
C. 为美国“滞胀”埋下隐患
D. 美苏经济发展与军事力量同步增长

28. 如图是20世纪70年代历次不结盟国家和政府首脑会议发表的主要文件。它们反映出不结盟运动发展的目标是

1970年:《关于和平、独立、发展、合作和国际关系民主化宣言》《关于不结盟和发展宣言》
1973年:《政治宣言》《经济宣言》《经济合作行动纲领》《关于民族解放斗争宣言》《关于海洋法宣言》
1976年:《政治宣言》《经济宣言》《经济合作行动纲领》
1979年:《政治宣言》《经济宣言》

- A. 实现第三世界的经济合作
B. 建立国际政治经济新秩序
C. 维护亚非拉国家民族独立
D. 构建政治经济一体化组织
29. 法国总统马克龙曾直言不讳的说“我们目前正在经历的是北约的脑死亡”。他警告我们正站在“悬崖边上”，首先需要做的是，要从战略上把自己视为地缘政治大国；否则，将“不再掌握自己的命运”。马克龙言论旨在
- A. 加强欧洲各国团结
B. 阻止北约继续扩张
C. 抵制美国霸权主义
D. 维护法国外交自主

30. 下图所示为1950~2004年发展中国家(地区)向发达国家(地区)的出口占本国(地区)总出口的比重变化。据图可知,这一时期



二、材料分析题(本题型一共3道问题,共计40分)

31. 阅读材料,回答问题(12分)

材料一 从18世纪60年代的工业革命开始,到1851年,英国花了92年的时间,成为世界上第一个城市人口超过总人口50%的国家,基本上实现了城市化。经济学家保尔·芒图说,正是大批农村闲置劳动力的涌入,大工业的发展才成为可能,而大工业的发展又加速了农村人口流动和迁移,两者密切联系,互为因果,形成了农村人口向城市迁移的推拉力机制从17世纪到20世纪初,英国政府对社会领域进行不断探索,以实现城市社会管理,从济贫法到社会保险的一系列社会立法,提高了城市的凝聚力。

——摘编自唐庆《近代英国农村人口的迁移与城市化》

材料二 “农民工”指的是虽然身份是农民,但主要在城镇从事二、三产业工作的人。农民

工身份是农民,职业是工人,是特殊的社会群体。中共中央于1984年发布6号文件,规定允许农民自筹资金自理口粮,进入城镇务工经商。此文件可谓农村劳动力流动政策变动的一个标志,自此,农民工开始大量涌进城市。2018年,全国农民工总量是28836万人,其中在本地就业的农民工11570万人,外出进城就业的农民工17266万人。

——摘编自徐胜兰《生计与发展——浅析农民工进城的“推力”》

(1) 根据材料一、二并结合所学知识,概述中英两国人口迁移的共同特征,并分析造成上述特征变化的原因。(6分)

(2) 根据材料一、二并结合所学知识,归纳中英两国人口迁移的共同影响。(6分)

32. 阅读材料,回答问题(16分)

材料一 20世纪80年代末90年代初,联邦德国针对通讯、邮政、铁路等国家垄断行业的国有企业集中进行私有化。这类国有企业承担了较多的公共任务,盈利能力较差,很多长期以来都享受着公共财政的补贴。在此次私有化过程中,德国对不同类型的企业采取了不同的方式:对于大型国有企业(如铁路、邮政等),政府对供进行改组上市,并逐步减少政府的持股比例;对于小型的国有企业和不动产,政府主要采取直接出售或拍卖的方法。尽管在私有化的过程中很多国企降低了政府的持股比例,但仍保留了政府对企业的控制权,国有企业在德国经济中仍发挥着重要作用。

——摘编自郎昆、冯俊新《德国、法国国有经济:发展历程和经验启示》

材料二 20 世纪 80 年代中后期，国营企业实行经营承包制，这在当时是一种企业制度的创新。但是由于承包制没有触及企业的基本产权制度，且本身还存在着“短期行为”等一些难以克服的缺陷，无法适应国营企业参与市场竞争的需要，使得承包制难以维持。中共十四大后，随着大型国有企业建立现代企业制度改革试点的逐步推进，改制上市迅速成为这个时期大型国有企业改革的主流：“放小”同“抓大”一样，是我国 20 世纪 90 年代国有企业所有权制度改革的另一重要举措。1997 年上半年，实行民营化的国有中小企业已占国有中小企业总数的 50% 以上。

——摘编自剧锦文《20 世纪 90 年代：国企改革与重组的变奏》

材料三 国企改革的肇始和四十余年的流变，也是中国经济向市场化探索、实践乃至形成中国特色模式的过程。1978 年党的十一届三中全会以后，中国经济体制在改革探索中逐步由计划经济向市场经济转轨，其中国有企业开始了漫长而曲折的改革历程。每个阶段的改革背后都烙印着时代发展需求的痕迹，而最终共同呈现出一种“国企改革的中国范式”。

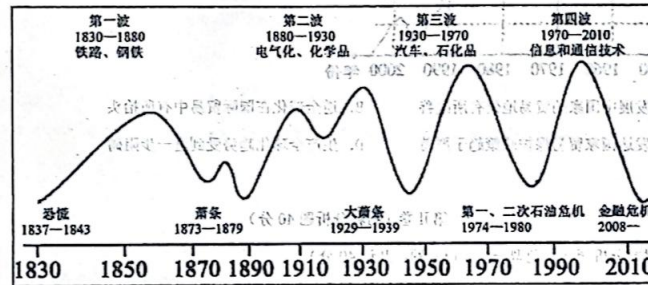
——摘编自贺佳雯《渐进的国企改革》

(1) 根据材料一、二，分别概括 20 世纪 80 年代中国和联邦德国国企改革的特点。(6 分)

(3) 根据材料并结合所学知识，就 20 世纪八九十年代各国国企改革，谈谈你的认识。(4 分)

33. 阅读材料，完成下列要求。(12 分)

材料



——据(芬)马库·维莱克斯《第六次浪潮》

图片反映了 1830—2010 年世界经济波动的情况。从材料中提取信息，拟定一个论题，结合所学知识加以论述。(要求：论题明确，持论有据，表述清晰)

关于我们

自主选拔在线是致力于提供新高考生涯规划、强基计划、综合评价、三位一体、学科竞赛等政策资讯的升学服务平台。总部坐落于北京，旗下拥有网站（[网址：
www.zizzs.com](http://www.zizzs.com)）和微信公众平台等媒体矩阵，用户群体涵盖全国 90% 以上的重点中学师生及家长，在全国新高考、自主选拔领域首屈一指。

如需第一时间获取相关资讯及备考指南，请关注**自主选拔在线**官方微信号：[zizzsw](https://www.zizzs.com)。



 微信搜一搜

 自主选拔在线