

2023 届高三统一考试试题 思想政治

本试卷满分 100 分, 考试用时 75 分钟。

注意事项:

1. 答题前, 考生务必将自己的姓名、考生号、考场号、座位号填写在答题卡上。
2. 回答选择题时, 选出每小题答案后, 用铅笔把答题卡上对应题目的答案标号涂黑。如需改动, 用橡皮擦干净后, 再选涂其他答案标号。回答非选择题时, 将答案写在答题卡上。写在本试卷上无效。
3. 考试结束后, 将本试卷和答题卡一并交回。
4. 本试卷主要考试内容: 高考全部内容。

一、选择题: 本题共 16 小题, 每小题 3 分, 共 48 分。在每小题给出的四个选项中, 只有一项是符合题目要求的。

1. 百年党史告诉我们, 走自己的路, 最根本的是要独立自主。我们要坚持中国的事情由中国人民自己做主张, 自己来处理; 反对亦步亦趋, 匡套他国经验, 照搬他国道路。下列选项属于“走自己的路”的是

①通过和平演变, 建立无产阶级政权	②走“一化三改”的社会主义建设之路
③走建设有中国特色的社会主义之路	④走农村包围城市、武装夺取政权的道路
A. ①②	B. ①④
C. ②③	D. ③④
2. 2022 年 11 月, 工信部公示年度国家小型微型企业创业创新示范基地名单。自 2015 年起, 工信部开展国家小型微型企业创业创新示范基地遴选, 旨在培育一批基础设施完备、运营管理规范、商业模式清晰、创新链完整、产业链协同、服务功能齐全、服务业绩突出、社会公信度高、示范带动作用强的创业创新示范基地。建立国家小型微型企业创业创新示范基地有利于

①提升小微企业效率和市场竞争力	②健全支持小微企业发展的法治环境
③引导支持小微企业转变发展方式	④全面提升小微企业劳动者的素质
A. ①③	B. ①④
C. ②③	D. ②④
3. 2022 年以来, 为有效应对国内经济面临的不确定性, 党中央、国务院及时推出一揽子政策措施(见下表)。

①	在已出台的制造业等 6 个行业企业的存量留抵税额全额退还、增量留抵税额按月全额退还的基础上, 还将住宿和餐饮业等 7 个行业企业纳入该政策范围
②	将普惠小微贷款支持工具的资金支持比例由 1% 提高至 2%, 更好引导和支持地方法人银行发放普惠小微贷款
③	启动新一轮农村公路建设和改造, 在完成 2022 年目标任务的基础上, 再新增完成新改建农村公路 3 万公里、改造农村公路危桥 3000 座
④	加快推动以沙漠、戈壁、荒漠地区为重点的大型风电光伏基地建设

上述政策措施的影响路径传导正确的是

- ①运用财政政策→减轻企业税收压力→增强企业发展信心→激发经济发展内生动力

【高三思想政治 第 1 页(共 6 页)】

考号

题

答

要

不

内

线

封

密

班级

学校

- ②运用货币政策→增强金融服务能力→加大转移支付力度→为经济发展注入金融活水
 ③加大农村基础设施投资→补齐农村发展短板→增加农村社会总供给→助力乡村振兴
 ①发展新能源产业→提高绿色低碳发展水平→提升我国发展质量→实现可持续发展
- A. ①② B. ①④ C. ②③ D. ③④
4. 针对现实生活中人们可能遇到的疾病、失业、养老、灾害、生活贫困等问题，国家依法建立起由政府和社会承担主要责任的社会保障、社会救助、社会福利、社会优抚等形式的社会保障“安全网”。下列选项中的日常生活场景与保障形式对应正确的是
- ①李大爷小时候因病致残，丧失劳动能力，膝下无儿无女——生育保险
 ②张婶就职于一家保洁公司，月工资只能维持基本生活——社会救助
 ③王某在服役期间为维护祖国边防安全失去劳动能力——社会优抚
 ④国家向农村老年人、儿童等特殊群体提供社会化服务——社会福利
- A. ①② B. ①④ C. ②③ D. ③④
5. 对党章进行修改是党的二十大的一项重要任务。党章的每一次修改，都反映出中国共产党对客观实际和客观规律认识上的深化，都是对党的实践经验的最新总结，体现党的实践创新、理论创新、制度创新最新成果，能够在推进党的事业、加强党的建设中发挥重要指导作用。由此可见，修改党章是
- ①中国共产党能始终走在时代前列的法宝
 ②深入推进新时代党的建设新的伟大工程的需要
 ③中国共产党区别于其他政党的显著标志
 ④马克思主义政党实事求是优良作风的充分彰显
- A. ①② B. ①③ C. ②④ D. ③④
6. 下表是我国构建国有资产管理情况报告制度的历程：

2017年，党中央印发《中共中央关于建立国务院向全国人大常委会报告国有资产管理情况制度的意见》，对构建国有资产监督制度体系作出全面部署
2019年，全国人大常委会围绕该意见，制定首个专项监督工作五年规划，对届内国有资产监督工作作出统筹安排，确定总体目标和重点任务
2020年，全国人大常委会关于加强国有资产管理情况监督的决定出台，将监督工作程序、有效做法和有益经验制度化
2022年，全国人大常委会议事规则、地方组织法等法律获修，增加政府向同级人大常委会报告国有资产管理情况、加强人大国有资产监督职能相关内容

- 由此可见
- ①把党的主张转化为国家意志是人民代表大会制度的一项基本功能
 ②人民代表大会制度是保障人民当家作主的根本政治制度
 ③全国人大常委会紧扣党中央部署要求，依法行使职权
 ④党中央在我国国家机关组织体系中居于最高地位
- A. ①② B. ①③ C. ②④ D. ③④
7. 2022年11月，某地开展“公述民评”活动。该活动聚焦民生领域工作中的痛点、堵点、难点，以“问、答、评”形式进行深度问政，不断拓展调查研究力度，通过探讨分析、理性对话助力各部门和地区深入查摆问题、寻求破题之策。该活动的开展有利于

- ①形成政府与公民良性互动、协商共治的良好氛围
- ②调动公民参与行使表达权和自治权的积极性
- ③在提高沟通效率的同时提升政府的公信力
- ④保障人民群众直接行使管理公共事务的权利 ×

A. ①③ B. ①④ C. ②③

D. ②④

8. 漫画《与其哭着忍受,不如笑着享受》给我们的哲学启示是
- ①意识活动具有自觉选择性,要发掘深藏于事物内部的本质
 - ②矛盾双方相互贯通,要善于促成事物向好的方面转化
 - ③事物发展是前进性和曲折性的统一,要勇敢面对挫折与考验
 - ④事物的联系是客观的,要从事物的固有联系中把握事物

A. ①②
B. ①④
C. ②③
D. ③④



9. 2022年11月15日,天舟四号货运飞船受控再入大气层,为神舟十四号乘组3人6个月在轨驻留、空间站组装建造以及开展材料科学、微重力、航天医学实验等提供了物资保障。货运飞船撤离空间站组合体后,还开展了相关空间技术试验,为空间站在轨建造和运营管理积累了重要经验。由此可见

- ①只要发挥主观能动性,就能建立新的客观联系,造福人类 ×
- ②通过“思维的眼睛”,人们可以逐步揭开自然界神秘的面纱
- ③人的实践活动是历史地发展着的,实践是认识的目的和归宿
- ④实践是认识的动力,人的认识能力和水平在实践中不断提升

A. ①② B. ①③ C. ②④ D. ③④

10. 长期以来,由于裹泥卷沙、河道摆动、地上悬河等原因,黄河成为世界上水害严重、治理难度最大的河流之一。为加强黄河流域生态环境保护,保障黄河安澜,实现人与自然和谐共生、中华民族永续发展,2022年10月,十二届全国人大常委会表决通过了《中华人民共和国黄河保护法》。《中华人民共和国黄河保护法》的表决通过表明

- ①加强黄河流域的生态环境保护需要完善上层建筑
- ②实现人与自然和谐共生要发挥社会意识的促进作用
- ③保障黄河安澜需要尊重规律,作出正确的价值选择
- ④治理黄河需要调整生产关系,使之与生产力相适应

A. ①③ B. ①④ C. ②③ D. ②④

11. 11月,“2022文化科技创新论坛暨首届深大湾区论坛”在深圳举行,本届论坛以“数字时代的文化强国”为主题,与会嘉宾围绕“文化数字化与文化强国建设”“文化数字化与文化产业发

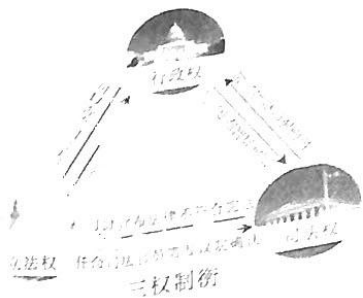
展”“文化数字化的理论与实践”“文化数字化战略实施路径与方式”等相关议题展开研讨。下列参与讨论的部分观点中正确的是

- ①文化数字化要把经济效益放在首位 ×
- ②文化数字化是文化创新和发展的关键
- ③文化数字化能实现优秀传统文化创造性转化
- ④文化数字化有助于发挥文化服务社会的功能

A. ①② B. ①③ C. ②④ D. ③④

【高三思想政治 第3页(共6页)】

12. 2022年美国中期选举备受关注,拜登所在的民主党提前锁定参议院控制权,其结果不但会对美国产生重大影响,而且可能对世界经济产生较大的影响。结合美国三权制衡图,下列情况最有可能出现的是



- ①参议院叫停拜登签署的警察改革行政令
- ②拜登提名的最高法院大法官人选通过
- ③拜登支持乌克兰政府的各项措施通过
- ④最高法院因拜登违宪而启动弹劾程序

A. ①② B. ①④ C. ②③ D. ③④

13. “区域全面经济伙伴关系协定”(RCEP)生效实施以来(协定生效后,部分企业可充分享受RCEP成员方关税及原产地规则优惠),我国各地积极探索,推动高质量实施RCEP。2022年前10个月,我国对RCEP其他14个成员国进出口增长8.4%,持续显示出RCEP区域贸易自由化优势。这将有利于

- ①优化国际贸易环境,大幅提高进出口企业收益率
- ②加快促进产业链与供应链融合,让消费者得到实惠
- ③密切各参与国之间的经贸往来,加快商品要素流动
- ④进一步提高企业走出去的水平,化解企业经营风险

A. ①② B. ①④ C. ②③ D. ③④

14. 我国法律规定,被继承人的房屋作为其遗产由继承人继承,按照房地一体原则,继承人继承取得房屋所有权和宅基地使用权,农村宅基地不能被单独继承。《不动产登记操作规范(试行)》明确规定,非本农村集体经济组织成员(含城镇居民),因继承房屋占用宅基地的,可按相关规定办理确权登记,在不动产登记簿及证书附记栏注记“该权利人为本农民集体经济组织原成员住宅的合法继承人”。上述规定

- ①进一步明晰了宅基地的产权特质
- ②意味着宅基地只有村民才能继承
- ③表明继承后的宅基地所有权流转给继承人
- ④更清晰地划定了宅基地使用权的主体范围

A. ①③ B. ①④ C. ②③ D. ②④

15. 下图为湖南省高级人民法院官网“诉讼服务”栏目的内容,用鼠标点击相应图标即可弹出相关页面。



“诉讼服务”栏目的设立

- ①充分彰显了人民司法为人民
- ②能帮助公民正确行使诉讼权
- ③意在实现审判结果合法合理
- ④是诉讼过程中最重要的环节

A. ①② B. ①③ C. ②④ D. ③④

16. 党的二十大报告对2035年我国发展的总体目标作出谋划,其中之一是“广泛形成绿色生产生活方式,碳排放达峰后稳中有降,生态环境根本好转,美丽中国目标基本实现”。这一目标的提出,是我们党

- ①根据我国社会主义建设规律运用超前思维作出的预测

- ②运用联想思维把绿色低碳产业与高污染企业联结起来
③用辩证思维分析形成绿色生产生活方式的内在联系
④运用聚合思维的头脑风暴方法,集聚群体智慧

A. ①②

B. ①③

C. ②④

D. ③④

二、非选择题:共 52 分。

17. 阅读材料,完成下列要求。(9分)

近年来,湖南积极打造国家重要先进制造业高地。伴随指令,数控机床上的铣刀快速地在合金块上挖出一个光滑如镜的 U 形曲面,生产出这一产品的是株洲的一家专精特新“小巨人”企业。围绕 20 个新兴优势产业链,湖南省奋力在“十四五”期间建成 20 个左右具有国内领先水平的制造业智能制造“标杆企业”,推动 2000 家中小企业实施智能化改造。与此同时,湖南省人民政府抢抓新一轮科技革命和产业变革机遇,细化具体路径,推出有效举措,截至 2022 年 8 月,已构建起“1 个国家级+11 个省级”制造业创新中心、“62 家国家级+320 家省级”企业技术中心创新体系,全省高新技术产业增加值占地区生产总值比重从 2012 年的 15% 上升到 2021 年的 23.9%。

结合材料,运用《经济与社会》的知识,说说湖南是如何发展先进制造业的。

18. 阅读材料,完成下列要求。(18分)

党的二十大报告提出,以中国式现代化全面推进中华民族伟大复兴。

材料一

在现代化的征程中,我国通过民法典,对人民群众关心的高空抛物、民间借贷、霸座、紧急救助等问题,作出了针对性的规定;通过宪法修正案,将生态文明写入宪法,制定了 7 部法律,修改了 17 部法律,环境保护基本制度逐步完善;针对新兴领域风险点、空白区,及时出台网络安全法、电子商务法、数据安全法、个人信息保护法等重要法律,防范化解市场风险;加强涉外领域立法,积极应对涉外安全风险,推动更高水平的对外开放……国家安全、卫生健康、公共文化等领域的基础性、综合性、统领性法律相继出台,为社会发展提供全方位法治保障。

(1) 中国式现代化顺利推进需要良法相伴。结合材料一,运用《政治与法治》的知识对此加以说明。(9分)

材料二

2019 年,安德烈斯来到了当时中国的“电商示范村”M 村。数字经济赋予这个小山村的活力,让安德烈斯颇为震惊。之前 M 村村民们要背着上百斤的核桃,走十几里的山路到城里去卖这些核桃,现在却变身成为包揽加工、包装、销售一条龙产业的电商大户。安德烈斯亲眼看到了一个普普通通的中国农民,在数字经济的加持下,实现了致富梦想。他把中国农村电商经验带到了一万多公里之外的家乡——墨西哥。三年来,漂洋过海的中国农村电商模式,在美洲大地上生根发芽,约 1500 家墨西哥微型企业走上了电商之路。当前,越来越多的人点赞中国式现代化的理念和倡议,呼吁其他国家借鉴和响应。

(2) 结合材料二,综合运用《中国特色社会主义》《当代国际政治与经济》的知识,阐述中国式现代化的世界意义。(9分)

19. 阅读材料,完成下列要求。(6分)

原告卢某于 2018 年创作完成的美术作品《大圣之孙悟空》《卡通静思小悟空》,首次发表时间分别为 2018 年 9 月 30 日和 2018 年 10 月 1 日,并进行了知识产权登记。2022 年 6 月,卢某发现某电子商务平台上开设了一家网络店铺,销售的产品是《大圣之孙悟空》《卡通静思

【高三思想政治 第 5 页(共 6 页)】

小悟空》的复制品,遂于2022年8月3日向某联合服务中心申请证据保全。该中心出具的认证书显示,该店铺系被告某百货商行开设,销售“铜猴子摆件、齐天大圣佛像、纯铜孙悟空斗战胜佛像”等铜像摆件。原告先后在该店订购了上述商品,并提起诉讼,要求被告承担侵权责任。法院审理后发现该实物整体造型与原告登记的作品高度相似,最终判决被告自判决生效之日起立即停止销售侵害原告作品,并判决被告赔偿原告经济损失。

结合材料,运用《法律与生活》的知识,说明法院作出上述判决的法律依据和事实依据。

20. 阅读材料,完成下列要求。(19分)

材料一




我国是世界上最早种植茶树和制作茶叶的国家,茶文化深深融入中国人的生活。数千年前,中国人就开始采茶、制茶、饮茶。经过长期实践,相关社区、群体和个人根据当地风土,运用不同的技艺,发展出绿茶、黄茶、黑茶、白茶、乌龙茶、红茶六大茶类及花茶等再加工茶,品种达到2000多种。

“夫茶之为民用,等于米盐,不可一日以无。”对中国各地民众来说,茶是必需品,他们对茶品有不同的需求。如,江浙一带喜绿茶,闽台地区好乌龙茶,在西藏、青海、新疆、内蒙古等地,人们习惯用黑茶制作酥油茶、奶茶等。

“疏雨半晴回暖气,轻雷初过得新芽。”每年三四月,制茶师们用世代相传的手工艺制作出各种风味的茶品,供人饮用与分享,由此形成了不同的制茶技艺及相关习俗。比如,客人来访要上茶;新婚夫妇在婚礼上要给双方父母奉茶;茶友之间品茶、斗茶。

材料二

下表是湖南入选国家级非物质文化遗产名录的部分非物质文化遗产:

	湘绣是以湖南长沙为中心的带有鲜明湘楚文化特色的湖南刺绣产品的总称,以其浓郁的湘楚地方文化特色和高超的刺绣艺术而闻名天下。湘绣起源于湖南民间刺绣,吸取了苏绣和粤绣的优点而发展起来,已经有2000多年历史,以着色富于层次、绣品若画为特点
	醴陵釉下五彩以“白如玉、明如镜、薄如纸、声如磬”闻名于世,其色彩艳而不俗、淡而有神,其瓷胎平滑光亮、晶莹润泽。釉下五彩瓷是湖南醴陵独创的技艺,具有悠久的历史,从原料到成品要经过一百道工序
	湖南皮影戏在湖南长沙、常德、湘潭等地较为流行,其影人多为“纸偶”,在影型制作上吸收了剪纸、绘画、雕刻等多种民间艺术的精华,雕刻刀法丰富,虚实结合,繁简相映,造型美观,惟妙惟肖。湖南皮影戏传统剧目达数百种,在国内外享有盛名

(1)结合材料一,运用矛盾普遍性与特殊性的关系的知识,说明中华茶文化是文化多样性的见证。(9分)

(2)茶艺是一门生活艺术,构成这门艺术的六要素是人、茶、水、器、境、艺。缺少其中任何一样,茶艺都是不完整的。运用《逻辑与思维》的知识,就茶艺与六要素的关系写两条假言判断。(4分)

(3)运用文化的相关知识,从材料二所列举的三个非物质文化遗产中任选一个,以“一项非遗一片情”为主题写一篇短评。(6分)

要求:①围绕主题,观点明确。②论述充分,逻辑清晰。③学科术语使用规范。④总字数在150个左右。

关于我们

自主选拔在线是致力于提供新高考生涯规划、强基计划、综合评价、三位一体、学科竞赛等政策资讯的升学服务平台。总部坐落于北京，旗下拥有网站（[网址：www.zizzs.com](http://www.zizzs.com)）和微信公众平台等媒体矩阵，用户群体涵盖全国 90% 以上的重点中学师生及家长，在全国新高考、自主选拔领域首屈一指。

如需第一时间获取相关资讯及备考指南，请关注**自主选拔在线**官方微信号：**zizzsw**。



 微信搜一搜

 自主选拔在线