

中学生标准学术能力诊断性测试 2018 年 11 月测试 文科综合试卷 ( 地理 )

本试卷共 300 分，考试时间 150 分钟。

一、选择题：本题共 35 小题，每小题 4 分，共 140 分。在每小题给出的四个选项中，只有一项是符合题目要求的。

“泥火山”指泥浆和气体同时喷出地面堆积而成的锥形丘或盆穴丘，丘的尖端部常有凹陷，并由此间断地喷出泥浆与气体。在新疆北天山分布着众多“泥火山”，喷发出的粘稠泥浆温度比当地气温低，略带油气味，不时爆裂出几个气泡。图 1 为新疆北天山“泥火山”分布图，图 2 为“泥火山”景观图，据此完成 1-3 题。

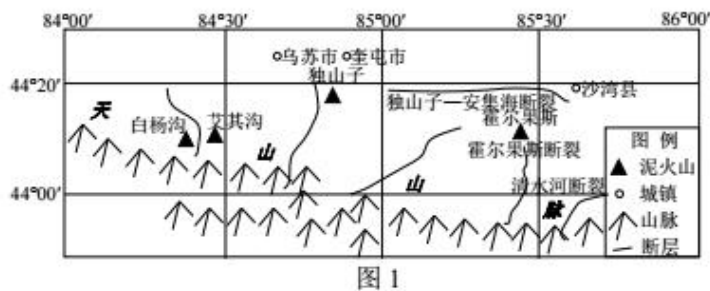


图 1

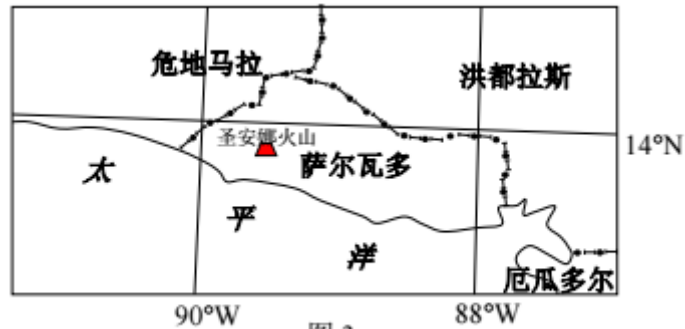


图 2

1. 新疆北天山“泥火山”众多的原因是
  - A. 位于板块交界处
  - B. 冰川侵蚀强烈
  - C. 背斜和断裂构造发育
  - D. 流水侵蚀强烈
2. “泥火山”喷出的气体源自
  - A. 沉积岩层
  - B. 变质岩层
  - C. 侵入岩层
  - D. 喷出岩层
3. 独山子附近“泥火山”形成的地质过程为
  - A. 冰川侵蚀—岩层外露—岩层断裂—泥浆喷出—冰川堆积
  - B. 地壳挤压—地层凹陷—岩层断裂—泥浆喷出—流水堆积
  - C. 地壳抬升—岩层断裂—地层隆起—泥浆喷出—冰川堆积
  - D. 地壳挤压—地层隆起—岩层断裂—泥浆喷出—流水堆积

萨尔瓦多在 2.1 万平方公里的国土上分布着 20 余座火山，素有“火山之国”之称。

2018年8月21日，中萨两国建交，萨尔瓦多希望与我国在旅游、农业、教育、卫生等方面加强合作，尤其希望从中国引进作物种子，以提高农产品的质量，增强农产品的抗灾能力。图3为萨尔瓦多地理位置图，据此完成4-6题。



4. 萨尔瓦多火山众多的原因是

- A. 位于太平洋板块和美洲板块的生长边界  
 B. 位于太平洋板块和美洲板块的消亡边界  
 C. 位于南极洲板块和美洲板块的生长边界  
 D. 位于南极洲板块和美洲板块的消亡边界

5. 萨尔瓦多从我国引进的农作物种子最可能是

- A. 棉花                      B. 咖啡      C. 甘蔗      D. 可可

6. 萨尔瓦多农业发展遭受的主要自然灾害是

- A. 台风   B. 风沙   C. 旱涝   D. 地震

2018年，苹果公司与贵州省的云上贵州公司合作建设了 iCloud 贵安新区主数据中心，由云上贵州运营，苹果公司提供技术支持，用来上传、存储中国苹果用户手机与电脑中的数据。在此之前，中国用户的 iCloud 服务由国外数据中心提供。苹果公司宣称该数据中心将使用 100%的清洁能源。据此完成 7-9 题。

7. 苹果公司在贵安新区建设 iCloud 数据中心的原因包括

- ①共享网络技术   ②改善用户体验   ③享受优惠政策   ④降低运营成本

- A. ①②③   B. ①②④   C. ①③④   D. ②③④

8. 贵州省最丰富的清洁能源是

A . 风能 B . 水能 C . 核能 D . 太阳能

9 . 苹果、华为、腾讯等众多家企业将数据中心选址贵安新区的原因

A . 能够加强技术协作 B . 易形成恶性竞争

C . 造成基础设施重复建设 D . 限制企业规模扩大

2018 年 7 月 1 日，世界最长跨海大桥港珠澳大桥正式通车，使珠港澳三地的陆地通行时间由原来的 3 小时缩短为 30 分钟。图 4 为港珠澳大桥示意图，据此完成 10-11 题。

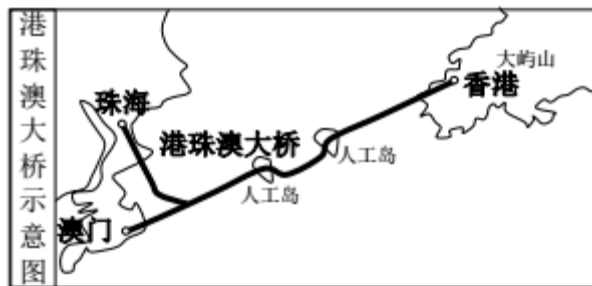


图 4

10 . 港珠澳大桥的通车，受冲击最大的交通运输方式是

A . 铁路 B . 航空 C . 水运 D . 管道

11 . 港珠澳大桥通车后，对珠海带来的影响有

①加大承接香港资金和产业转移，促进经济发展

②吸引香港居民到此置业，促进房地产业发展

③导致大量的人才和劳动力流失

④加强与港澳的交流与协作，促进经济发展

A . ①②③ B . ①②④ C . ②③④ D . ①③④

**二、非选择题：共160分。第36~42为必考题，每个试题考生都必须作答。第43~47为选考题，考生根据要求作答。**

(一) 必考题：共135分

36. 阅读图文资料，完成下列要求。(24分)

的的喀喀湖(见图7)位于秘鲁和玻利维亚交界的安第斯山脉东侧阿尔蒂普拉高原，是南美洲地势最高、面积最大的淡水湖，被称为“高原明珠”。的的喀喀湖海拔高而不冻，处于内陆而不咸。湖泊周围区域是南美洲印第安人文化的发源地之一，湖上还留存着一个奇观，那就是乌鲁族人用当地生产的芦苇草捆扎而成建立的一座座漂浮岛。

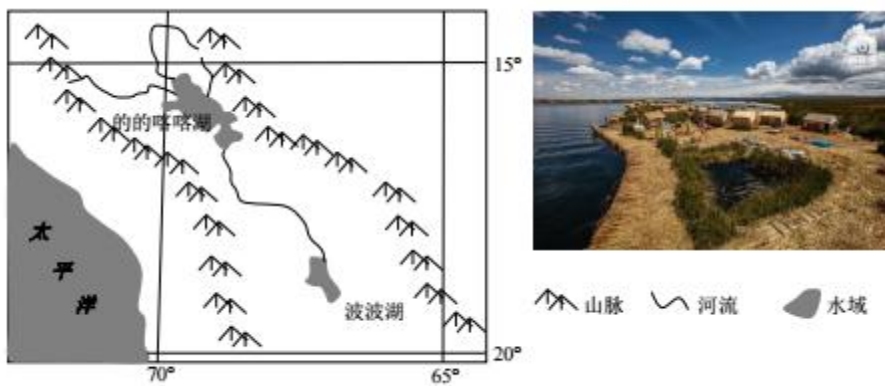


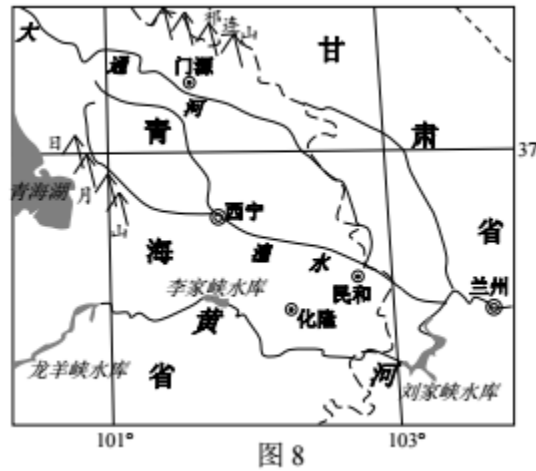
图7

- (1) 说明的的喀喀湖海拔高而不冻，处于内陆而不咸的原因。(12分)
- (2) 分析印第安人文化发源于的的喀喀湖周边地区的有利地理条件。(4分)
- (3) 说明乌鲁族人用芦苇草建造漂浮岛的理由。(8分)

37. 阅读图文资料，完成下列要求。(22分)

据说中国有几万家兰州牛肉面馆，号称“中国肯德基”，但大部分不是兰州人开的，而是青海化隆人。青海省化隆县(见图8)共有12万人在全国271个大中城市开1.5万家拉面馆，化隆县仅有30.05万人，这意味着每5个化隆人就有2个是做拉面的。“拉面经济”为化隆带来了近百亿的经济收入，占农民人均纯收入的53%。走出去的

化隆人在创造“拉面经济”的同时，也带活了家乡的拉面相关产业。

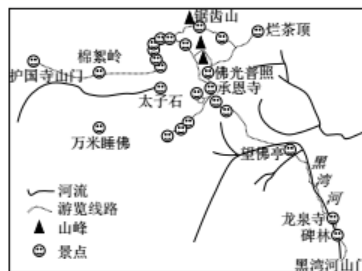


- (1) 结合图8 及所学知识，用整体性原理描述化隆县的自然地理特征。(8 分)
- (2) 说明化隆人外出开拉面馆给当地带来的影响。(6 分)
- (3) 推测“拉面经济”带动化隆县发展的产业类型。(4 分)
- (4) 请为化隆进一步发展拉面经济提出合理建议。(4 分)

(二) 选考题:共 25 分。请考生从 2 道地理题、3 道历史题中每科任选一题作答。如果多做，则每科按所做的第一题 计分。

43【地理—选修3：旅游地理】(10 分)

梵净山位于贵州东北部武陵山脉中段，2018 年 7 月 2 日，被列入世界自然遗产名录。它拥有广袤的原始森林，千姿百态的山崖，悠久的佛教文化，亚热带最完整的生物体系；栖息着黔金丝猴、珙桐、紫薇等珍稀动植物；分布着黄河以南地区 10 多亿年古老的地质台地。图9 为梵净山游览图。



说明梵净山的主要旅游资源类型及其价值。

44【地理—选修6：环境保护】(10分)

洋垃圾指进口的固体废物，其中以垃圾钢琴，垃圾服装，垃圾电子产品等最普遍。由于洋垃圾已经对我国造成了巨大的危害，2018年3月，生态环境部审议并原则通过《关于全面落实〈禁止洋垃圾入境推进固体废物进口管理制度改革实施方案〉2018-2020年行动方案》《进口固体废物加工利用企业环境违法问题专项督查行动方案(2018年)》和《垃圾焚烧发电行业达标排放专项整治行动方案》

分析洋垃圾入境对我国产生的危害，并就减少洋垃圾入境提出预防措施。

**自主招生在线**创始于2014年，是专注于自主招生、学科竞赛、全国高考的升学服务平台，旗下拥有网站和微信两大媒体矩阵，关注用户超百万，用户群体涵盖全国90%以上的重点中学老师、家长和考生，引起众多重点高校的关注。

如需第一时间获取相关资讯及备考指南，请关注**自主招生在线**官方微信号：**zizzsw**。



微信扫一扫，快速关注